

मोशन है, तो भरसा है

MOTION
18 YEARS OF LEGACY



NEET 2025
MOCK TEST
PAPERS



Sample Paper - 08

NEET

KOTA

Duration: 3 Hours

Max Marks: 720

IMPORTANT INSTRUCTIONS

1. The test is of **3 hours** duration and the Test Booklet contains **180** multiple-choice questions (four options with a single correct answer) from **Physics (45 Ques.), Chemistry (45 Ques.)** and **Biology (90 Ques.)**. [All Questions are compulsory]
2. Each question carries **4** marks. For each correct response, the candidate will get **4** marks. For each incorrect response, one mark will be deducted from the total score. **The maximum marks are 720.**
3. Rough work is to be done in the space provided for this purpose in the Test Booklet only.
4. Blank papers, Clipboards, Log tables, Slide Rule, Calculators, Cellular Phones, Pagers and Electronic Gadgets in any form are **not** allowed to be carried inside the examination hall.

GENERAL INSTRUCTION FOR FILLING THE OMR

1. Use **Blue/Black Ball Point Pen only** for marking responses on Answer Sheet (OMR sheet).
2. Indicate the correct answer for each question by filling appropriate bubble in your OMR answer sheet.
3. While filling the bubbles please be careful about Question Number

महत्वपूर्ण निर्देश

1. परीक्षा अवधि **3 घंटा** है एवं परीक्षा पुस्तिका में **भौतिकी, (45 प्रश्न), रसायनशास्त्र (45 प्रश्न) एवं जीव विज्ञान (45 प्रश्न)** विषयों से कुल **180** बहुविकल्पीय प्रश्न हैं (4 विकल्पों में से एक सही उत्तर है)। **[सभी प्रश्न अनिवार्य हैं]**
2. प्रत्येक प्रश्न **4** अंक का है। प्रत्येक सही उत्तर के लिए परीक्षार्थी को **4** अंक दिए जाएंगे। प्रत्येक गलत उत्तर के लिए कुल योग में से **एक अंक** घटाया जाएगा। **अधिकतम अंक 720 हैं।**
3. रफ कार्य इस परीक्षा पुस्तिका में केवल निर्धारित स्थान पर ही करें।
4. खाली पेपर, क्लिप बोर्ड, लॉग टेबल, स्लाइड रूल, कैलकुलेटर, सेल्युलर फोन, पेजर और इलेक्ट्रॉनिक गैजेट्स को किसी भी रूप में परीक्षा हॉल के अंदर ले जाने की अनुमति **नहीं** है।

OMR भरने के लिए सामान्य निर्देश

1. उत्तर पुस्तिका (OMR पुस्तिका) पर निशान लगाने के लिए **केवल नीले/काले बॉल पॉइंट पेन** का प्रयोग करें।
2. उत्तर अपनी OMR उत्तर पुस्तिका में उपयुक्त गोले भरके प्रत्येक प्रश्न के लिए सही उत्तर अंकित करें।
3. उत्तर गोले भरते समय प्रश्न संख्या पर ध्यान दें।

SYLLABUS

FULL SYLLABUS

Physics

FULL SYLLABUS

Chemistry

FULL SYLLUBS

Biology

PHYSICS

[PHYSICS]

1. A gas is compressed at a constant pressure of 50N/m^2 from a volume of 10m^3 to a volume of 4m^3 . Energy of 100J is then added to the gas by heating. Its internal energy is –
 - (1) Increased by 400J
 - (2) Increased by 200J
 - (3) Increased by 100J
 - (4) Decreased by 200J
2. Which of the following is NOT a fundamental quantity?
 - (1) Temperature
 - (2) Electric charge
 - (3) Mass
 - (4) Electric current
3. What is the smallest electric force between two charges placed at a distance 1.0m ?
 - (1) $3.204 \times 10^{-24}\text{N}$
 - (2) $2.304 \times 10^{-28}\text{N}$
 - (3) $4.204 \times 10^{-22}\text{N}$
 - (4) $5.204 \times 10^{-20}\text{N}$
4. The co-ordinates of a particle moving in x-y plane are given by ; $x = 2 + 4t$, $y = 3t + 8t^2$.The motion of the particle is -
 - (1) uniform motion along a straight line
 - (2) uniformly accelerated having motion along a parabolic path
 - (3) non-uniformly accelerated
 - (4) uniformly accelerated having motion along a straight line
5. A 2MeV proton is moving perpendicular to a uniform magnetic field of 2.5T . The force on proton is –
 - (1) $2.5 \times 10^{-10}\text{N}$
 - (2) $8 \times 10^{11}\text{N}$
 - (3) $2.5 \times 10^{-11}\text{N}$
 - (4) $8 \times 10^{-12}\text{N}$
1. एक गैस 50N/m^2 के नियत दाब पर 10m^3 के आयतन से 4m^3 के आयतन तक संपीड़ित की जाती है। फिर 100J की ऊर्जा गर्म करके (by heating) गैस में जोड़ी जाती है। इसकी आंतरिक उर्जा-
 - (1) 400J से बढ़ती है
 - (2) 200J से बढ़ती है
 - (3) 100J से बढ़ती है
 - (4) 200J से घटती है
2. निम्नलिखित में से कौनसी मूल राशि नहीं है?
 - (1) तापमान
 - (2) विद्युत आवेश
 - (3) द्रव्यमान
 - (4) विद्युत धारा
3. 1.0 मीटर दूरी पर रखे दो आवेशों के बीच लघुत्तम विद्युत बल क्या है?
 - (1) $3.204 \times 10^{-24}\text{N}$
 - (2) $2.304 \times 10^{-28}\text{N}$
 - (3) $4.204 \times 10^{-22}\text{N}$
 - (4) $5.204 \times 10^{-20}\text{N}$
4. x-y तल में गतिमान एक कण के निर्देशांक निम्न प्रकार दिये गये हैं $x = 2 + 4t$, $y = 3t + 8t^2$ कण की गति है।
 - (1) एक सरलरेखा के अनुदिश एकसमान गति
 - (2) परवलयिक पथ के अनुदिश एकसमान त्वरित गति
 - (3) असमान त्वरित
 - (4) सीधी रेखा के अनुदिश एकसमान त्वरित गति
5. एक 2MeV प्रोटॉन 2.5T के एकसमान चुंबकीय क्षेत्र के लंबवत घूम रहा है। प्रोटॉन पर बल है –
 - (1) $2.5 \times 10^{-10}\text{N}$
 - (2) $8 \times 10^{11}\text{N}$
 - (3) $2.5 \times 10^{-11}\text{N}$
 - (4) $8 \times 10^{-12}\text{N}$

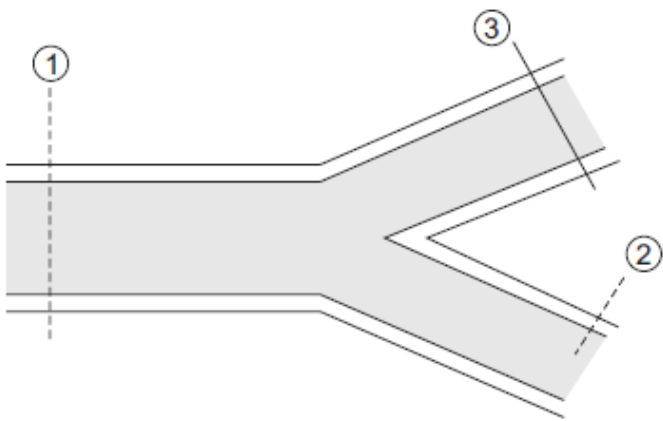
6. A wire of length 'L' and radius 'r' is clamped rigidly at one end. When the other end of the wire is pulled by a force f , its length increases by 'l'. Another wire of same material of length '2L' and radius '2r' is pulled by a force '2f'. Then the increase in its length will be :

(1) $l/2$
 (2) $4l$
 (3) l
 (4) $2l$

7. A body cools from a temperature $3T$ to $2T$ in 10 minutes. The room temperature is T . Assume that Newton's law of cooling is applicable. The temperature of the body at the end of next 10 minutes will be

(1) T
 (2) $\frac{7}{4} T$
 (3) $\frac{3}{2} T$
 (4) $\frac{4}{3} T$

8. A broad pipe having a radius 10 cm branches into two pipes of radii, 5 cm and 3 cm. If the velocity of flowing water in the pipe of radius 3 cm be 5 cm/s, determine the velocities of water in the remaining two pipes. Given that the rate of discharge through the main branch, is $600\pi \text{ cm}^3/\text{s}$.



(1) $v_1 = 6 \text{ cm/s}$ and $v_2 = 22.2 \text{ cm/s}$
 (2) $v_1 = 4 \text{ cm/s}$ and $v_2 = 12.2 \text{ cm/s}$
 (3) $v_1 = 3 \text{ cm/s}$ and $v_2 = 12.2 \text{ cm/s}$
 (4) None

9. Which of the following represents the dimensions of Farad

(1) $M^{-1}L^{-2}T^4A^2$
 (2) $ML^2T^2A^{-2}$
 (3) $ML^2T^2A^{-1}$
 (4) $MT^{-2}A^{-1}$

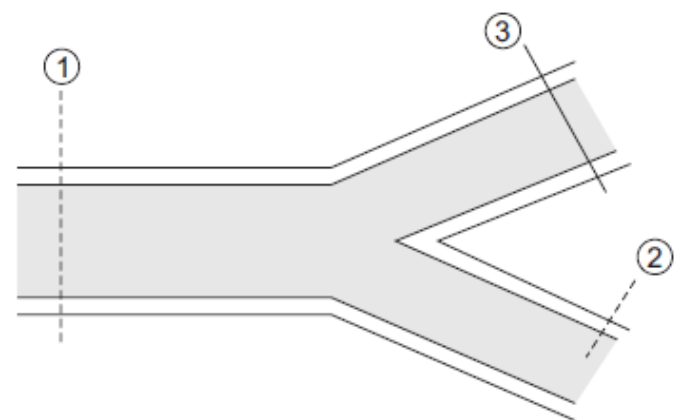
6. 'L' लम्बाई एवं 'r' त्रिज्या वाला कोई तार अपने एक सिरे से हड़ता पूर्वक बँधा हुआ है। जब तार का दूसरा सिरा बल f द्वारा खींचा जाता है, तो इसकी लम्बाई में 'l' वृद्धि हो जाती है। समान पदार्थ से बना '2 L' लम्बाई एवं '2r' त्रिज्या वाला तार इसी प्रकार से '2f' बल द्वारा खींचा जाता है। अब लम्बाई में वृद्धि होगी:

(1) $l/2$
 (2) $4l$
 (3) l
 (4) $2l$

7. किसी वस्तु का ताप $3T$ से $2T$ तक गिरने में 10 मिनट का समय लगता है। कमरे का ताप T है। यदि इसमें न्यूटन के शीतलन नियम का अनुपालन होता है, तो अगले 10 मिनट के अन्त में वस्तु का ताप होगा

(1) T
 (2) $\frac{7}{4} T$
 (3) $\frac{3}{2} T$
 (4) $\frac{4}{3} T$

8. 10 cm त्रिज्या वाला एक चौड़ा पाइप 5 cm और 3 cm त्रिज्या वाले दो पाइपों में विभाजित होता है। यदि 3 cm त्रिज्या वाले पाइप में बहते पानी का वेग 5 cm/s है, तो शेष दो पाइपों में पानी का वेग ज्ञात करें। दिया गया है कि मुख्य शाखा के माध्यम से निर्वहन की दर $600\pi \text{ cm}^3/\text{s}$ है।



(1) $v_1 = 6 \text{ cm/s}$ और $v_2 = 22.2 \text{ cm/s}$
 (2) $v_1 = 4 \text{ cm/s}$ और $v_2 = 12.2 \text{ cm/s}$
 (3) $v_1 = 3 \text{ cm/s}$ और $v_2 = 12.2 \text{ cm/s}$
 (4) कोई नहीं

9. निम्नलिखित में से कौन फैराड की विमाओं को दर्शाता है

(1) $M^{-1}L^{-2}T^4A^2$
 (2) $ML^2T^2A^{-2}$
 (3) $ML^2T^2A^{-1}$
 (4) $MT^{-2}A^{-1}$

10. A particle is projected upward from the surface of earth (radius= R) with a speed equal to the orbital speed of a satellite near the earth's surface. The height to which it would rise is

- (1) $\sqrt{2}R$
- (2) $\frac{R}{\sqrt{2}}$
- (3) R
- (4) $2R$

11. Two projectiles A and B are thrown with initial velocities of 40 m/s and 60 m/s at angles 30° and 60° with the horizontal respectively. The ratio of their ranges respectively is ($g = 10 \text{ m/s}^2$):-

- (1) $2 : \sqrt{3}$
- (2) $\sqrt{3} : 2$
- (3) $4 : 9$
- (4) $1 : 1$

12. If the radius of a coil is changing at the rate 10^{-2} SI units in a normal magnetic field 10^{-3} SI units, the induced emf is $1\mu\text{V}$. What is the final radius of the coil ?

- (1) 1.6 cm
- (2) 16 cm
- (3) 12 cm
- (4) 1.2 cm

13. Air outside a water lake is blowing at -40°C . It takes 10 hours for first two centimeter of ice layer to form over the lake. Time taken to form next four centimeter of ice layer formation will be

- (1) 20 hours
- (2) 40 hours
- (3) 60 hours
- (4) 80 hours

14. In the formula $X = 3YZ^2$, X and Z have dimensions of capacitance and magnetic induction respectively. The dimensions of Y in MKSA system are -

- (1) $\text{M}^{-3}\text{L}^{-2}\text{T}^{-2}\text{A}^{-4}$
- (2) ML^{-2}
- (3) $\text{M}^{-3}\text{L}^{-2}\text{A}^4\text{T}^8$
- (4) $\text{M}^{-3}\text{L}^{-2}\text{A}^4\text{T}^4$

10. एक कण को पृथ्वी की सतह (त्रिज्या = R) से ऊपर की ओर प्रक्षेपित किया जाता है, जिसकी चाल पृथ्वी की सतह के पास एक उपग्रह की कक्षीय चाल के बराबर होती है। वह जिस ऊँचाई तक उठेगा वह है

- (1) $\sqrt{2}R$
- (2) $\frac{R}{\sqrt{2}}$
- (3) R
- (4) $2R$

11. दो प्रक्षेप्य A व B को क्षैतिज से 30° व 60° के कोण पर क्रमशः 40 m/s व 60 m/s के प्रारंभिक वेग से प्रक्षेपित किया जाता है। इनकी परासों का अनुपात क्रमशः है ($g = 10 \text{ m/s}^2$):-

- (1) $2 : \sqrt{3}$
- (2) $\sqrt{3} : 2$
- (3) $4 : 9$
- (4) $1 : 1$

12. यदि किसी कुंडली की त्रिज्या, 10^{-3} SI मात्रक के लम्बवत् चुंबकीय क्षेत्र में, 10^{-2} SI मात्रक की दर से बदल रही है, तो प्रेरित विद्युत वाहक बल $1\mu\text{V}$ है। कुंडली की अंतिम त्रिज्या क्या है?

- (1) 1.6 cm
- (2) 16 cm
- (3) 12 cm
- (4) 1.2 cm

13. एक जल झील के बाहर हवा -40°C पर चल रही है। झील के ऊपर बर्फ की पहली दो सेंटीमीटर परत बनने में 10 घंटे लगते हैं। अगले चार सेंटीमीटर बर्फ की परत बनने में लगने वाला समय होगा

- (1) 20 घंटे
- (2) 40 घंटे
- (3) 60 घंटे
- (4) 80 घंटे

14. सूत्र $X = 3YZ^2$ में, X और Z में क्रमशः धारिता और चुंबकीय प्रेरण की विमायें हैं। MKSA प्रणाली में Y की विमायें हैं -

- (1) $\text{M}^{-3}\text{L}^{-2}\text{T}^{-2}\text{A}^{-4}$
- (2) ML^{-2}
- (3) $\text{M}^{-3}\text{L}^{-2}\text{A}^4\text{T}^8$
- (4) $\text{M}^{-3}\text{L}^{-2}\text{A}^4\text{T}^4$

15. If the period of revolution of an artificial satellite just above the earth's surface is T and the density of earth is ρ . then ρT^2

(1) is a universal constant whose value is $\frac{3\pi}{G}$

(2) is a universal constant whose value is $\frac{3\pi}{2G}$

(3) is proportional to radius of earth R

(4) is proportional to square of the radius of earth R^2

16. A car is moving with a constant speed of 20 m/s in a circular horizontal track of radius 40 m . A bob is suspended from the roof of the car by a massless string. The angle made by the string with the vertical will be : (Take $g = 10 \text{ m/s}^2$)

(1) $\frac{\pi}{3}$

(2) $\frac{\pi}{2}$

(3) $\frac{\pi}{4}$

(4) $\frac{\pi}{6}$

17. When you walk through a metal detector carrying a metal object in your pocket, it raises an alarm. This phenomenon works on :

(1) Electromagnetic induction

(2) Resonance in ac circuits

(3) Mutual induction in ac circuits

(4) Interference of electromagnetic waves

15. यदि पृथ्वी की सतह के ठीक ऊपर एक कृत्रिम उपग्रह का परिक्रमण काल T है और पृथ्वी का घनत्व ρ है, तो ρT^2

(1) एक सार्वभौमिक स्थिरांक है जिसका मान $\frac{3\pi}{G}$ है

(2) एक सार्वभौमिक स्थिरांक है जिसका मान $\frac{3\pi}{2G}$ है

(3) पृथ्वी की त्रिज्या R के समानुपातिक है

(4) पृथ्वी की त्रिज्या के वर्ग R^2 के समानुपाती है

16. एक कार 40 m त्रिज्या के वृत्ताकार क्षैतिज पथ में 20 m/s की नियत चाल से गतिमान है। द्रव्यमान रहित डोरी द्वारा एक गोलक को कार की छत से निलंबित किया जाता है। डोरी द्वारा उर्ध्वाधर से बनाया गया कोण होगा: ($g = 10 \text{ m/s}^2$)

(1) $\frac{\pi}{3}$

(2) $\frac{\pi}{2}$

(3) $\frac{\pi}{4}$

(4) $\frac{\pi}{6}$

17. जब आप अपनी जेब में धातु की कोई वस्तु लेकर मेटल डिटेक्टर से गुजरते हैं, तो यह अलार्म बजाता है। यह घटना निम्न पर काम करती है:-

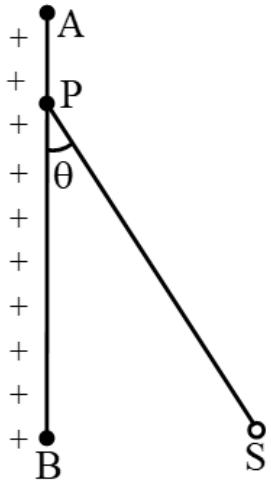
(1) विद्युत चुम्बकीय प्रेरण

(2) प्रत्यावर्ती धारा परिपथों में अनुनाद

(3) प्रत्यावर्ती धारा परिपथों में अन्योन्य प्रेरण

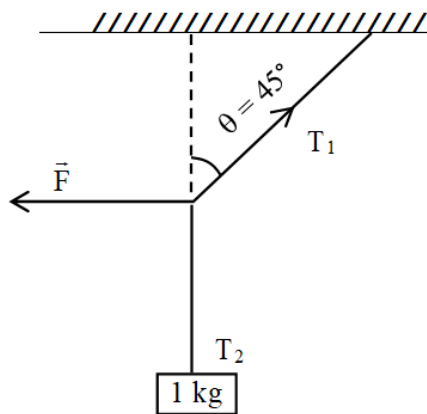
(4) विद्युत चुम्बकीय तरंगों का व्यतिकरण

- 18.** An infinite plane with uniformly distributed positive charge has surface charge of σ coulomb/ metre². A metallic sphere S of mass m and charge $+Q$ is attached to a thread and tied to a point P on the sheet AB as shown in figure. Find the angle which PS makes with the plane AB.



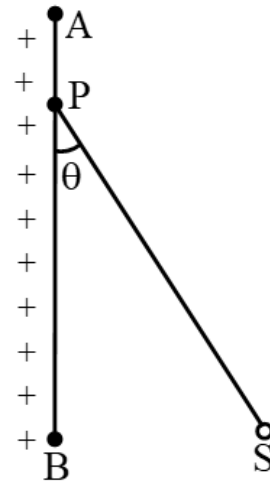
- (1) $\tan^{-1} \left(\frac{\sigma Q}{\epsilon_0 mg} \right)$
 (2) $\tan^{-1} \left(\frac{\sigma Q}{2\epsilon_0 mg} \right)$
 (3) $\tan^{-1} \left(\frac{\sigma Q}{4\epsilon_0 mg} \right)$
 (4) $\tan^{-1} \left(\frac{2\sigma Q}{\epsilon_0 mg} \right)$

- 19.** A 1 kg mass is suspended from the ceiling by a rope of length 4m. A horizontal force 'F' is applied at the mid-point of the rope so that the rope makes an angle of 45° with respect to the vertical axis as shown in figure. The magnitude of F is: (Assume that the system is in equilibrium and $g = 10 \text{ m/s}^2$)



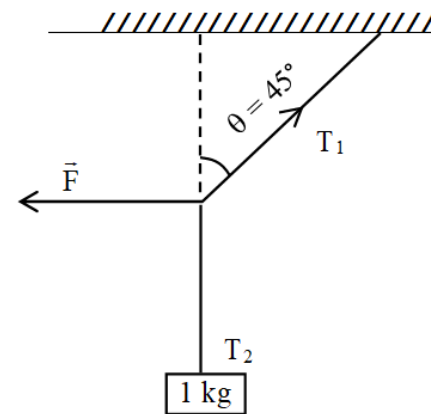
- (1) 10 N
 (2) 1 N
 (3) $\frac{10}{\sqrt{2}}$ N
 (4) $\frac{1}{10 \times \sqrt{2}}$ N

- 18.** एकसमान रूप से वितरित धनात्मक आवेश वाले अनंत तल का पृष्ठीय आवेश σ कूलम्ब/मीटर² है। द्रव्यमान m और आवेश $+Q$ वाले एक धात्विक गोले S को एक धागे से जोड़ा गया है तथा चित्र में दिखाए अनुसार शीट AB पर एक बिंदु P से बांधा गया है। PS द्वारा समतल AB के साथ बनाया गया कोण ज्ञात कीजिए।



- (1) $\tan^{-1} \left(\frac{\sigma Q}{\epsilon_0 mg} \right)$
 (2) $\tan^{-1} \left(\frac{\sigma Q}{2\epsilon_0 mg} \right)$
 (3) $\tan^{-1} \left(\frac{\sigma Q}{4\epsilon_0 mg} \right)$
 (4) $\tan^{-1} \left(\frac{2\sigma Q}{\epsilon_0 mg} \right)$

- 19.** 1 kg का द्रव्यमान 4 m लंबी रस्सी द्वारा छत से लटकाया गया है। रस्सी के मध्य-बिंदु पर एक क्षैतिज बल 'F' लगाया जाता है ताकि रस्सी ऊर्ध्वाधर अक्ष के सापेक्ष 45° का कोण बनाये जैसा कि चित्र में दिखाया गया है। F का परिमाण है: (मान लें कि निकाय साम्यावस्था में है और $g = 10 \text{ m/s}^2$)



- (1) 10 N
 (2) 1 N
 (3) $\frac{10}{\sqrt{2}}$ N
 (4) $\frac{1}{10 \times \sqrt{2}}$ N

20. 5.6 liter of helium gas at STP is adiabatically compressed to 0.7 liter. Taking the initial temperature to be T_1 , the work done in the process is-

- (1) $\frac{9}{8}RT_1$
- (2) $\frac{3}{2}RT_1$
- (3) $\frac{15}{8}RT_1$
- (4) $\frac{9}{2}RT_1$

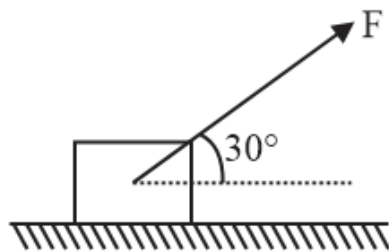
21. The number of significant figures in 11.118×10^{-6} is

- (1) 3
- (2) 4
- (3) 5
- (4) 6

22. When a proton is accelerated through 1V its kinetic energy will be :

- (1) 1540 eV
- (2) 13.6 eV
- (3) 1 eV
- (4) zero

23. As shown in the figure a block of mass 10 kg lying on a horizontal surface is pulled by a force F acting at an angle 30° , with horizontal. For $\mu_3 = 0.25$, the block will just start to move for the value of F : Given $[g = 10 \text{ ms}^{-2}]$



- (1) 20 N
- (2) 33.3 N
- (3) 25.2 N
- (4) 35.7 N

24. A 2m long rod of radius 1 cm which is fixed from one end is given a twist of 0.8 radians. The shear strain developed will be

- (1) 0.002
- (2) 0.004
- (3) 0.008
- (4) 0.016

20. STP पर 5.6 लीटर हीलियम गैस को रुद्धोष्म रूप से 0.7 लीटर तक संपीड़ित किया जाता है। प्रारंभिक तापमान को T_1 मानते हुए प्रक्रम में किया गया कार्य है-

- (1) $\frac{9}{8}RT_1$
- (2) $\frac{3}{2}RT_1$
- (3) $\frac{15}{8}RT_1$
- (4) $\frac{9}{2}RT_1$

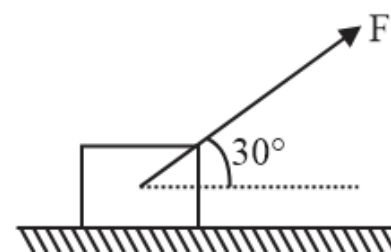
21. 11.118×10^{-6} में सार्थक अंकों की संख्या है

- (1) 3
- (2) 4
- (3) 5
- (4) 6

22. जब एक प्रोटॉन को 1V त्वरित किया जाता है तो उसकी गतिज ऊर्जा होगी:

- (1) 1540 eV
- (2) 13.6 eV
- (3) 1 eV
- (4) शून्य

23. जैसा कि चित्र में दिखाया गया है कि क्षैतिज सतह पर रखे हुए 10 kg द्रव्यमान के एक ब्लॉक को क्षैतिज के साथ 30° के कोण पर कार्यरत बल F द्वारा खींचा जाता है। $\mu_3 = 0.25$ के लिए, F के किस मान के लिए ब्लॉक मात्र गति करना प्रारम्भ कर देगा ? दिया गया है $[g = 10 \text{ ms}^{-2}]$



- (1) 20 N
- (2) 33.3 N
- (3) 25.2 N
- (4) 35.7 N

24. 1 cm त्रिज्या वाली 2m लंबी छड़ को एक सिरे से दृढ़ करके 0.8 रेडियन कोण से मोड़ा जाता है। उत्पन्न होने वाली अपरूपण विकृति होगी -

- (1) 0.002
- (2) 0.004
- (3) 0.008
- (4) 0.016

25. A student measures time for 20 oscillations of a simple pendulum as 30 s, 32 s, 35 s and 31 s. If the minimum division in the measuring clock is 1 s, then correct mean time in second is

- (1) 32 ± 3
- (2) 32 ± 1
- (3) 32 ± 2
- (4) 32 ± 5

26. A copper wire is stretched to make it 0.1% longer, what is the percentage change in its resistance ?

- (1) 0.2%
- (2) 0.6%
- (3) 0.8%
- (4) 0.5%

27. The nucleus of nucleon number 6, has nuclear radius $3 \times 10^{-15} \text{ m}$, then the radius of nucleus having nucleon number 162 is :

- (1) $1.5 \times 10^{-15} \text{ m}$
- (2) $3 \times 10^{-15} \text{ m}$
- (3) $6 \times 10^{-15} \text{ m}$
- (4) $9 \times 10^{-15} \text{ m}$

28. A copper block of mass 2 kg is heated to a temperature of 500°C and then placed in a large block of ice at 0°C . What is the maximum amount of ice that can melt? The specific heat of copper is $400 \text{ J kg}^{-1} ^\circ\text{C}^{-1}$ and latent heat of fusion of water is $3.5 \times 10^5 \text{ J kg}^{-1}$

- (1) $\frac{4}{3} \text{ kg}$
- (2) $\frac{6}{5} \text{ kg}$
- (3) $\frac{8}{7} \text{ kg}$
- (4) $\frac{10}{9} \text{ kg}$

29. A Vernier calipers has 1 mm marks on the main scale. It has 20 equal divisions on the Vernier scale which match with 16 main scale division. For this Vernier calipers the least count is

- (1) 0.02 mm
- (2) 0.05 mm
- (3) 0.1 mm
- (4) 0.2 mm

25. एक छात्र एक साधारण लोलक के 20 दोलनों के लिए समय को 30 s, 32 s, 35 s और 31 s के रूप में मापता है। यदि मापने वाली घड़ी में न्यूनतम विभाजन 1 सेकंड है, तो सेकंड में सही औसत समय है

- (1) 32 ± 3
- (2) 32 ± 1
- (3) 32 ± 2
- (4) 32 ± 5

26. एक तांबे के तार को 0.1% लम्बा करने के लिए खींचा जाता है, इसके प्रतिरोध में प्रतिशत परिवर्तन क्या है?

- (1) 0.2%
- (2) 0.6%
- (3) 0.8%
- (4) 0.5%

27. न्यूक्लियोन संख्या 6 के नाभिक की नाभिकीय त्रिज्या $3 \times 10^{-15} \text{ m}$ है तो न्यूक्लियोन संख्या 162 वाले नाभिक की त्रिज्या होगी -

- (1) $1.5 \times 10^{-15} \text{ m}$
- (2) $3 \times 10^{-15} \text{ m}$
- (3) $6 \times 10^{-15} \text{ m}$
- (4) $9 \times 10^{-15} \text{ m}$

28. 2 kg द्रव्यमान के एक तांबे के ब्लॉक को 500°C के तापमान तक गर्म किया जाता है और फिर 0°C पर बर्फ के एक बड़े ब्लॉक में रखा जाता है। बर्फ की अधिकतम कितनी मात्रा पिघल सकती है? तांबे की विशिष्ट ऊष्मा $400 \text{ J kg}^{-1} ^\circ\text{C}^{-1}$ है और पानी के गलन की गुप्त ऊष्मा $3.5 \times 10^5 \text{ J kg}^{-1}$ है

- (1) $\frac{4}{3} \text{ kg}$
- (2) $\frac{6}{5} \text{ kg}$
- (3) $\frac{8}{7} \text{ kg}$
- (4) $\frac{10}{9} \text{ kg}$

29. एक वर्नियर कैलीपर्स के मुख्य पैमाने पर 1mm चिह्न अंकित है। इसके वर्नियर पैमाने पर 20 समान भाग हैं जो मुख्य पैमाने के 16 भागों से मेल खाते हैं। इस वर्नियर कैलीपर्स का अल्पतमांक है -

- (1) 0.02mm
- (2) 0.05mm
- (3) 0.1mm
- (4) 0.2 mm

30. A 220 V, 100 W bulb is connected to a 110 V source. Calculate the power consumed by the bulb

- (1) 28 W
- (2) 21 W
- (3) 23 W
- (4) 25 W

31. One electron & one proton is accelerated by equal potential. Ratio in their de-broglie wavelength is-

- (1) $\sqrt{\frac{m_p}{m_e}}$
- (2) $\sqrt{\frac{m_e}{m_p}}$
- (3) $\frac{m_p}{m_e}$
- (4) 1

32. Match the corresponding entries of column 1 with column 2. [Where 'm' is the magnification produced by the mirror]

Column 1	Column 2
(A) $m = -2$	(a) Convex mirror
(B) $m = -\frac{1}{2}$	(b) Concave mirror
(C) $m = +2$	(c) Real image
(D) $m = +\frac{1}{2}$	(d) Virtual image

- (1) $A \rightarrow b$ and c ; $B \rightarrow b$ and c ; $C \rightarrow b$ and d ; $D \rightarrow a$ and d
- (2) $A \rightarrow a$ and c ; $B \rightarrow a$ and d ; $C \rightarrow a$ and b ; $D \rightarrow c$ and d
- (3) $A \rightarrow a$ and d ; $B \rightarrow b$ and c ; $C \rightarrow b$ and d ; $D \rightarrow b$ and c
- (4) $A \rightarrow c$ and d ; $B \rightarrow b$ and d ; $C \rightarrow b$ and c ; $D \rightarrow a$ and d

33. Power applied to a particle varies with time as $P = (3t^2 - 2t + 1)$ watt, where t is in seconds. The change in its kinetic energy between time $t = 2s$ and $t = 4s$ will be :-

- (1) 32 J
- (2) 46 J
- (3) 61 J
- (4) 102 J

30. एक 220 V, 100 W बल्ब 110 V स्रोत से जुड़ा हुआ है। बल्ब द्वारा उपभोग की गई शक्ति की गणना करें

- (1) 28 W
- (2) 21 W
- (3) 23 W
- (4) 25 W

31. एक इलेक्ट्रॉन और एक प्रोटॉन को समान विभव से त्वरित किया जाता है। उनके डी-ब्रॉग्ली तरंगदैर्घ्य में अनुपात है-

- (1) $\sqrt{\frac{m_p}{m_e}}$
- (2) $\sqrt{\frac{m_e}{m_p}}$
- (3) $\frac{m_p}{m_e}$
- (4) 1

32. कॉलम-1 की संगत प्रविष्टियों का मिलान कॉलम-2 की प्रविष्टियों से कीजिए। यहाँ 'm' दर्पण द्वारा उत्पन्न आवर्धन है।

कॉलम 1	कॉलम 2
(A) $m = -2$	(a) उत्तल दर्पण
(B) $m = -\frac{1}{2}$	(b) अवतल दर्पण
(C) $m = +2$	(c) वास्तविक प्रतिबिम्ब
(D) $m = +\frac{1}{2}$	(d) आभासी प्रतिबिम्ब

- (1) $A \rightarrow b$ तथा c ; $B \rightarrow b$ तथा c ; $C \rightarrow b$ तथा d ; $D \rightarrow a$ तथा d
- (2) $A \rightarrow a$ तथा c ; $B \rightarrow a$ तथा d ; $C \rightarrow a$ तथा b ; $D \rightarrow c$ तथा d
- (3) $A \rightarrow a$ तथा d ; $B \rightarrow b$ तथा c ; $C \rightarrow b$ तथा d ; $D \rightarrow b$ तथा c
- (4) $A \rightarrow c$ तथा d ; $B \rightarrow b$ तथा d ; $C \rightarrow b$ तथा c ; $D \rightarrow a$ तथा d

33. किसी कण पर आरोपित शक्ति समय के साथ $P = (3t^2 - 2t + 1)$ watt के अनुसार बदलती रहती है, जहाँ t सेकण्ड में है। समय $t=2s$ से $t = 4s$ के बीच इसकी गतिज ऊर्जा में परिवर्तन होगा :-

- (1) 32 J
- (2) 46 J
- (3) 61 J
- (4) 102 J

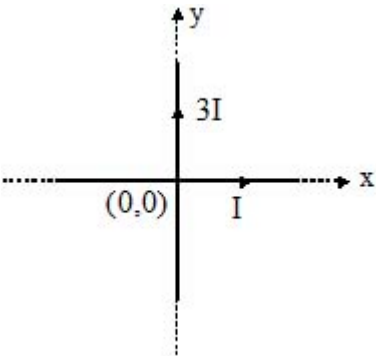
34. A potential difference V is applied to a copper wire of diameter d and length L . Match the statements given in Column I with the statements given in Column II

	Column I		Column II
A.	Voltage V is doubled	(i)	Drift speed will decrease
B.	Length L is doubled	(ii)	Drift speed will be doubled
C.	Diameter d is doubled	(iii)	Drift speed will be halved
D.	Temperature of wire is increased	(iv)	Drift speed will not change

Choose the correct answer from the options given below

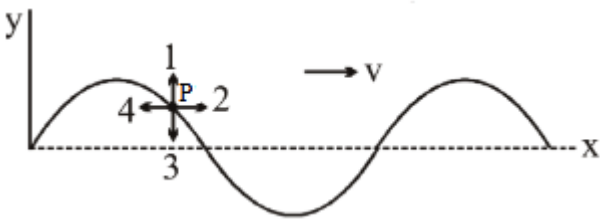
- (1) A-(iii), B-(iv), C-(i), D-(ii)
- (2) A-(ii), B-(iii), C-(iv), D-(i)
- (3) A-(ii), B-(iv), C-(i), D-(iii)
- (4) A-(iv), B-(i), C-(ii), D-(iii)

35. The equation of line on which magnetic field is zero due to system of two perpendicular infinitely long current carrying straight wires, is



- (1) $x = y$
- (2) $x = 2y$
- (3) $x = 3y$
- (4) $3x = y$

36. A sinusoidal transverse progressive wave is travelling on stretched string along x axis. Choose appropriate number for direction of velocity and acceleration respectively for a particle P shown in the diagram.



- (1) 3 and 1
- (2) 1 and 3
- (3) 1 and 1
- (4) 2 and 4

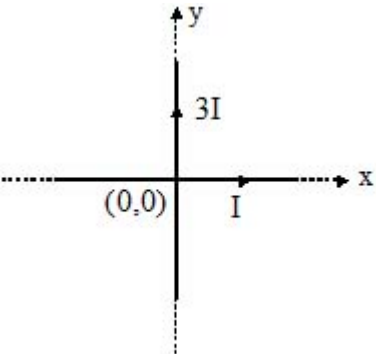
34. व्यास d और लंबाई L वाले तांबे के तार पर विभवांतर V लगाया जाता है। कॉलम I में दिए गए कथनों का कॉलम II में दिए गए कथनों से मिलान करें

	Column I		Column II
A.	वोल्टेज V दोगुना हो जाता है	(i)	अपवाह चाल कम हो जाएगी
B.	लंबाई L दोगुनी हो जाती है	(ii)	अपवाह चाल दोगुनी हो जाएगी
C.	व्यास d दोगुना हो जाता है	(iii)	अपवाह चाल आधी हो जाएगी
D.	तार का तापमान बढ़ जाता है	(iv)	अपवाह चाल नहीं बदलेगी

नीचे दिए गए विकल्पों में से सही उत्तर चुनें

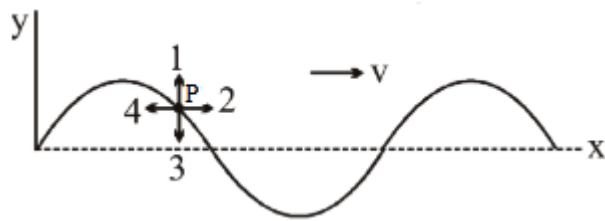
- (1) A-(iii), B-(iv), C-(i), D-(ii)
- (2) A-(ii), B-(iii), C-(iv), D-(i)
- (3) A-(ii), B-(iv), C-(i), D-(iii)
- (4) A-(iv), B-(i), C-(ii), D-(iii)

35. उस रेखा का समीकरण जिस पर दो लंबवत अनंत लंबे सीधे धारावाही तारों के निकाय के कारण चुंबकीय क्षेत्र शून्य है, है



- (1) $x = y$
- (2) $x = 2y$
- (3) $x = 3y$
- (4) $3x = y$

36. एक ज्यावक्रीय अनुप्रस्थ प्रगामी तरंग x अक्ष के अनुदिश तनी रस्सी पर गतिमान है। चित्रानुसार एक कण P के लिए वेग व त्वरण की दिशा के लिए उपयुक्त संख्या चुनिये-



- (1) 3 तथा 1
- (2) 1 तथा 3
- (3) 1 तथा 1
- (4) 2 तथा 4

37. An object placed at a distance of a 9cm. from the first principal focus of a convex lens produces a real image at a distance of 25cm. from its second principal focus. then the focal length of the lens is :

- (1) 9cm
- (2) 25cm
- (3) 15cm
- (4) 17cm

38. The energy gap of silicon is 1.14eV. The maximum wavelength at which silicon will begin absorbing energy is -

- (1) 10877 Å
- (2) 1088.8 Å
- (3) 2088.7 Å
- (4) 4088.6 Å

39. Two coherent sources of equal intensities produce a maximum of 100 units. If the amplitude of one of the sources is reduced by 20%, then the maximum intensity produced will be :

- (1) 100
- (2) 81
- (3) 89
- (4) 60

40. Two stretched strings of same material are vibrating under the same tension in fundamental mode. The ratio of their frequencies is 1 : 2 and ratio of the length of the vibrating segments is 1 : 4 . Then the ratio of the radii of the strings is:

- (1) 2 : 1
- (2) 4 : 1
- (3) 3 : 2
- (4) 8 : 1

41. A potential barrier of 0.50 V exists across a P-N junction. If the depletion region is 5.0×10^{-7} m wide, the intensity of the electric field in this region is -

- (1) 1.0×10^6 V/m
- (2) 1.0×10^5 V/m
- (3) 2.0×10^5 V/m
- (4) 2.0×10^6 V/m

37. एक उत्तल लेंस के प्रथम मुख्य फोकस से 9cm दूरी पर वस्तु रखी है यह इसके द्वितीय मुख्य फोकस से 25cm दूरी पर वास्तविक प्रतिबिम्ब बनाता है तो लेंस की फोकस दूरी है :

- (1) 9cm
- (2) 25cm
- (3) 15cm
- (4) 17cm

38. सिलिकॉन का ऊर्जा अंतराल 1.14eV है। वह अधिकतम तरंगदैर्घ्य जिस पर सिलिकॉन ऊर्जा अवशोषित करना प्रारंभ कर देगा -

- (1) 10877 Å
- (2) 1088.8 Å
- (3) 2088.7 Å
- (4) 4088.6 Å

39. समान तीव्रता के दो कला संबंधित स्रोत 100 इकाई का उच्चिष्ठ उत्पन्न करते हैं। यदि किसी एक स्रोत का आयाम 20% तक घटा दिया जाये तब उत्पन्न अधिकतम तीव्रता होगी :

- (1) 100
- (2) 81
- (3) 89
- (4) 60

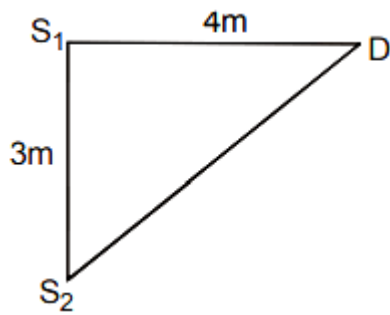
40. एक ही पदार्थ की दो फैली हुई तारें मूल विधा में एक ही तनाव के अंतर्गत कंपन कर रही हैं। उनकी आवृत्तियों का अनुपात 1 : 2 है और कंपन खंडों की लंबाई का अनुपात 1 : 4 है। तो तारों की त्रिज्याओं का अनुपात है:

- (1) 2 : 1
- (2) 4 : 1
- (3) 3 : 2
- (4) 8 : 1

41. P-N संधि के परितः 0.50 V का विभव प्राचीर उत्पन्न होता है। यदि अवक्षय क्षेत्र की चौड़ाई 5.0×10^{-7} m है, तो इस क्षेत्र में विद्युत क्षेत्र की तीव्रता है -

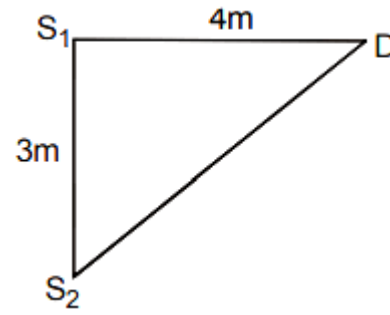
- (1) 1.0×10^6 V/m
- (2) 1.0×10^5 V/m
- (3) 2.0×10^5 V/m
- (4) 2.0×10^6 V/m

- 42.** In the figure, the intensity of waves arriving at D from two coherent sources S_1 and S_2 is I_0 . The wavelength of the wave is $\lambda = 4\text{m}$. Resultant intensity at D will be :-



- (1) $4I_0$
 (2) I_0
 (3) $2I_0$
 (4) Zero
- 43.** In a single slit diffraction pattern, a light of wavelength 6000\AA is used. The distance between the first and third minima in the diffraction pattern is found to be 3 mm when the screen is placed 50 cm away from slits. The width of the slit is $\times 10^{-4} \text{ m}$.
- (1) 4
 (2) 2
 (3) 5
 (4) 3
- 44.** A parallel plate capacitor is maintained at a certain potential difference. When a 3 mm slab is introduced between the plates, in order to maintain the same potential difference, the distance between the plates is increased by 2.4 mm. Find the dielectric constant of the slab.
- (1) 3
 (2) 4
 (3) 5
 (4) 1
- 45.** A thin metal disc of radius 0.25 m and mass 2 kg starts from rest and rolls down an inclined plane. If its rotational kinetic energy is 4J at the foot of the inclined plane, then its linear velocity at the same point is-
- (1) 1.2 m/s
 (2) $2\sqrt{2}\text{m/s}$
 (3) 20 m/s
 (4) 2 m/s

- 42.** चित्र में, दो कलासंबद्ध स्रोतों S_1 और S_2 से D पर पहुँचने वाली तरंगों की तीव्रता I_0 है। तरंग की तरंगदैर्घ्य $\lambda = 4\text{m}$ है। D पर परिणामी तीव्रता होगी :-

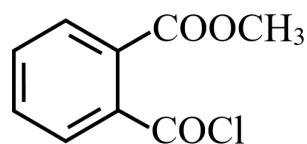


- (1) $4I_0$
 (2) I_0
 (3) $2I_0$
 (4) शून्य
- 43.** एक झिरी विवर्तन पैटर्न में, 6000\AA की तरंगदैर्घ्य के एक प्रकाश का उपयोग किया गया है। इस विवर्तन पैटर्न में प्रथम तथा तृतीय निमिष्ट के बीच की दूरी 3 मिमी. है जब पर्दा झिरियों से 50 सेमी की दूरी पर है। झिरी की चौड़ाई $\times 10^{-4}$ मी है।
- (1) 4
 (2) 2
 (3) 5
 (4) 3
- 44.** एक समानान्तर प्लेट संधारित्र एक निश्चित विभवान्तर पर बनाये रखा जाता है। जब एक 3 mm की पट्टिका प्लेटों के बीच प्रवेश कराई जाती है, तब वही विभवान्तर बनाये रखने के लिए प्लेटों के बीच दूरी 2.4 mm बढ़ाई जाती है। पट्टिका का परावैद्युतांक ज्ञात करो -
- (1) 3
 (2) 4
 (3) 5
 (4) 1
- 45.** धातु की एक पतली चकती की त्रिज्या 0.25 m एवं द्रव्यमान 2 kg है। यह विरामावस्था से नत तल पर लुढ़कती है। यदि नत तल की तली पर इसकी घूर्णन गतिज ऊर्जा 4J हैं तो उसी बिन्दु पर इसका रेखीय वेग होगा-
- (1) 1.2 m/s
 (2) $2\sqrt{2}\text{m/s}$
 (3) 20 m/s
 (4) 2 m/s

CHEMISTRY

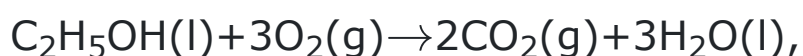
[CHEMISTRY]

46. The IUPAC name of



- (1) 2-chlorocarbonyl ethyl benzoate
- (2) 2-carboxyethyl benzoyl chloride
- (3) Methyl 2-chlorocarbonyl benzoate
- (4) None is correct

47. For complete combustion of ethanol,



the amount of heat produced as measured in bomb calorimeter, is $1500.0 \text{ kJ mol}^{-1}$ at 25°C . Assuming ideally the Enthalpy of combustion, $\Delta_{\text{c}}H$, for the reaction will be :

- ($R = 8.314 \text{ J mol}^{-1}$)
- (1) $-1502.67 \text{ kJ mol}^{-1}$
 - (2) $-1602.67 \text{ kJ mol}^{-1}$
 - (3) $-1402.67 \text{ kJ mol}^{-1}$
 - (4) $-1702.67 \text{ kJ mol}^{-1}$

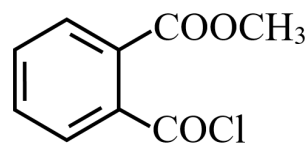
48. What volume of $0.10 \text{ M H}_2\text{SO}_4$ must be added to 50 mL of a 0.10 M NaOH solution to make a solution in which the molarity of the H_2SO_4 is 0.050 M ?

- (1) 400 mL
- (2) 50 mL
- (3) 100 mL
- (4) 150 mL

49. Noble gases are –

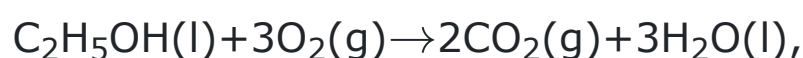
- (1) Colourless
- (2) Odourless
- (3) Tasteless and non inflammable
- (4) All

46. निम्न का सही IUPAC नाम है:



- (1) 2-क्लोरोकार्बोनिल एथिल बेन्जोएट
- (2) 2-कार्बोक्सी एथिल बेन्जोईल क्लोराइड
- (3) मेथिल-2-क्लोरोकार्बोनिल बेन्जोएट
- (4) कोई सही नहीं है

47. ऐथेनॉल के पूर्ण दहन के लिये



25°C पर बम कैलोरीमीटर में मापी गई उत्पन्न ऊष्मा की मात्रा $1500.0 \text{ kJ mol}^{-1}$ है आदर्श स्थिति मानते हुये अभिक्रिया के लिये दहन की एन्थैल्पी $\Delta_{\text{c}}H$ होगी

- ($R = 8.314 \text{ J mol}^{-1}$)
- (1) $-1502.67 \text{ kJ mol}^{-1}$
 - (2) $-1602.67 \text{ kJ mol}^{-1}$
 - (3) $-1402.67 \text{ kJ mol}^{-1}$
 - (4) $-1702.67 \text{ kJ mol}^{-1}$

48. H_2SO_4 की मोलरता 0.050 M का विलयन बनाने के लिये 50 mL , 0.10 M NaOH विलयन में 0.10 M , H_2SO_4 का कितना आयतन मिलाना चाहिये।

- (1) 400 mL
- (2) 50 mL
- (3) 100 mL
- (4) 150 mL

49. नोबल गैसे हैं -

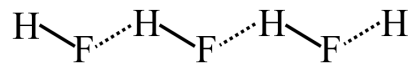
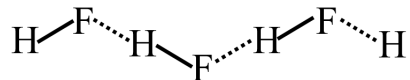
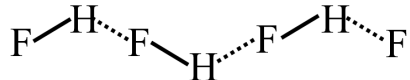
- (1) रंगहीन
- (2) गंधहीन
- (3) स्वादहीन तथा अज्वलनशील
- (4) सभी

50. Match Column-I with Column-II.

	Column-I		Column-II
A	16 g of CH ₄ (g)	I	Weighs 28g
B	1 g of H ₂ (g)	II	60.2×10^{23} electrons
C	1 mole of N ₂ (g)	III	Weighs 96 g
D	1.5 mole of SO ₂ (g)	IV	Occupies 11.4 L volume at STP

- Choose the correct answer from the options given below:
- (1) A-II, B-IV, C-I, D-III
- (2) A-II, B-IV, C-III, D-I
- (3) A-II, B-III, C-IV, D-I
- (4) A-I, B-III, C-II, D-IV

51. The bond in solid HF can be best represented as :

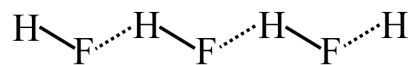
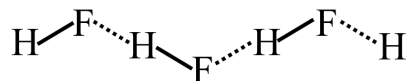
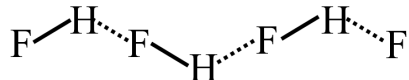
- (1) H – F ... H – F ... H – F
- (2) 
- (3) 
- (4) 

50. स्तंभ-I का मिलान स्तंभ-II से करें

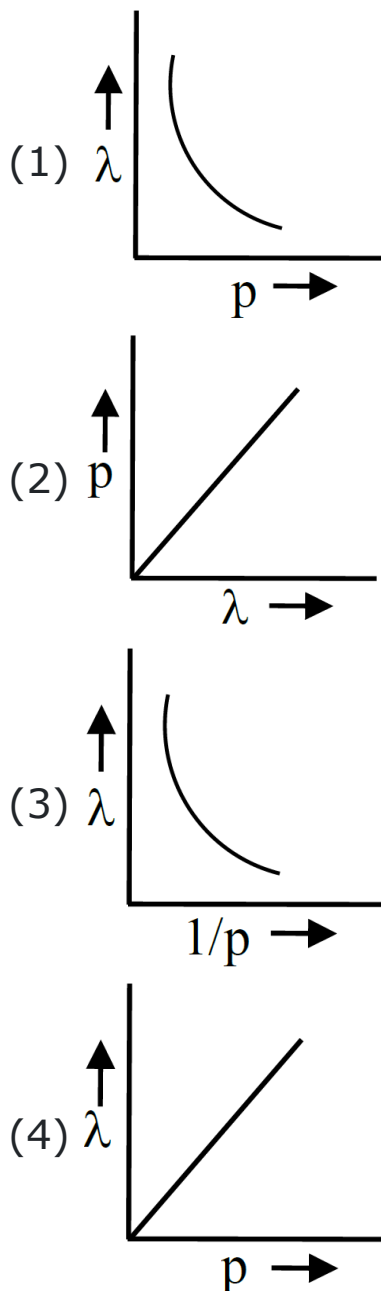
	स्तंभ-I		स्तंभ-II
A	CH ₄ (g) के 16 g	I	28 g भार
B	H ₂ (g) के 1 g	II	60.2×10^{23} इलेक्ट्रॉन
C	N ₂ (g) के 1 मोल	III	96 g भार
D	SO ₂ (g) के 1.5 मोल	IV	STP पर 11.4 L आयतन ग्रहण करता है

- नीचे दिए गए विकल्पों में से सही उत्तर चुनें:
- (1) A-II, B-IV, C-I, D-III
- (2) A-II, B-IV, C-III, D-I
- (3) A-II, B-III, C-IV, D-I
- (4) A-I, B-III, C-II, D-IV

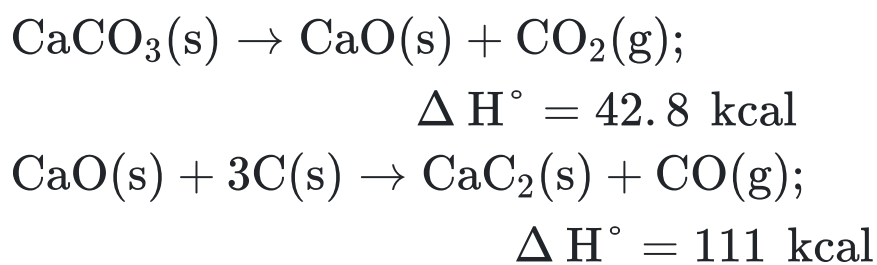
51. ठोस HF में बंध सर्वोत्तम निरूपित निम्न में हो सकते हैं:-

- (1) H – F ... H – F ... H – F
- (2) 
- (3) 
- (4) 

- 52.** According to the wave-particle duality of matter by de-Broglie, which of the following graph plot presents most appropriate relationship between wavelength of electron(λ) and momentum of electron(p) ?

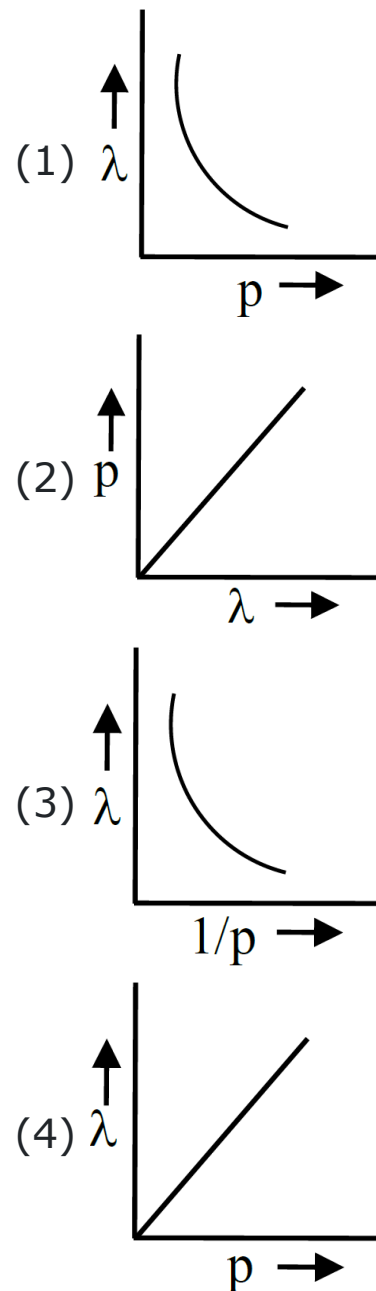


- 53.** What is the amount of heat to be supplied to prepare 128g of CaC_2 by using CaCO_3 and followed by reaction with carbon. Reactions are:

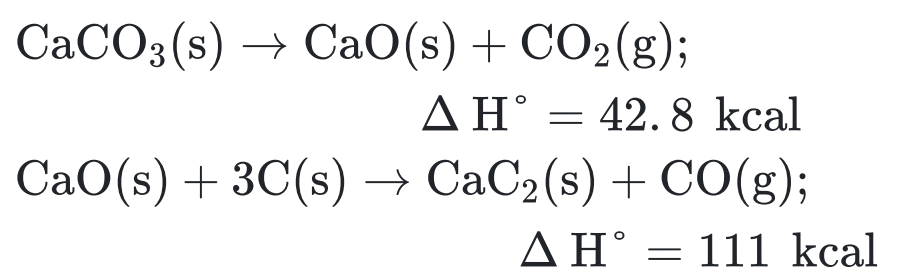


- (1) 102.6 kcal
(2) 221.78 kcal
(3) 307.6 kcal
(4) 453.46 kcal
- 54.** Which of them is not equal to zero for an ideal solution ?
- (1) ΔV_{mix}
(2) $\Delta P = P_{\text{Observed}} - P_{\text{Raoult}}$
(3) ΔH_{mix}
(4) ΔS_{mix}

- 52.** डी-ब्रोग्ली द्वारा पदार्थ के तरंग-कण सिद्धांत के अनुसार, निम्न में से कौन सा ग्राफ चित्र इलेक्ट्रॉन की तरंग दैर्ध्य (λ) और इलेक्ट्रॉन की संवेग(p) के बीच सबसे उपयुक्त संबंध दर्शाता है?



- 53.** CaCO_3 का उपयोग करके तथा तत्पश्चात कार्बन के साथ अभिक्रिया से 128g CaC_2 को बनाने के लिये कितनी ऊष्मा की मात्रा दी जानी चाहिये अभिक्रियायें निम्न है

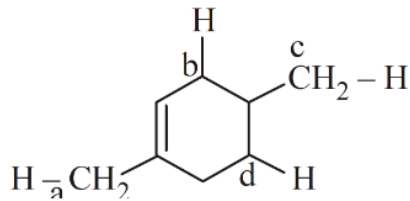


- (1) 102.6 kcal
(2) 221.78 kcal
(3) 307.6 kcal
(4) 453.46 kcal
- 54.** एक आदर्श विलयन के लिए इनमें से कौनसा शून्य के बराबर नहीं है?
- (1) ΔV_{mix}
(2) $\Delta P = P_{\text{Observed}} - P_{\text{Raoult}}$
(3) ΔH_{mix}
(4) ΔS_{mix}

55. Number of geometrical isomers formed from $C_2(Cl)(Br)(I)(F)$

- (1) 4
(2) 8
(3) 6
(4) 9

56. Compare the bond energy of different C – H bonds shown in the following molecule



- (1) $a > b > c > d$
(2) $a > b > d > c$
(3) $c > d > a > b$
(4) $c > d > b > a$

57. Match List-I with List-II.

List-I (Reaction)	List-II (Type of redox reaction)
(A) $N_{2(g)} + O_{2(g)} \rightarrow 2NO_{(g)}$	(I) Decomposition
(B) $2Pb(NO_3)_{2(s)} \rightarrow 2PbO_{(s)} + 4NO_{2(g)} + O_{2(g)}$	(II) Displacement
(C) $2Na_{(s)} + 2H_2O_{(l)} \rightarrow 2NaOH(aq.) + H_{2(g)}$	(III) Disproportionation
(D) $2NO_{2(g)} + 2OH^-(aq.) \rightarrow NO_2^-(aq.) + NO_3^-(aq.) + H_2O_{(l)}$	(IV) Combination

Choose the correct answer from the options give below :

- (1) (A)-(IV), (B)(I), (C)-(II), (D)-(III)
(2) (A)-(III), (B)-(II), (C)-(I), (D)-(IV)
(3) (A)-(I), (B)-(II), (C)-(III), (D)-(IV)
(4) (A)-(II), (B)-(III), (C)-(IV), (D)-(I)

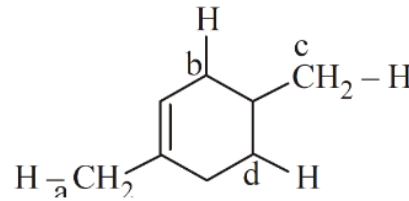
58. Units of rate constant for first and zero order reactions in terms of molarity (M) are respectively.

- (1) sec^{-1} , $M sec^{-1}$
(2) sec^{-1} , M
(3) $M sec^{-1}$, sec^{-1}
(4) M, sec^{-1}

55. $C_2(Cl)(Br)(I)(F)$ से निर्मित ज्यामितिये समावयवीयो की संख्या है

- (1) 4
(2) 8
(3) 6
(4) 9

56. निम्न अणु में दर्शाए गए विभिन्न C – H बंधों की बंध ऊर्जा की तुलना कीजिए।



- (1) $a > b > c > d$
(2) $a > b > d > c$
(3) $c > d > a > b$
(4) $c > d > b > a$

57. सूची-I का मिलान सूची -II से करें :

सूची -I (अभिक्रिया)	सूची -II (रेडॉक्स अभिक्रिया का प्रकार)
(A) $N_{2(g)} + O_{2(g)} \rightarrow 2NO_{(g)}$	(I) अपघटन
(B) $2Pb(NO_3)_{2(s)} \rightarrow 2PbO_{(s)} + 4NO_{2(g)} + O_{2(g)}$	(II) विस्थापन
(C) $2Na_{(s)} + 2H_2O_{(l)} \rightarrow 2NaOH(aq.) + H_{2(g)}$	(III) असमानुपातन
(D) $2NO_{2(g)} + 2OH^-(aq.) \rightarrow NO_2^-(aq.) + NO_3^-(aq.) + H_2O_{(l)}$	(IV) योग

नीचे दिए गए विकल्पों में से सही उत्तर को चुनें

- (1) (A)-(IV), (B)(I), (C)-(II), (D)-(III)
(2) (A)-(III), (B)-(II), (C)-(I), (D)-(IV)
(3) (A)-(I), (B)-(II), (C)-(III), (D)-(IV)
(4) (A)-(II), (B)-(III), (C)-(IV), (D)-(I)

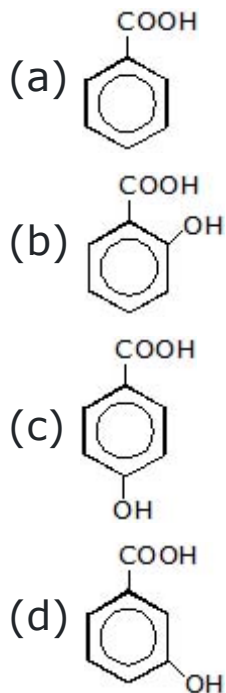
58. मोलरता (M) के पदों में प्रथम तथा शून्य कोटि अभिक्रियाओं के लिये दर स्थिरांक की इकाइयां क्रमशः हैं

- (1) sec^{-1} , $M sec^{-1}$
(2) sec^{-1} , M
(3) $M sec^{-1}$, sec^{-1}
(4) M, sec^{-1}

- 59.** The osmotic pressure of which solution is maximum (consider that decimolar solution of each 90% dissociated)
- (1) Aluminium sulphate
 - (2) Barium chloride
 - (3) Sodium sulphate
 - (4) A mixture of equal volumes of (2) and (3)
- 60.** Which of the following order is incorrect ?
- (1) Ionic character : $\text{MCl} < \text{MCl}_2 < \text{MCl}_3$
 - (2) Polarizability : $\text{F}^- < \text{Cl}^- < \text{Br}^- < \text{I}^-$
 - (3) Polarising power : $\text{Na}^+ < \text{Ca}^{+2} < \text{Mg}^{+2} < \text{Al}^{+3}$
 - (4) Covalent character : $\text{LiF} < \text{LiCl} < \text{LiBr} < \text{LiI}$
- 61.** The units of rate and rate constant are identical in
- (1) fractional order reactions
 - (2) first order reactions
 - (3) second order reactions
 - (4) zero order reactions.
- 62.** At 25°C dissociation constants of acid HA and base BOH in aqueous solution are same. The pH of 0.01 M solution of HA is 5. The pOH of 10^{-4} M solution of BOH at the same temperature is
- (1) 3.5
 - (2) 4
 - (3) 6
 - (4) None of these

- 59.** कौनसे विलयन का परासरण दाब अधिकतम है (यह मानते हुये की प्रत्येक का डेसीमोलर विलयन 90% वियोजित होता है)
- (1) एल्युमिनियम सल्फेट
 - (2) बेरियम क्लोराइड
 - (3) सोडीयम सल्फेट
 - (4) (2) तथा (3) के समान आयतनो का एक मिश्रण
- 60.** निम्न मे से कौनसा क्रम गलत है
- (1) आयनिक लक्षण : $\text{MCl} < \text{MCl}_2 < \text{MCl}_3$
 - (2) ध्रुवीयता : $\text{F}^- < \text{Cl}^- < \text{Br}^- < \text{I}^-$
 - (3) ध्रुवण क्षमता : $\text{Na}^+ < \text{Ca}^{+2} < \text{Mg}^{+2} < \text{Al}^{+3}$
 - (4) सहसंयोजक लक्षण : $\text{LiF} < \text{LiCl} < \text{LiBr} < \text{LiI}$
- 61.** दर तथा दर नियतांक की इकाईयाँ समान होती है
- (1) भिन्नात्मक कोटि अभिक्रियाओं में
 - (2) प्रथम कोटि अभिक्रियाओं में
 - (3) द्वितीय कोटि अभिक्रियाओं में
 - (4) शून्य कोटि अभिक्रियाओं में
- 62.** 25°C पर अम्ल HA तथा क्षार BOH का जलीय विलयन मे वियोजन स्थिरांक समान है HA के 0.01 M विलयन का pH, 5 है समान ताप पर BOH के 10^{-4} M विलयन का pOH होगा
- (1) 3.5
 - (2) 4
 - (3) 6
 - (4) इनमे से कोई नहीं

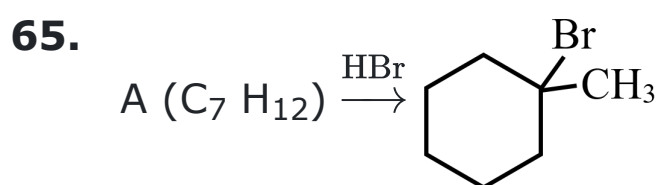
63. Select the correct order of acidic strength.



- (1) $d > a > b > c$
 (2) $b > d > a > c$
 (3) $a > b > c > d$
 (4) $d > b > a > c$

64. Which of the following have no unit?

- (1) Electronegativity
 (2) Electron gain enthalpy
 (3) Ionisation enthalpy
 (4) None of these



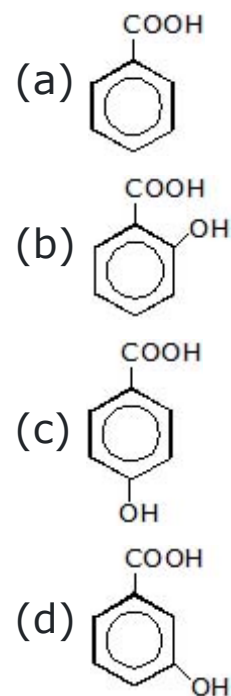
Compound A can be

- (1)
- (2)
- (3)
- (4) All of these

66. Which is Amphoteric oxide :-

- (1) BeO
 (2) ZnO
 (3) Cr_2O_3
 (4) All of these

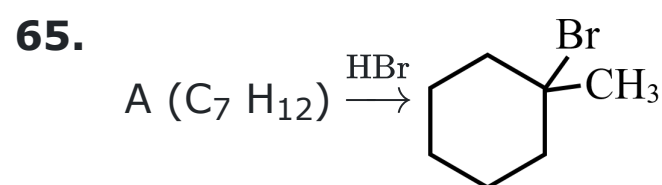
63. अम्लीय सामर्थ्य के सही क्रम का चयन करें।



- (1) $d > a > b > c$
 (2) $b > d > a > c$
 (3) $a > b > c > d$
 (4) $d > b > a > c$

64. निम्न में कौनसा मात्रक नहीं रखता है ?

- (1) विद्युतऋणता
 (2) इलेक्ट्रॉन ग्रहण एन्थैल्पी
 (3) आयनन एन्थैल्पी
 (4) इनमे से कोई नहीं



यौगिक A हो सकता है

- (1)
- (2)
- (3)
- (4) उपरोक्त सभी

66. कौनसा उभयधर्मी ऑक्साइड है

- (1) BeO
 (2) ZnO
 (3) Cr_2O_3
 (4) उपरोक्त सभी

67. Calculate pH of given mixture at 90°C temperature:

0.01M, 2L of H_2SO_4 + 0.02M, 3L of $\text{Ba}(\text{OH})_2$

- (1) 12.2
- (2) 10.2
- (3) 1.8
- (4) 4.2

68. Phenolphthalein is a-

- (1) Strong acid
- (2) Strong base
- (3) Weak base
- (4) Weak acid

69. $\text{Ph} - \text{C} \equiv \text{C} - \text{CH}_3 \xrightarrow{\text{Hg}^{2+}/\text{H}^+} \text{A}$, A is-

- (1)
- (2)
- (3)
- (4)

70. Among the following, the molecule with highest dipole moment is :

- (1) CH_3Cl
- (2) CH_2Cl_2
- (3) CHCl_3
- (4) CCl_4

71. Water is liquid due to

- (1) Hydrogen bonding
- (2) Covalent bond
- (3) Ionic bond
- (4) Vander wall's forces

67. 90°C ताप पर दिये गये मिश्रण की pH की गणना कीजिये

0.01M, 2L, H_2SO_4 + 0.02M, 3L, $\text{Ba}(\text{OH})_2$

- (1) 12.2
- (2) 10.2
- (3) 1.8
- (4) 4.2

68. फिनोफ्थैलीन हैं एक

- (1) प्रबल अम्ल
- (2) प्रबल क्षार
- (3) दुर्बल क्षार
- (4) दुर्बल अम्ल

69. $\text{Ph} - \text{C} \equiv \text{C} - \text{CH}_3 \xrightarrow{\text{Hg}^{2+}/\text{H}^+} \text{A}$, A होगा-

- (1)
- (2)
- (3)
- (4)

70. निम्न में उच्चतम द्विध्रुव आघूर्ण वाला अणु है

- (1) CH_3Cl
- (2) CH_2Cl_2
- (3) CHCl_3
- (4) CCl_4

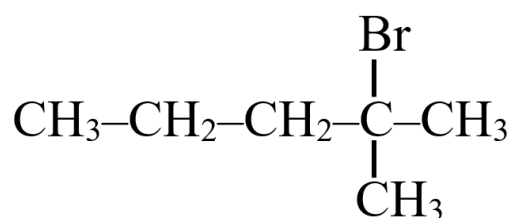
71. जल किसके कारण द्रव होता है-

- (1) हाइड्रोजन बन्ध
- (2) सहसंयोजक बन्ध
- (3) आयनिक बन्ध
- (4) वानडर वाल्स बल

- 72.** Emf of the cell
 $\text{Ni} \mid \text{Ni}^{2+} (0.1 \text{ M}) \parallel \text{Au}^{3+} (1.0 \text{ M}) \mid \text{Au}$ will be
 $E_{\text{Ni} / \text{Ni}^{2+}}^0 = 0.25$
 $E_{\text{Au} / \text{Au}^{3+}}^0 = -0.25$
 (1) + 1.22
 (2) 0.529 V
 (3) + 1.75
 (4) - 1.75

- 73.** Which of the following species is most reactive in $\text{S}_{\text{N}}2$ reaction ?
 (1) $\text{CH}_3\text{CH}_2\text{—Cl}$
 (2) $\text{CH}_3\text{CH}_2\text{—Br}$
 (3) $\text{CH}_3\text{CH}_2\text{—I}$
 (4) $\text{CH}_3\text{CH}_2\text{—F}$

- 74.** Consider the following compound



Possible product/s obtained by E_2 reaction is/are ?

- (1) $\text{CH}_3\text{—CH}_2\text{—CH}_2\text{—C=CH}_2$
 $\quad \quad \quad |$
 $\quad \quad \quad \text{CH}_3$
 (2) $\text{CH}_3\text{—CH}_2\text{—CH=C}$ $\begin{array}{l} \text{CH}_3 \\ \text{CH}_3 \end{array}$
 (3) both (1) and (2)
 (4) $\text{CH}_3\text{CH=CH—CH}$ $\begin{array}{l} \text{CH}_3 \\ \text{CH}_3 \end{array}$

- 75.** The molar conductance at infinite dilution of AgNO_3 , NaCl and NaNO_3 are 116.5, 110.3 and 105.2 $\text{mho cm}^2 \text{ mol}^{-1}$ respectively. The molar conductances of AgCl is :
 (1) 121.6
 (2) 111.4
 (3) 130.6
 (4) 150.2

- 72.** सेल :

$\text{Ni} \mid \text{Ni}^{2+} (0.1 \text{ M}) \parallel \text{Au}^{3+} (1.0 \text{ M}) \mid \text{Au}$
 का EMF होगा

$$E_{\text{Ni} / \text{Ni}^{2+}}^0 = 0.25$$

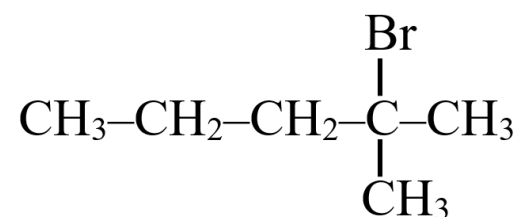
$$E_{\text{Au} / \text{Au}^{3+}}^0 = -0.25$$

- (1) + 1.22
 (2) 0.529 V
 (3) + 1.75
 (4) - 1.75

- 73.** निम्न में से कौनसी स्पीशीज $\text{S}_{\text{N}}2$ अभिक्रिया में सर्वाधिक क्रियाशील है ?

- (1) $\text{CH}_3\text{CH}_2\text{—Cl}$
 (2) $\text{CH}_3\text{CH}_2\text{—Br}$
 (3) $\text{CH}_3\text{CH}_2\text{—I}$
 (4) $\text{CH}_3\text{CH}_2\text{—F}$

- 74.** निम्न यौगिक पर विचार कीजिये



E_2 अभिक्रिया द्वारा प्राप्त संभव उत्पाद है/हैं

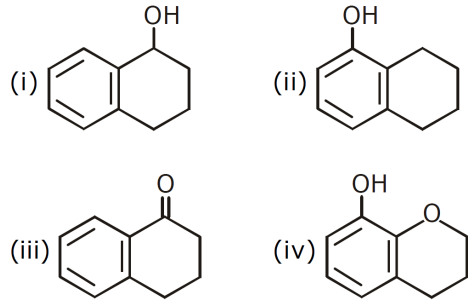
- (1) $\text{CH}_3\text{—CH}_2\text{—CH}_2\text{—C=CH}_2$
 $\quad \quad \quad |$
 $\quad \quad \quad \text{CH}_3$
 (2) $\text{CH}_3\text{—CH}_2\text{—CH=C}$ $\begin{array}{l} \text{CH}_3 \\ \text{CH}_3 \end{array}$
 (3) दोनों (1) तथा (2)
 (4) $\text{CH}_3\text{CH=CH—CH}$ $\begin{array}{l} \text{CH}_3 \\ \text{CH}_3 \end{array}$

- 75.** AgNO_3 , NaCl तथा NaNO_3 की अनन्त तनुकरण पर मोलर चालकता क्रमशः 116.5, 110.3 तथा 105.2 $\text{mho cm}^2 \text{ mol}^{-1}$ है, AgCl की मोलर चालकता होगी
 (1) 121.6
 (2) 111.4
 (3) 130.6
 (4) 150.2

76. Highest melting point would be of

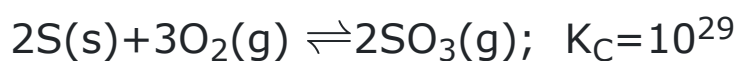
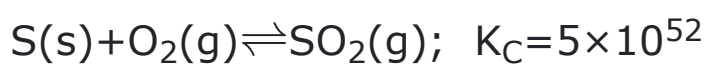
- (1) He
- (2) CsCl
- (3) NH₃
- (4) CHCl₃

77. Increasing order of rate of reaction with Br₂/AlCl₃ is ;

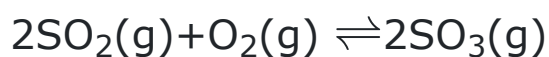


- (1) iii < i < ii < iv
- (2) iv < ii < i < iii
- (3) ii < iv < iii < i
- (4) iv < ii < iii < i

78. At a certain temperature, the following reactions have the equilibrium constants as shown below



What is the equilibrium constant K_C for the reaction at the same temperature



- (1) 2.5×10^{76}
- (2) 4×10^{23}
- (3) 4×10^{-77}
- (4) None of these

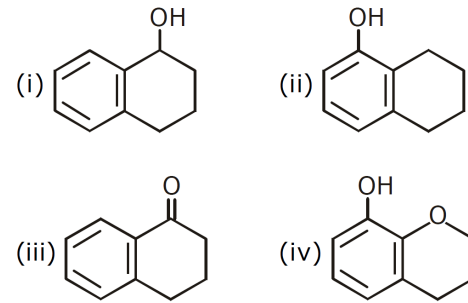
79. The bond order of O_2^+ is the same as in

- (1) N_2^+
- (2) CN^-
- (3) CO
- (4) NO^+

76. किसका गलनांक अधिक होगा

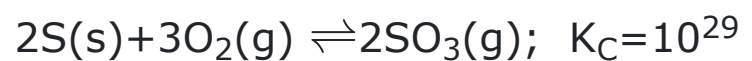
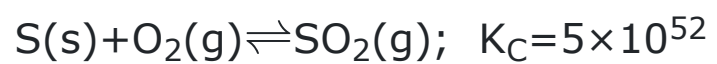
- (1) He
- (2) CsCl
- (3) NH₃
- (4) CHCl₃

77. Br₂/AlCl₃ के साथ अभिक्रिया दर का बढ़ता हुआ क्रम है।

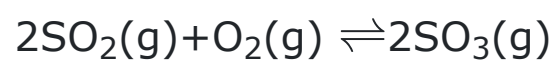


- (1) iii < i < ii < iv
- (2) iv < ii < i < iii
- (3) ii < iv < iii < i
- (4) iv < ii < iii < i

78. एक निश्चित तापमान पर निम्न अभिक्रिया नीचे दर्शाये अनुसार निम्न साम्य नियतांक रखती है



समान ताप पर निम्न अभिक्रिया के लिये साम्य नियतांक K_C क्या होगा



- (1) 2.5×10^{76}
- (2) 4×10^{23}
- (3) 4×10^{-77}
- (4) इनमे से कोई नहीं

79. O_2^+ का बन्ध क्रम निम्न के समान है

- (1) N_2^+
- (2) CN^-
- (3) CO
- (4) NO^+

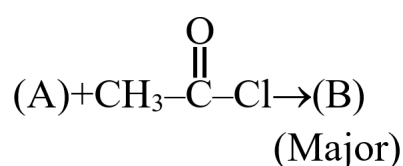
80. Match the column :

	Column-I (Compound)		Column-II (Distinguished by)
(a)	$\text{CH}_3-\overset{\text{O}}{\parallel}{\text{C}}-\text{CH}_3$ and $\text{CH}_3-\overset{\text{O}}{\parallel}{\text{C}}-\text{H}$	(p)	NaHSO_3
(b)	$\text{CH}_3-\overset{\text{O}}{\parallel}{\text{C}}-\text{CH}_3$ and $\text{Ph}-\overset{\text{O}}{\parallel}{\text{C}}-\text{CH}_3$	(q)	NaOH/I_2
(c)	$\text{CH}_3-\overset{\text{OH}}{\text{CH}}-\text{CH}_3$ and $\text{Ph}-\overset{\text{O}}{\parallel}{\text{C}}-\text{CH}_2-\text{CH}_3$	(r)	Fehling solution
(d)	$\text{C}_6\text{H}_5-\overset{\text{O}}{\parallel}{\text{C}}-\text{OH}$ and $\text{C}_6\text{H}_5-\text{OH}$	(s)	Aq. NaHCO_3

- (1) (a)–(q), (b)–(r), (c)–(s), (d)–(p)
 (2) (a)–(r), (b)–(p), (c)–(q), (d)–(s)
 (3) (a)–(p), (b)–(r), (c)–(q), (d)–(s)
 (4) (a)–(r), (b)–(p), (c)–(s), (d)–(q)

81. Which is correct in the case of $[\text{Fe}(\text{CN}_6)]^{4-}$ complex –

- (1) Diamagnetic
 (2) Octahedral
 (3) d^2sp^3 -hybridization
 (4) All are correct

82. $\text{CH}_3\text{MgBr} + \text{CdCl}_2 \rightarrow$ (A)
organometallic compound

Product (B) is

- (1) $\text{CH}_3\text{CH}_2\text{CN}$
 (2) $\text{CH}_3-\overset{\text{O}}{\parallel}{\text{C}}-\text{H}$
 (3) $\text{CH}_3-\overset{\text{O}}{\parallel}{\text{C}}-\text{CH}_3$
 (4) $\text{CH}_3-\overset{\text{CH}_3}{\underset{\text{OH}}{\text{C}}}-\text{CH}_3$

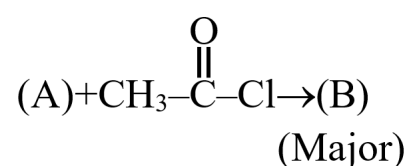
80. स्तम्भ को सुमेलित कीजिये :

	स्तम्भ-I (यौगिक)		स्तम्भ-II (से विभेदित)
(a)	$\text{CH}_3-\overset{\text{O}}{\parallel}{\text{C}}-\text{CH}_3$ and $\text{CH}_3-\overset{\text{O}}{\parallel}{\text{C}}-\text{H}$	(p)	NaHSO_3
(b)	$\text{CH}_3-\overset{\text{O}}{\parallel}{\text{C}}-\text{CH}_3$ and $\text{Ph}-\overset{\text{O}}{\parallel}{\text{C}}-\text{CH}_3$	(q)	NaOH/I_2
(c)	$\text{CH}_3-\overset{\text{OH}}{\text{CH}}-\text{CH}_3$ and $\text{Ph}-\overset{\text{O}}{\parallel}{\text{C}}-\text{CH}_2-\text{CH}_3$	(r)	फेहलिंग विलयन
(d)	$\text{C}_6\text{H}_5-\overset{\text{O}}{\parallel}{\text{C}}-\text{OH}$ and $\text{C}_6\text{H}_5-\text{OH}$	(s)	जलीय NaHCO_3

- (1) (a)–(q), (b)–(r), (c)–(s), (d)–(p)
 (2) (a)–(r), (b)–(p), (c)–(q), (d)–(s)
 (3) (a)–(p), (b)–(r), (c)–(q), (d)–(s)
 (4) (a)–(r), (b)–(p), (c)–(s), (d)–(q)

81. $[\text{Fe}(\text{CN}_6)]^{4-}$ यौगिक के संदर्भ में सही है -

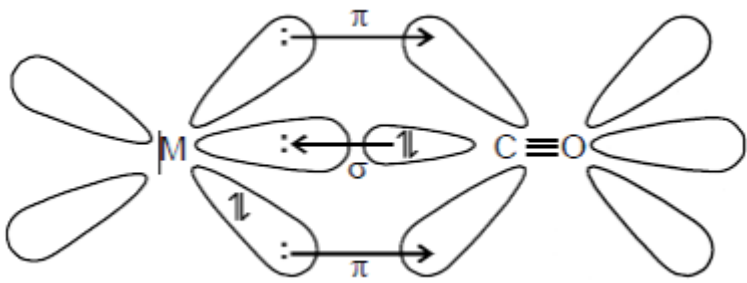
- (1) प्रतियुग्मकीय
 (2) अष्टफलकीय
 (3) $d^2 sp^3$ -संकरण
 (4) उपर्युक्त सभी

82. $\text{CH}_3\text{MgBr} + \text{CdCl}_2 \rightarrow$ (A)
organometallic compound

उत्पाद (B) है

- (1) $\text{CH}_3\text{CH}_2\text{CN}$
 (2) $\text{CH}_3-\overset{\text{O}}{\parallel}{\text{C}}-\text{H}$
 (3) $\text{CH}_3-\overset{\text{O}}{\parallel}{\text{C}}-\text{CH}_3$
 (4) $\text{CH}_3-\overset{\text{CH}_3}{\underset{\text{OH}}{\text{C}}}-\text{CH}_3$

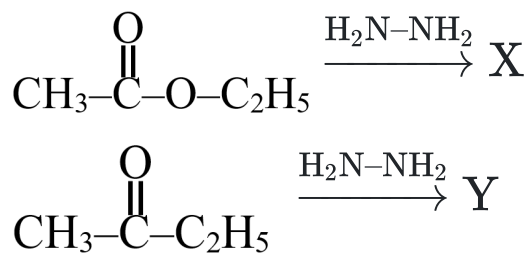
83.



Which of the following statement(s) is/are correct for above schematic diagram of metal carbonyl ?

- (1) It shows synergic bonding interactions in a carbonyl complex
- (2) The (M – C) π bond is formed by the donation of a pair of electrons from a filled d- orbital of metal into the vacant antibonding π^* orbital of carbon monoxide
- (3) CO acts as σ -donor and π -acceptor
- (4) All of these

84.



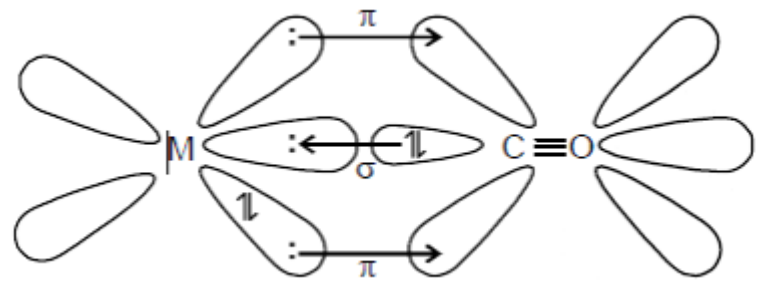
X and Y are

- (1) $\text{X}=\text{CH}_3-\overset{\text{O}}{\parallel}{\text{C}}-\text{OC}_2\text{H}_5$, $\text{Y}=\text{H}_3\text{C}-\overset{\text{O}}{\parallel}{\text{C}}-\text{C}_2\text{H}_5$
 $\text{N}-\text{NH}_2$ $\text{N}-\text{NH}_2$
- (2) $\text{X}=\text{CH}_3-\overset{\text{O}}{\parallel}{\text{C}}-\text{NH}_2$, $\text{Y}=\text{H}_3\text{C}-\overset{\text{O}}{\parallel}{\text{C}}-\text{C}_2\text{H}_5$
 O $\text{N}-\text{NH}_2$
- (3) $\text{X}=\text{CH}_3-\overset{\text{O}}{\parallel}{\text{C}}-\text{NH}-\text{NH}_2$, $\text{Y}=\text{H}_3\text{C}-\overset{\text{O}}{\parallel}{\text{C}}-\text{C}_2\text{H}_5$
 O $\text{N}-\text{NH}_2$
- (4) $\text{X}=\text{CH}_3-\overset{\text{O}}{\parallel}{\text{C}}-\text{C}_2\text{H}_5$, $\text{Y}=\text{H}_3\text{C}-\overset{\text{O}}{\parallel}{\text{C}}-\text{C}_2\text{H}_5$
 $\text{N}-\text{NH}_2$ $\text{N}-\text{NH}_2$

85. Glycinato ligand is –

- (1) $\text{CH}_2-\overset{\cdot\cdot}{\text{N}}\text{H}_2$
 COO^-
- (2) Bidentate ligand
- (3) Two donor sites N and O^-
- (4) All of these

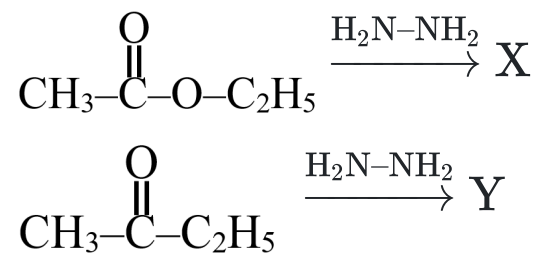
83.



निम्न में से कौनसा कथन धातु कार्बोनिल के उपरोक्त आरेखीय चित्र के लिये सही है

- (1) यह कार्बोनिल संकुल में सहक्रियाशीलता बन्धन अन्तःक्रिया को दर्शाता है
- (2) (M – C) π बन्ध, कार्बन मोनोऑक्साइड के रिक्त प्रतिआबन्धी π^* कक्षक में धातु के भरित dकक्षक से एक इलेक्ट्रॉन युग्म के दान से निर्मित होता है
- (3) CO, σ -दाता तथा π -ग्राही के रूप में कार्य करता है
- (4) उपरोक्त सभी

84.



X तथा Y है

- (1) $\text{X}=\text{CH}_3-\overset{\text{O}}{\parallel}{\text{C}}-\text{OC}_2\text{H}_5$, $\text{Y}=\text{H}_3\text{C}-\overset{\text{O}}{\parallel}{\text{C}}-\text{C}_2\text{H}_5$
 $\text{N}-\text{NH}_2$ $\text{N}-\text{NH}_2$
- (2) $\text{X}=\text{CH}_3-\overset{\text{O}}{\parallel}{\text{C}}-\text{NH}_2$, $\text{Y}=\text{H}_3\text{C}-\overset{\text{O}}{\parallel}{\text{C}}-\text{C}_2\text{H}_5$
 O $\text{N}-\text{NH}_2$
- (3) $\text{X}=\text{CH}_3-\overset{\text{O}}{\parallel}{\text{C}}-\text{NH}-\text{NH}_2$, $\text{Y}=\text{H}_3\text{C}-\overset{\text{O}}{\parallel}{\text{C}}-\text{C}_2\text{H}_5$
 O $\text{N}-\text{NH}_2$
- (4) $\text{X}=\text{CH}_3-\overset{\text{O}}{\parallel}{\text{C}}-\text{C}_2\text{H}_5$, $\text{Y}=\text{H}_3\text{C}-\overset{\text{O}}{\parallel}{\text{C}}-\text{C}_2\text{H}_5$
 $\text{N}-\text{NH}_2$ $\text{N}-\text{NH}_2$

85. ग्लाइसीनेटो लिगेण्ड है –

- (1) $\text{CH}_2-\overset{\cdot\cdot}{\text{N}}\text{H}_2$
 COO^-
- (2) द्विदन्तुक लिगेण्ड
- (3) दो दाता स्थल N और O^-
- (4) इनमें से सभी

- 86.** Given below are two statements : one is labelled as Assertion (A) and the other is labelled as Reason (R).

Assertion (A) : A simple distillation can be used to separate a mixture of propanol and propanone.

Reason (R) : Two liquids with a difference of more than 20°C in their boiling points can be separated by simple distillations.

In the light of the above statements, choose the most appropriate answer from the options given below:

- (1) Both (A) and (R) are correct but (R) is not the correct explanation of (A).
 - (2) (A) is false but (R) is true.
 - (3) (A) is true but (R) is false
 - (4) Both (A) and (R) are correct and (R) is the correct explanation of (A).
- 87.** In the transition of Zn atoms to Zn^{++} ions there is a decrease in the
- (1) Number of valency electrons
 - (2) Atomic weight
 - (3) Atomic number
 - (4) Equivalent weight
- 88.** A white metal sulphide soluble in water is:
- (1) CuS
 - (2) Na_2S
 - (3) PbS
 - (4) ZnS
- 89.** When a mixture of solid NaCl, solid $\text{K}_2\text{Cr}_2\text{O}_7$ is heated with conc. H_2SO_4 , orange red vapours are obtained. These are of the compound.
- (1) chromous chloride
 - (2) chromyl chloride
 - (3) chromic chloride
 - (4) chromic sulphate
- 90.** On heating with concentrated H_2SO_4 a mixture of solid NaCl and KI produces
- (1) Cl_2 , I_2 , and SO_2
 - (2) HCl, HI and I_2
 - (3) HCl, I_2 and SO_2
 - (4) HCl and HI

- 86.** नीचे दो कथन दिए हैं। एक का नाम अभिकथन (A) तथा दूसरे का कारण (R) है।

अभिकथन (A): प्रोपेनॉल तथा प्रोपेनॉन के मिश्रण को साधारण आसवन से पृथक कर सकते हैं।

कारण (R): दो द्रवों जिनके कथनांकों में 20°C से अधिक का अन्तर है उनको साधारण आसवन से पृथक किया जा सकता है।

उपरोक्त कथनों के संदर्भ में, सर्वाधिक उचित उत्तर निम्न विकल्पों में से चुनिए।

- (1) दोनों (A) तथा (R) सही है और (R) सही व्याख्या नहीं है (A) की।
 - (2) (A) सही नहीं है परन्तु (R) सही है।
 - (3) (A) सही है परन्तु (R) सही नहीं है।
 - (4) दोनों (A) तथा (R) सही है और (R) सही व्याख्या है (A) की।
- 87.** Zn परमाणु का Zn^{++} आयन में संक्रमण से कमी आती है
- (1) संयोजकता इलेक्ट्रॉनों की संख्या में
 - (2) परमाणु भार में
 - (3) परमाणु संख्या में
 - (4) तुल्यांकी भार में
- 88.** जल में विलेयशील एक श्वेत धातु सल्फाइड हैं:
- (1) CuS
 - (2) Na_2S
 - (3) PbS
 - (4) ZnS
- 89.** जब ठोस NaCl तथा ठोस $\text{K}_2\text{Cr}_2\text{O}_7$ के मिश्रण को सान्द्र H_2SO_4 के साथ गर्म किया जाता है तो नारंगी लाल रंग की वाष्प किसके कारण प्राप्त होती है -
- (1) क्रोमस क्लोराइड
 - (2) क्रोमिल क्लोराइड
 - (3) क्रोमिक क्लोराइड
 - (4) क्रोमिक सल्फेट
- 90.** ठोस NaCl तथा KI का एक मिश्रण सान्द्र H_2SO_4 के साथ गर्म करने पर बनाता है
- (1) Cl_2 , I_2 , और SO_2
 - (2) HCl, HI और I_2
 - (3) HCl, I_2 और SO_2
 - (4) HCl और HI

BIOLOGY

[BIOLOGY]

91. Stem tendril of pumpkin develop from-

- (1) Accessory bud
- (2) Axillary bud
- (3) Extra – axillary bud
- (4) Floral bud

92. Match List – I with List – II.

	List I		List-II
(a)	Scapula	(i)	Cartilaginous joints
(b)	Cranium	(ii)	Flat bone
(c)	Sternum	(iii)	Fibrous joints
(d)	Vertebral column	(iv)	Triangular flat bone

Choose the correct answer from the options given below.

- (1) (a)-iv, (b)-iii, (c)-ii, (d)-i
- (2) (a)-i, (b)-iii, (c)-ii, (d)-iv
- (3) (a)-ii, (b)-iii, (c)-iv, (d)-i
- (4) (a)-iv, (b)-ii, (c)-iii, (d)-i

93. ATP synthesis in chloroplast and mitochondria is due to proton gradient across the membrane. Select correct statement w.r.t. ATP formation in chloroplast

- (a) Proton accumulates in lumen of thylakoid
- (b) Splitting of water occurs on inner side of thylakoid membrane
- (c) Proton accumulates in stroma side of chloroplast
- (d) NADP reductase is located on stroma side of membrane
- (1) Only (a) and (b) are correct
- (2) Only (b) and (c) are correct
- (3) Only (c) and (d) are correct
- (4) (a), (b) and (d) are correct

91. कद्दू के स्तम्भ प्रतान कहाँ से विकसित होती है-

- (1) सहायक कलिका
- (2) कक्षस्थ कलिका
- (3) अतिरिक्त कक्षस्थ कलिका
- (4) पुष्प कलिका

92. सूची-I का सूची-II के साथ मिलान करो।

	सूची-I		सूची-II
a	स्कैपुला	i	उपस्थि युक्त जोड़
b	कपाल	ii	चपटी अस्थि
c	उरोस्थि	iii	रेशीय जोड़
d	कशेरुक दंड	iv	त्रिभुजाकार चपटी अस्थि

नीचे दिये गये निम्न विकल्पों में से उचित उत्तर का चयन करो।

- (1) (a)-iv, (b)-iii, (c)-ii, (d)-i
- (2) (a)-i, (b)-iii, (c)-ii, (d)-iv
- (3) (a)-ii, (b)-iii, (c)-iv, (d)-i
- (4) (a)-iv, (b)-ii, (c)-iii, (d)-i

93. हरितलवक और माइटोकॉण्ड्रिया में ATP का संश्लेषण, झिल्ली के आर-पार प्रोटॉन प्रवणता के कारण होता है। हरितलवक में ATP के निर्माण के सन्दर्भ में सही कथन का चयन कीजिये :

- (a) प्रोटॉन, थायलेकोइड की अवकाशिका में एकत्रित होते हैं
- (b) जल का विघटन थाइलाकोइड झिल्ली के अन्दर की ओर वाले भाग पर होता है
- (c) प्रोटॉन, हरितलवक के पीठिका की ओर वाले भाग में एकत्रित होते हैं
- (d) NADP रिडक्टेज़, झिल्ली के पीठिका की ओर वाले भाग पर स्थित होता है
- (1) केवल (a) तथा (b) सही हैं
- (2) केवल (b) तथा (c) सही हैं
- (3) केवल (c) तथा (d) सही हैं
- (4) (a), (b) तथा (d) सही हैं

94. Given below are two statements :

Statement I : Restriction endonucleases recognise specific sequence to cut DNA known as palindromic nucleotide sequence.

Statement II : Restriction endonucleases cut the DNA strand a little away from the centre of the palindromic site to produce sticky ends.

In the light of the above statements, choose the most appropriate answer from the options given below :

- (1) Both statement I and statement II are incorrect
- (2) Statement I is correct but statement II is incorrect
- (3) Statement I is incorrect but statement II is correct
- (4) Both statement I and statement II are correct

95. Which of the following layers in an graffian follicle is acellular ?

- (1) Zonapellucida
- (2) Membrane granulosa
- (3) Theca
- (4) Corona radiata

96. Adaptations are the characterstics or attribute of:-

- (1) Organism
- (2) a community
- (3) a population
- (4) None of these

97. A taxon with reference to classification of organisms can be defined as:-

- (1) A group of similar genus
- (2) A group of similar species
- (3) A group of organisms based on chromosome numbers
- (4) A group of any one rank of organisms

94. नीचे दो कथन दिए गए हैं:

कथन I : प्रतिबंधन एंडोन्यूक्लियेज DNA को काटने के लिए विशिष्ट क्रम की पहचान करते हैं जिसे पैलीन्ड्रोमिक न्यूक्लियोटाइड अनुक्रम कहते हैं।

कथन II : प्रतिबंधन एंडोन्यूक्लियेज DNA रज्जुक को पैलीन्ड्रोमिक स्थल के केन्द्र से थोड़ी दूरी पर काटते हैं जिससे चिपचिपे अंत बनते हैं।

ऊपर दिए गए कथनों के संदर्भ में नीचे दिए गए विकल्पों में से सबसे उचित उत्तर का चयन करो।

- (1) दोनों कथन I एवं कथन II गलत हैं।
- (2) कथन I सही है लेकिन कथन II गलत है।
- (3) कथन I गलत है लेकिन कथन II सही है।
- (4) दोनों कथन I एवं कथन II सही हैं।

95. एक ग्राफ़ियन पुटिका में निम्नलिखित में से कौनसी परत अकोशिकीय होती है?

- (1) जोनापेल्यूसिडा
- (2) मेम्ब्रेन ग्रैनुलोसा
- (3) प्रवारक (थीका)
- (4) कोरोना रेडिएटा

96. अनुकूलन किसकी विशेषता या विशेषताएँ है-

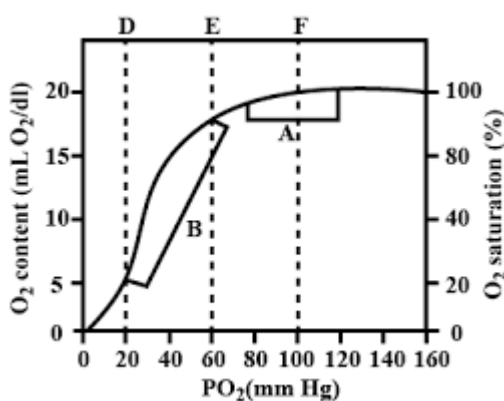
- (1) जीव
- (2) एक समूदाय
- (3) एक समष्टि
- (4) कोई नहीं

97. जीव के वर्गीकरण में वर्गक (Taxon) को किस रूप में पारिभाषित किया जाता है-

- (1) समान वंश का समूह
- (2) समान जातियों का समूह
- (3) गूणसूत्रों की संख्या के आधार पर जीवों के समूहों का निर्धारण
- (4) किसी समूह में जीवों की किसी भी एक "Rank" को

- 98.** How many statements are correct -
 (A) Conducting part transport atmospheric air to lungs.
 (B) Thoracic chamber is an air tight chamber.
 (C) During inspiration diaphragm become flat.
 (D) During expiration, pulmonary volume decreases.
 (E) Intra pulmonary pressure is less than atmospheric pressure during expiration.
- (1) 5
 (2) 3
 (3) 4
 (4) 2

- 99. Direction :** Refer the given graph and select the correct options for the questions that follow

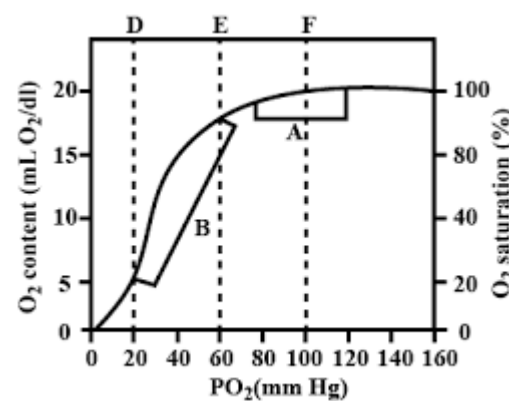


Which of these is incorrect regarding A and B in the given graph ?

- (1) A is deoxygenated blood leaving the tissues
 (2) B is reduced blood returning from tissues
 (3) A is oxygenated blood leaving the lungs
 (4) B is deoxygenated blood in the systemic veins
- 100.** Parthenocarpic fruit is -
 (1) Develop after fertilization from ovary
 (2) Develop without fertilization
 (3) Develop after fertilization from thalamus
 (4) (1) & (3) both
- 101.** Myelin sheath is produced by
 (1) Astrocytes and Schwann Cells
 (2) Oligodendrocytes and Osteoclasts
 (3) Osteoclasts and Astrocytes
 (4) Schwann Cells and Oligodendrocytes

- 98.** कितने कथन सही हैं -
 (A) संवहन भाग वायुमंडलीय वायु का परिवहन फेफड़ों तक करता है।
 (B) वक्षीय कोष्ठ एक वायुरोधी कक्ष है।
 (C) अन्तःश्वसन के दौरान डायाफ्राम चपटा हो जाता है।
 (D) निःश्वसन के दौरान, फुफ्फुसीय आयतन कम हो जाता है।
 (E) निःश्वसन के दौरान अंतराफुफ्फुसीय दाब वायुमंडलीय दाब से कम होता है।
- (1) 5
 (2) 3
 (3) 4
 (4) 2

- 99. निर्देश :** दिये गये ग्राफ को देखें और नीचे दिये गए प्रश्नों के सही विकल्प चुनें।



दिये गये ग्राफ में A तथा B से संबंधित निम्न में से कौनसा कथन गलत है ?

- (1) A ऑक्सीजनरहित रक्त है जो ऊतक से निकलता है।
 (2) B ऊतकों से आने वाला हासित रक्त है।
 (3) A ऑक्सीजनयुक्त रक्त है जो फेफड़ों से निकलता है।
 (4) B ऑक्सीजनरहित रक्त है जो दैहिक शिरा में पाया जाता है।
- 100.** अनिषेकफलित फल होता है -
 (1) निषेचन के पश्चात् अण्डाशय से विकसित होता है
 (2) निषेचन के बिना विकसित होता है
 (3) निषेचन के बाद थैलेमस से विकसित होता है
 (4) (1) और (3) दोनों
- 101.** मायलिन आच्छद किसके द्वारा उत्पन्न होता है ?
 (1) तारा कोशिका एवं श्वान कोशिकाएं
 (2) ऑलिगोडेंड्रोसाइट्स एवं अस्थिशोषक
 (3) अस्थिशोषक एवं तारा कोशिकाएं
 (4) श्वान कोशिकाएं एवं ऑलिगोडेंड्रोसाइट्स

102. The essential role of air in the growth of green plants was revealed by

- (1) Priestley
- (2) Van Niel
- (3) Blackmann
- (4) Emerson

103. Match the column :

	Column-I		Column-II
I	Recombinant DNA technology	A	Vector
II	Extrachromosomal element	B	Sealing enzyme
III	Macromolecular separation	C	Electrophoresis
IV	DNA ligase	D	Genetic engineering

- (1) I-D, II-A, III-B, IV-C
- (2) I-A, II-D, III-B, IV-C
- (3) I-D, II-A, III-C, IV-B
- (4) I-B, II-A, III-D, IV-C

104. Read the following statements and select the **correct** options :-

(A) The hormone, human chorionic gonadotropin facilitates parturition by softening the connective tissue of the pubic symphysis.

(B) Spermatogonium has 23 chromosomes in its nucleus.

(C) During fertilisation, a sperm comes in contact with the zona pellucida layer of the ovum and induces the changes in the membrane that block the entry of additional sperms.

(D) After one month of pregnancy, the major organ systems are formed.

(E) The milk produced during the initial few days of lactation is called Colostrum.

- (1) B, C & E are correct, but A & D are incorrect
- (2) A, C & E are correct, but B & D are incorrect
- (3) A & B are correct, but C, D & E are incorrect
- (4) C & E are correct, but A, B & D are incorrect

102. हरे पादपों की वृद्धि में वायु की अनिवार्य भूमिका का खुलासा किसके द्वारा किया गया?

- (1) प्रीस्टले
- (2) वैन नील
- (3) ब्लैकमैन
- (4) इमरसन

103. कॉलम को सुमेलित करें-

	कॉलम -I		कॉलम -II
I	पुनर्योगज DNA तकनीक	A	वाहक
II	अतिरिक्त गुणसूत्रीय तत्व	B	सीलिंग एंजाइम
III	वृहद अणुओं का पृथक्करण	C	विद्युत कण संचलन
IV	DNA लाइगेज	D	आनुवांशिक अभियांत्रिकी

- (1) I-D, II-A, III-B, IV-C
- (2) I-A, II-D, III-B, IV-C
- (3) I-D, II-A, III-C, IV-B
- (4) I-B, II-A, III-D, IV-C

104. निम्नलिखित कथनों को पढ़ें और सही विकल्प का चयन करें

(A) मानव जरायु गोनेडोट्रोपिन (HCG) प्लूबिक सिम्फिसिस के संयोजी ऊतक को नरम बनाकर प्रसव में सहायता करता है,

(B) शुक्राणुजन के केंद्रक में 23 गुणसूत्र होते हैं।

(C) निषेचन के दौरान एक शुक्राणु अंडाणु के पारदर्शी अंडावरण (जोना पेल्युसिडा) स्तर के संपर्क में आता है और अतिरिक्त शुक्राणुओं के प्रवेश को रोकने हेतु उसके उक्त स्तर में बदलाव प्रेरित करता है।

(D) गर्भावस्था के एक महीने बाद, प्रमुख अंग तंत्र बन जाता है।

(E) दुग्धस्रवण के आरंभिक कुछ दिनों तक जो दूध निकलता है उसे प्रथम स्तन्य या खीस (कोलोस्ट्रम) कहते हैं,

- (1) B, C व E सही हैं, लेकिन A व D गलत हैं।
- (2) A, C व E सही हैं, लेकिन B व D गलत हैं।
- (3) A व B सही हैं, लेकिन C, D व E गलत हैं।
- (4) C व E सही हैं, लेकिन A, B व D गलत हैं।

105. Ecology is basically concerned with four levels of biological organization. These levels are:-

- (1) Organisms, populations, communities and biomes
- (2) Organisms and communities, species and population
- (3) Species, populations, biomes and organisms
- (4) Organisms, populations, biome and species

106. Which of the following is the defining property of living?

- (1) Reproduction
- (2) Metabolism
- (3) Growth
- (4) Both (1) & (3)

107. $Ebr \oplus \text{♀} K_{2+2} C_4 A_{2+4} \underline{G}_{(2)}$

given floral formula is belong to:-

- (1) Compositae
- (2) Malvaceae
- (3) Poaceae
- (4) Cruciferae

108. Receptor sites for neurotransmitters are present on-

- (1) Pre-synaptic membrane
- (2) Tips of axons
- (3) Post-synaptic membrane
- (4) Membranes of synaptic vesicles

109. Select correct match

(a)	OEC	(i)	Primary e^- acceptor
(b)	NADP reductase	(ii)	Photolysis of H_2O
(c)	Cyt b_6f	(iii)	Outer surface of thylakoid membrane
(d)	Phaeophytin	(iv)	Connects PS II & I

- (1) a(ii), b(iii), c(iv), d(i)
- (2) a(ii), b(iii), c(i), d(iv)
- (3) a(iii), b(i), c(ii), d(iv)
- (4) a(i), b(ii), c(iii), d(iv)

105. परिस्थितिकी को जैविक संगठन के आधार पर चार स्तरों में लिया जाता है, ये स्तर हैं-

- (1) जीव, समष्टि, समुदाय तथा बायोम
- (2) जीव, तथा समुदाय, जाति तथा समष्टि
- (3) जाति, समष्टि बायोम तथा जीव
- (4) जीव, समष्टि, बायोम, तथा जाति

106. निम्नलिखित में जीवन को परिभाषित करने वाला लक्षण है?

- (1) जनन
- (2) उपापचय
- (3) वृद्धि
- (4) (1) तथा (3) दोनों

107. $Ebr \oplus \text{♀} K_{2+2} C_4 A_{2+4} \underline{G}_{(2)}$

दिया गया पुष्प सूत्र किसे संबंधित है-

- (1) कम्पोजिटी
- (2) मालवेसी
- (3) पोएसी
- (4) क्रूसिफेरी

108. न्यूरो ट्रांसमीटर के लिये ग्राही स्थल कहाँ उपस्थित होते हैं-

- (1) पूर्व-सिनेप्टिक झिल्ली पर
- (2) तंत्रिका के सिरों पर
- (3) पश्च सिनेप्टिक झिल्ली पर
- (4) सिनेप्टिक आशयों की झिल्लीयों पर

109. सही मिलान चुनें

(a)	OEC	(i)	प्राथमिक इलेक्ट्रॉन ग्राही
(b)	NADP रिडक्टेज़	(ii)	H_2O का प्रकाशअपघटन
(c)	Cyt b_6f	(iii)	थाइलेकोइड झिल्ली की बाहरी सतह
(d)	फीओफाइटिन	(iv)	जुड़े हुए PS II व I

- (1) a(ii), b(iii), c(iv), d(i)
- (2) a(ii), b(iii), c(i), d(iv)
- (3) a(iii), b(i), c(ii), d(iv)
- (4) a(i), b(ii), c(iii), d(iv)

- 110.** Which among the following be considered as a key tool in recombinant DNA technology
- Restriction enzymes
 - Polymerase enzymes
 - Ligases
 - Vectors
 - Host organisms
- d
 - a, b
 - c, e
 - All of these
- 111.** Scrotum helps in maintaining the low temperature of the testis **A** lower than the normal internal body temperature. Each testis, with a length about **B** and a width of **C**.
- Each testis has about **D** compartments called testicular lobules.
- A- 2-2.5°C, B- 4to5cm, C- 2 to 3cm, D-250
 - A- 3 - 3.5°C, B- 6 - 7 cm, C- 2 to 3 cm, D- 250
 - A- 2- 2.5°C, B- 4 to5 cm, C- 2to 3 cm, D- 350
 - A- 3 - 3.5°C, B- 6 - 7 cm, C- 2 to 5 cm, D- 350
- 112.** Which of the following is most important and ecologically relevant environmental abiotic factor-
- Light
 - Temperature
 - Water
 - Soil
- 113.** Which of the following is a group of 'living fossils'?
- Fungi
 - Archaeobacteria
 - Mycoplasma
 - Cyanobacteria

- 110.** पुनर्संयोजी DNA प्रौद्योगिकी में कौन मुख्य उपकरणों में सम्मिलित किया जाता है-
- रेस्ट्रिक्शन एंजाइम
 - पॉलीमरेज एंजाइम
 - लाइगेज
 - संवाहक
 - परपोषी जीव
- d
 - a, b
 - c, e
 - उपरोक्त सभी
- 111.** वृषणकोष वृषणों के तापमान को शरीर के तापमान से **A** कम रखने में सहायक होता है। प्रत्येक वृषण, जिसकी लम्बाई लगभग **B** और चौड़ाई लगभग **C** होती है।
- प्रत्येक वृषण में लगभग **D** कक्ष होते हैं जिन्हें वृषण पालिकाएँ (टेस्टिकुलर लोब्युल्स) कहते हैं।
- A- 2-2.5°C, B- 4 से 5cm, C- 2 से 3cm, D-250
 - A- 3 - 3.5°C, B- 6 - 7 cm, C- 2 से 3 cm, D- 250
 - A- 2- 2.5°C, B- 4 से 5 cm, C- 2 से 3 cm, D- 350
 - A- 3 - 3.5°C, B- 6 - 7 cm, C- 2 से 5 cm, D- 350
- 112.** निम्नलिखित में से कौनसा पारिस्थितिकीय रूप से आवश्यक व उपयुक्त वातावरणीय अजैविक कारक है-
- प्रकाश
 - तापमान
 - जल
 - मृदा
- 113.** निम्नलिखित में से कौनसा एक समूह जीवित जीवाश्मों का है ?
- कवक
 - आद्यजीवाणु
 - माइकोप्लाज्मा
 - साइनोबैक्टीरिया

114. Given below are two statement –

Statement-I : The atrium and ventricle of same side are separated by thick muscular tissue called atrio ventricular septum.

Statement-II : Atrio ventricular septum has a muscular value between the atria and ventricle of same side.

In the light of above statements choose the most appropriate answer from the options given below.

- (1) Both statement-I and statement II are incorrect
- (2) Statement I is correct but statement II is incorrect
- (3) Statement I is incorrect but statement II is correct
- (4) Both statement I and statement II are correct

115. Read the following statements and choose the incorrect option.

- (1) A plant is made up of different kinds of tissues.
- (2) Tissues are classified into two main groups, namely, simple and permanent tissues.
- (3) Different organs in a plant show differences in their internal structure.
- (4) Within angiosperms, the monocots and dicots are also seen to be anatomically different.

116. Select the correct one:-

- (i) Pons made up of fibre tracts that inter connect different region of brain.
- (ii) The front partion of midbrain consist of 4 rounded swelling called corpora quadrigemina
- (iii) Limbic system and hypothalamus regulate libido, and emotional reactiones.
- (iv) Hypothalamus lie at the apex of thalamus

- (1) i, iii
- (2) i, iv
- (3) ii, iii
- (4) iii, iv

114. निम्नलिखित दो कथन दिए गए हैं -

कथन-I: अपनी-अपनी ओर के अलिंद एवं निलय एक मोटे पेशीय ऊतक द्वारा पृथक रहते हैं जिसे अलिंद निलय पट कहते हैं।

कथन-II: अलिंद निलय पट में एक पेशीय कपाट होता है, जो एक ही ओर के अलिंद और निलय के बीच होता है।

उपरोक्त कथनों के संदर्भ में, नीचे दिये गये विकल्पों की सहायता से उपयुक्त उत्तर का चयन कीजिए।

- (1) कथन-I और कथन-II दोनों गलत हैं।
- (2) कथन-I सही है लेकिन कथन-II गलत है।
- (3) कथन-I गलत है लेकिन कथन-II सही है।
- (4) कथन-I और कथन-II दोनों सही हैं।

115. नीचे दिए गए कथनों को पढ़ें और गलत विकल्प का चयन करें

- (1) एक पौधा विभिन्न प्रकार के ऊतकों से बना होता है।
- (2) ऊतक दो मुख्य समूहों में वर्गीकृत होते हैं, अर्थात् सरल और स्थायी ऊतक।
- (3) पौधे में विभिन्न अंग उनकी आंतरिक संरचना में भिन्नता दर्शाते हैं।
- (4) ऐंजियोस्पर्म में, एकबीजपत्री तथा द्विबीजपत्री भी शारीरिक रूप से अलग दिखाई देते हैं।

116. सही एक का चयन कीजिए-

- (i) पोंस फाइबर के बने होते हैं जो मस्तिष्क के विभिन्न क्षेत्रों को आपस में जोड़ते हैं।
- (ii) मध्यमस्तिष्क का अग्र भाग गोल सूजन से बना होता है जिन्हें कॉर्पोरा क्वाड्रिजेमिना कहते हैं।
- (iii) लिम्बिक सिस्टम और हाइपोथैलेमस लिबिडो व भावनात्मक प्रतिक्रियाओं की अभिव्यक्ति करते हैं।
- (iv) हाइपोथैलेमस थैलेमस के शीर्ष पर स्थित होता है।

- (1) i, iii
- (2) i, iv
- (3) ii, iii
- (4) iii, iv

117. Statement-I : Equal amounts of CO_2 and O_2 are evolved and consumed when carbohydrates are incompletely oxidised.

Statement-II : Pure proteins or fats are never used as respiratory substrates.

(1) Both statement I and Statement II are incorrect.

(2) Statement I is correct but Statement II is incorrect

(3) Statement I is incorrect but Statement II is correct

(4) Both Statement I and Statement II are correct

118. Which of the following restriction sites are not present on pBR322?

(1) Pst I, Eco RI

(2) Cla I, Hind III

(3) BamH I, Sal I

(4) Hind II, Pst II

119. What is true for "Lactational amenorrhoea"?

(i) It means absence of menstruation.

(ii) Ovulation does not occur during the initial 6 months of lactational period.

(iii) Chances of contraception are almost nil upto six months following parturition.

(iv) Side effect are almost nil

(v) Chances of failure, though of this method are also very low.

(vi) It is a natural method of contraception.

(vii) It increasing phagocytosis of sperms.

(1) (ii), (iii), (iv), (v), (vi)

(2) (i), (ii), (iii), (iv), (vi)

(3) (ii), (iii), (iv), (v)

(4) (i), (ii), (iii), (iv), (v), (vi)

120. Which of the following is the example of biological control?

(1) Control of mosquitoes by DDT

(2) Control of Opuntia by a predator (moth), a type of insect

(3) Decreasing the carrying capacity of the habitat by poisoning it

(4) All the above

117. कथन-I : जब कार्बोहाइड्रेट अपूर्ण रूप से ऑक्सीकृत होते हैं तो CO_2 और O_2 की समान मात्रा निष्कासित और खपत होती है।

कथन-II : शुद्ध प्रोटीन व वसा श्वसनी क्रियाधारों के रूप में कभी प्रयुक्त नहीं होते हैं।

(1) कथन I और कथन II दोनों गलत हैं।

(2) कथन I सही है लेकिन कथन II गलत है

(3) कथन I गलत है लेकिन कथन II सही है

(4) कथन I और कथन II दोनों सही हैं

118. निम्न में से कौनसे प्रतिबंधन स्थल pBR322 में उपस्थित नहीं होते हैं ?

(1) Pst I, Eco RI

(2) Cla I, Hind III

(3) BamH I, Sal I

(4) Hind II, Pst II

119. स्तनपान अनारतव के संदर्भ में क्या सत्य है?

(i) इसका अर्थ मासिक धर्म का अभाव है।

(ii) स्तनपान के प्रारंभिक 6 माह की अवधि के दौरान की अंडोत्सर्जन नहीं होता।

(iii) प्रसव के बाद छह महीने तक गर्भधारण के अवसर लगभग न के बराबर होते हैं।

(iv) इसके दुष्प्रभाव लगभग न के बराबर होते हैं।

(v) इस विधि की विफलता की संभावना बहुत कम होती है।

(vi) यह गर्भ निरोध की एक प्राकृतिक विधि है।

(vii) यह शुक्राणुओं की फागोसाइटोसिस को बढ़ाता है।

(1) (ii), (iii), (iv), (v), (vi)

(2) (i), (ii), (iii), (iv), (vi)

(3) (ii), (iii), (iv), (v)

(4) (i), (ii), (iii), (iv), (v), (vi)

120. निम्नलिखित में से कौनसा एक जैविक नियंत्रण का उदाहरण है?

(1) DDT द्वारा मच्छरों का नियंत्रण

(2) नागफनी का नियंत्रण एक परभक्षी (मॉथ) द्वारा जो एक प्रकार का कीट है

(3) विष के द्वारा आवास की वहन क्षमता कम करना

(4) उपरोक्त सभी

121. Match the columns :

	Column-I		Column-II
A.	Amoeboid protozoans	(i)	Paramoecium
B.	Flagellated protozoans	(ii)	Plasmodium
C.	Ciliated protozoans	(iii)	Entamoeba
D.	Sporozoans	(iv)	Trypanosoma

(1) A = (ii), B = (iv), C = (iii), D = (i)

(2) A = (i), B = (ii), C = (iii), D = (iv)

(3) A = (iii), B = (iv), C = (i), D = (ii)

(4) A = (iii), B = (iv), C = (ii), D = (i)

122. Read the following sentences carefully and choose incorrect options:-

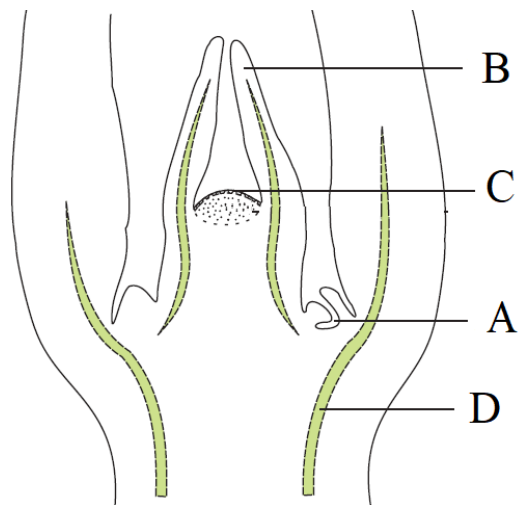
(1) Reptiles and amphibia have incomplete double circulation.

(2) Eosinophils counting increased in allergic condition.

(3) Circulatory pathway between alimentary canal and liver is hepatic portal system.

(4) For safe blood transfusion, recipients blood should contain antibodies against donor's bloods antigen

123. Examine the figure given below and select the correct option that represents the correct labelling A, B, C and D.



(1) A-Leaf primordium, B-Meristematic, C-Axillary bud, D-Intercalary meristem

(2) A-Leaf Primordium, B-Short optical meristem, C-Axillary bud, D-Cork cambium

(3) A-Axillary bud, B-Leaf primordium, C-Shoot apical meristem, D-Differentiating vascular tissue

(4) A-Axillary bud, B-Shoot apical meristem, C-Meristematic zone, D-Leaf primordia

121. कॉलम सुमेलित करें-

	कॉलम -I		कॉलम -II
A.	अमीबीय प्रोटोजोआ	(i)	पैरामीशियम
B.	कशाभयुक्त प्रोटोजोआ	(ii)	प्लाज्मोडियम
C.	पक्ष्माभी प्रोटोजोआ	(iii)	एंटांमीबा
D.	स्पोरोजोआ	(iv)	ट्रिपैनोसोमा

(1) A = (ii), B = (iv), C = (iii), D = (i)

(2) A = (i), B = (ii), C = (iii), D = (iv)

(3) A = (iii), B = (iv), C = (i), D = (ii)

(4) A = (iii), B = (iv), C = (ii), D = (i)

122. निम्नलिखित वाक्यों को ध्यानपूर्वक पढ़ें तथा गलत विकल्प का चयन करें-

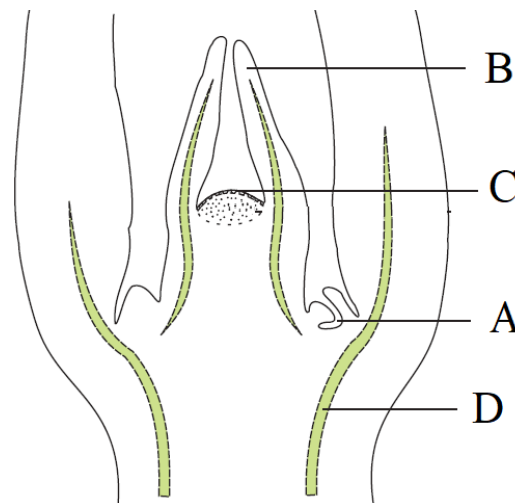
(1) सरीसृप और उभयचर में अपूर्ण दोहरा परिसंचरण होता है।

(2) एलर्जी की स्थिति में इओसिनोफिल्स की संख्या बढ़ जाती है।

(3) आहार नाल तथा यकृत के मध्य परिसंचरण पथ, यकृतीय निवाहिका तंत्र है।

(4) सुरक्षित रक्त आधान के लिए, ग्राही के रक्त में दाता के रक्त प्रतिजन के प्रति एंटीबॉडी होना चाहिए

123. नीचे दिए गए चित्र का अध्ययन करें और सही विकल्प का चयन करें जो A, B, C और D के सही चिन्हों को दर्शाता है।



(1) A - पत्ती आद्यक, B- मेरिस्टेमेटिक, C- कक्षीय कली, D- अंतरर्वेशी विभज्योतक

(2) A - पत्ती आद्यक, B - शोर्ट ऑप्टिकल विभज्योतक, C - कक्षीय कली, D - छाल केम्बियम

(3) A- कक्षीय कली, B - पत्ती आद्यक, C - प्ररोह शीर्ष विभज्योतक, D - विभेदित संवहन ऊतक

(4) A - कक्षीय कली, B - प्ररोह शीर्ष विभज्योतक, C - मेरिस्टेमेटिक क्षेत्र, D - पत्ती आद्यक

124. Match the following columns and select the **correct** option.

Column-I	Column-II
(a) Pituitary gland	(i) Grave's disease
(b) Thyroid gland	(ii) Diabetes mellitus
(c) Adrenal gland	(iii) Diabetes insipidus
(d) Pancreas	(iv) Addison's disease

- (1) (a) → (iii), (b) → (ii), (c) → (i), (d) → (iv)
 (2) (a) → (iii), (b) → (i), (c) → (iv), (d) → (ii)
 (3) (a) → (ii), (b) → (i), (c) → (iv), (d) → (iii)
 (4) (a) → (iv), (b) → (iii), (c) → (i), (d) → (ii)

125. F₁ part of complex V-

- (1) Integral transmembrane protein
 (2) Peripheral component made of complex lipids
 (3) Have specific proton tunnels for pumping protons across inner membrane of mitochondria
 (4) Peripheral membrane protein with ATP synthase activity

126. Select the correct option to fill up the blanks.

- (i) _____ enzyme is crucial for the immune system to function and its absence is caused by the deletion of a gene.
 (ii) _____ Insulin _____ consists of _____ and _____ that are linked together by _____.
 (iii) Transgenic mice are being used to test the safety of the _____.
 (iv) _____ involves silencing of a specific mRNA due to a complementary dsRNA molecule that binds to and prevents translation of the mRNA.
 (1) (i) Adenosine deaminase, (ii) A-chain, B-chain, disulphide bridges. (iii) polio vaccine (iv) RNAi
 (2) (i) RNAi (ii) A-chain, B-chain, disulphide bridges, (iii) adenosine deaminase, (iv) polio vaccine
 (3) (i) Adenosine deaminase (ii) A-chain, B-chain, hydrogen bonds (iii) polio vaccine (iv) RNAi
 (4) (i) RNAi (ii) A-chain, B-chain, noncovalent bridges, (iii) polio vaccine (iv) adenosine deaminase

124. निम्न स्तम्भों का मिलान कर सही विकल्प का चयन करें।

स्तम्भ प्रथम	स्तम्भ द्वितीय
(a) पीयूष ग्रंथि	(i) ग्रेव्स रोग
(b) थाइरॉइड ग्रंथि	(ii) डायबिटीज मेलिटस
(c) अधिवृक्क ग्रंथि	(iii) डायबिटीज इन्सीपिडस
(d) अग्न्याशय	(iv) एडीसन रोग

- (1) (a) → (iii), (b) → (ii), (c) → (i), (d) → (iv)
 (2) (a) → (iii), (b) → (i), (c) → (iv), (d) → (ii)
 (3) (a) → (ii), (b) → (i), (c) → (iv), (d) → (iii)
 (4) (a) → (iv), (b) → (iii), (c) → (i), (d) → (ii)

125. कॉम्प्लैक्स V का F₁ भाग होगा-

- (1) आन्तरिक ट्रान्समैम्ब्रेन प्रोटीन
 (2) जटिल लीपिड से बना परिधीय घटक
 (3) माइटोकाण्ड्रिया की आन्तरिक कला के आर-पार प्रोटॉन को पम्प करने हेतु विशिष्ट प्रोटॉन टनल
 (4) ATP सिन्थेज क्रियाविधि युक्त परिधीय झिल्ली प्रोटीन।

126. रिक्त स्थानों की पूर्ति के लिये सही विकल्प का चयन करें-

- (i) _____ एन्जाइम प्रतिरक्षा तंत्र के कार्य करने के लिए महत्वपूर्ण है तथा इसकी अनुपस्थिति, एक जीन के विलोपन के कारण होती है
 (ii) इन्सुलिन _____ तथा _____ से बना होता है तथा _____ द्वारा आपस में जुड़े होते हैं
 (iii) _____ की सुरक्षा का परीक्षण करने के लिए पारजीनी चूहों का उपयोग किया जा रहा है
 (iv) _____ में पूरक dsRNA अणु द्वारा विशिष्ट mRNA का संदमन सम्मिलित होता है जो mRNA से जुड़कर अनुवादन को रोकता है
 (1) (i) एडिनोसिन डिऐमीनेज, (ii) A-श्रृंखला, B-श्रृंखला, डाइसल्फाइड सेतु. (iii) पोलियो वेक्सीन (iv) RNAi
 (2) (i) RNAi (ii) A-श्रृंखला, B-श्रृंखला, डाइसल्फाइड सेतु, (iii) एडिनोसिन डिऐमीनेज, (iv) पोलियो वेक्सीन
 (3) (i) एडिनोसिन डिऐमीनेज (ii) A-श्रृंखला, B-श्रृंखला, हाइड्रोजन बन्ध (iii) पोलियो वेक्सीन (iv) RNAi
 (4) (i) RNAi (ii) A-श्रृंखला, B-श्रृंखला, असहसंयोजी सेतु, (iii) पोलियो वेक्सीन (iv) एडिनोसिन डिऐमीनेज

127. Who proposed the process of evolution as a result of saltation?

- (1) A scientist working on Galapagos Islands
- (2) A scientist working with *Mirabilis jalapa*
- (3) A scientist working on *Oenothera lamarckiana* (evening primrose)
- (4) A scientist working on Malay archipelago

128. The pyramid that cannot take the 'inverted' shape is -

- (1) Pyramid of numbers
- (2) Pyramid of biomass
- (3) Pyramid of energy
- (4) Pyramid of parasitism

129. Silica gel (Keieselgur) / Diatomite / Diatomaceous earth is obtained by-

- (1) Chrysophyta
- (2) Dinoflagellates
- (3) Euglenoids
- (4) Brown algae

130. In counter current mechanism, NaCl is returned to-

- (1) The interstitium by the ascending portion of vasa recta
- (2) The interstitium by the descending portion of vasa recta
- (3) The interstitium by the ascending portion of Henle loop
- (4) The interstitium by the descending portion of Henle's loop

131. Starch grains are abundant in the endodermal cells of

- (1) Monocot root
- (2) Dicot stem
- (3) Monocot stem
- (4) Dicot root

132. Presence of which of the following conditions in urine are indicative of Diabetes Mellitus?

- (1) Uremia and Renal Calculi
- (2) Ketonuria and Glycosuria
- (3) Renal calculi and Hyperglycaemia
- (4) Uremia and Ketonuria

127. विकास की प्रक्रिया को उच्छलन के परिणामस्वरूप किसने प्रस्तावित किया था?

- (1) एक वैज्ञानिक जो गैलापेगोस द्वीपों पर काम कर रहा था
- (2) एक वैज्ञानिक जो मिराबिलिस जलापा पर काम कर रहा था
- (3) एक वैज्ञानिक जो ओएनोथीरा लैमार्कियाना (इवनिंग प्राइमरोज) पर काम कर रहा था
- (4) एक वैज्ञानिक जो मलय आर्कपिलेगो पर काम कर रहा था

128. वह पिरामिड जो उल्टा आकार नहीं ले सकता है -

- (1) संख्याओं के पिरामिड
- (2) बायोमास के पिरामिड
- (3) ऊर्जा के पिरामिड
- (4) परजीविता के पिरामिड

129. सिलिका जेल (कीसेलगर) / डायटोमाइट / डाईटमेशियस मृदा किससे प्राप्त होती है?

- (1) क्राईसोफाईटा
- (2) डाइनोफ्लैजलेट्स
- (3) यूग्लीना
- (4) भूरे शैवाल

130. प्रतिधारा प्रवाह प्रक्रिया में, NaCl लौटा दिया जाता है?

- (1) अंतराकाश को वासा रेक्टा की आरोही भुजा द्वारा
- (2) अंतराकाश को वासा रेक्टा की अवरोही भुजा द्वारा
- (3) अंतराकाश को हेनले के लूप की आरोही भुजा द्वारा
- (4) अंतराकाश को हेनले के लूप की अवरोही भुजा द्वारा

131. किसकी अन्तस्त्वचीय कोशिकाओं में मण्ड कण प्रचुर मात्रा में होते हैं?

- (1) एकबीजपत्री जड़
- (2) द्विबीजपत्री तना
- (3) एकबीजपत्री तना
- (4) द्विबीजपत्री जड़

132. निम्न में मूत्र की कौनसी अवस्था डायबिटीज मेलिटस की ओर संकेत करती है ?

- (1) यूरेमिया एवं रीनल कैल्कुली
- (2) कीटोनुरिया एवं ग्लाइकोसूरिया
- (3) रीनल कैल्कुली एवं हाइपरग्लाइसिमिया
- (4) यूरेमिया एवं कीटोनुरिया

133. In the process of Respiration in plants 180 gm of Glucose plus 192 gm of oxygen produce-

- (1) 132 gm of CO₂, 54 gm of H₂O & 483 Cal. Energy
- (2) 264 gm of CO₂, 108 gm of H₂O, & 686 KCal Energy
- (3) 200 gm of C₂H₅OH, 72 gm of H₂O & 21 K. Cal Energy
- (4) None

134. Bt toxins exist as inactive protoxins in bacteria but when an insect ingest the inactive toxin it becomes active toxin in the presence of-

- (1) Alkaline pH of insect mid gut
- (2) Acidic pH of insect mid gut
- (3) Bacterial enzyme
- (4) Specific protein

135. Gases found in primitive atmospheres are:

- (1) CH₄, NH₃, H₂, H₂O (vapour form)
- (2) CH₄, NH₃, CO₂, H₂O
- (3) CH₄, H₂O, CO₂
- (4) CH₄, O₂, CO₂

136. The Pyramid of numbers in grassland ecosystem will be -

- (1) Up right
- (2) Inverted
- (3) Irregular
- (4) Linear

137. Plants having vascular tissues but lacking seeds are:-

- (1) Bryophytes
- (2) Pteridophytes
- (3) Gymnosperms
- (4) Angiosperms

133. पादपों में श्वसन क्रिया में 180 ग्राम ग्लूकोज और 192 ग्राम ऑक्सीजन से उत्पन्न होते हैं-

- (1) 132 ग्राम CO₂, 54 ग्राम H₂O और 483 कैलोरी ऊर्जा
- (2) 264 ग्राम CO₂, 108 ग्राम H₂O और 686 KCal ऊर्जा
- (3) 200 ग्राम C₂H₅OH, 72 ग्राम H₂O और 21 KCal ऊर्जा
- (4) कोई नहीं

134. जीवाणु में Bt टॉक्सिन निष्क्रिय प्रोटोक्सीन के रूप में होता है, परन्तु जब एक कीट इसका अन्तःग्रहण करता है तो यह निष्क्रिय टॉक्सिन, सक्रिय टॉक्सिन में किसकी उपस्थिति में बदलता है, किसकी उपस्थिति में-

- (1) कीट की मध्यांत्र की क्षारीय pH में
- (2) कीट की मध्यांत्र की अम्लीय pH में
- (3) जीवाणु के एंजाइम से
- (4) विशिष्ट प्रोटीन

135. प्राचीन वातावरण में निम्न गैसों उपस्थित थीं:

- (1) CH₄, NH₃, H₂, H₂O (वाष्प रूप में)
- (2) CH₄, NH₃, CO₂, H₂O
- (3) CH₄, H₂O, CO₂
- (4) CH₄, O₂, CO₂

136. एक घास स्थल पारितंत्र में संख्या का पिरैमिड होगा -

- (1) सीधा
- (2) उल्टा
- (3) लम्बवत
- (4) अनियमित

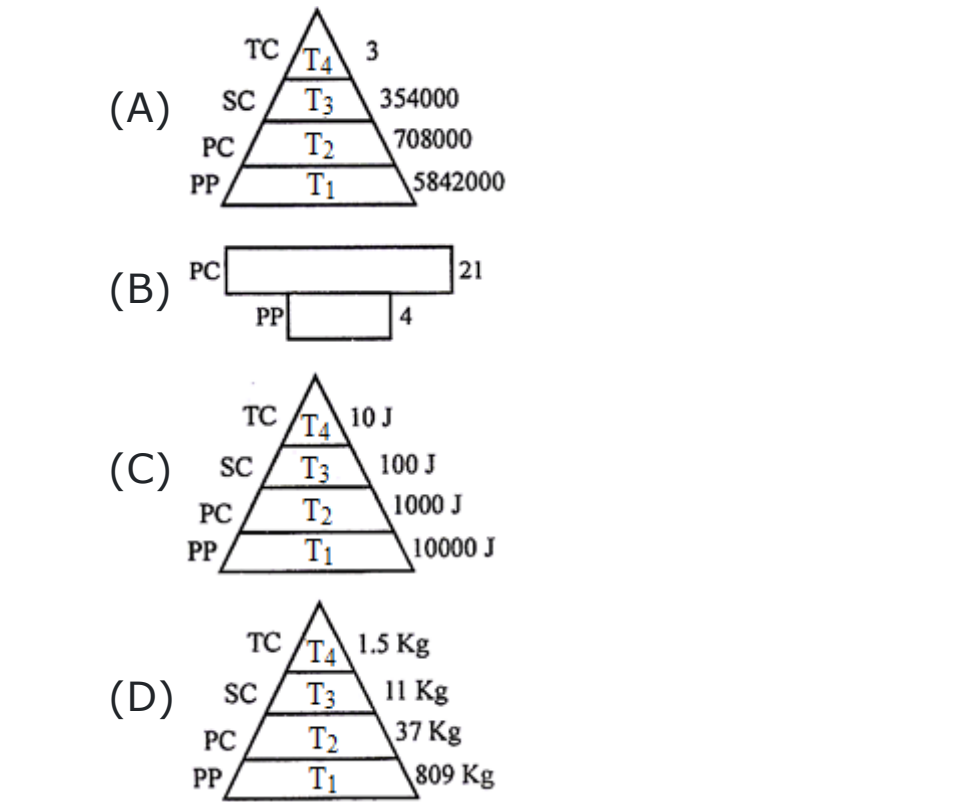
137. कौनसे पादपों में संवहन ऊतक होते हैं परन्तु बीजों की कमी होती है-

- (1) ब्रायोफायट्स
- (2) टेरीडोफायट्स
- (3) जिम्नोस्पर्म
- (4) एंजियोस्पर्म

138. Which of the following is not true about micturition reflex?

- (1) It is initiated by stretch receptors in the ureters
- (2) It relies on parasympathetic impulses from the micturition centre
- (3) It results in contraction of muscles of urinary bladder
- (4) It stimulates the internal urethral sphincter to relax

139. The four pyramids (A, B, C and D) given below represent four different type of ecosystem ecological pyramids, which one of these is correctly identified in the options given, along with its correct ecosystem & type of pyramid :



(1)

Type of pyramid	Ecosystem
Pyramid of number	Tree ecosystem

(2)

Type of pyramid	Ecosystem
Pyramid of Biomass	Grassland ecosystem

(3)

Type of pyramid	Ecosystem
Pyramid of energy	Grassland ecosystem

(4)

Type of pyramid	Ecosystem
Pyramid of Biomass	Sea ecosystem

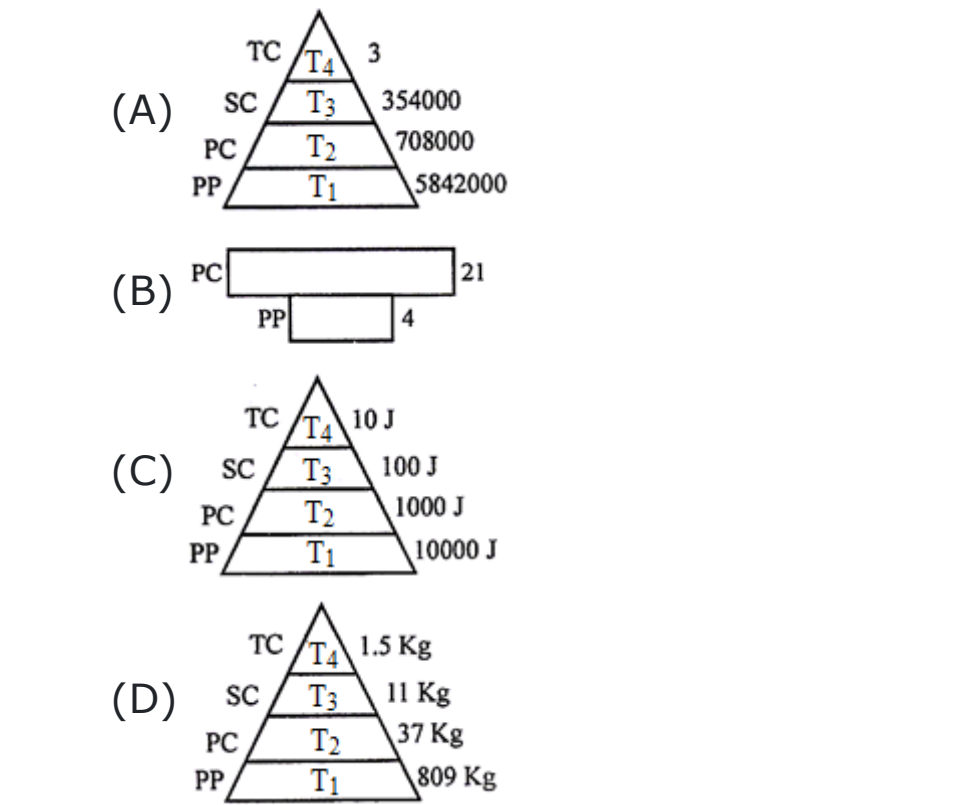
140. Mendelism is related with

- (1) heredity in living beings
- (2) meiosis during sexual reproduction
- (3) mutation in living organisms
- (4) None of the above

138. निम्न में से कौनसा कथन मूत्रण प्रतिवर्त प्रक्रिया से सम्बन्धित नहीं है?

- (1) इसकी शुरुवात प्रसार ग्राही द्वारा होती है जो मूत्रवाहिका में होते है
- (2) मूत्रण केन्द्र से आने वाले परानुकंपी आवेग पर निर्भर करता है
- (3) यह मूत्राशय की मांसपेशियों के संकुचन का परिणाम होता है
- (4) मूत्र मार्ग पर उपस्थित आंतरिक अवरोधनी का शिथिलन प्रेरित होता है

139. नीचे दिये गये चार पिरैमिड (A, B, C तथा D) चार भिन्न प्रकार के पारितन्त्र पारिस्थितिकी पिरैमिड को प्रदर्शित करते है, इसमें से एक पारितन्त्र एवं पिरैमिड के प्रकार के अनुसार सही मिलान को पहचानिये :



(1)

पिरैमिड का प्रकार	पारितन्त्र
संख्या का पिरैमिड	वृक्ष पारितन्त्र

(2)

पिरैमिड का प्रकार	पारितन्त्र
जैव भार का पिरैमिड	घास स्थल पारितन्त्र

(3)

पिरैमिड का प्रकार	पारितन्त्र
ऊर्जा का पिरैमिड	घास स्थल पारितन्त्र

(4)

पिरैमिड का प्रकार	पारितन्त्र
जैव भार का पिरैमिड	समुद्री पारितन्त्र

140. मेंडलिज्म (मेंडलवाद) से संबंधित है:-

- (1) जीवित जीवों में आनुवांशिकता से
- (2) लैंगिक जनन के दौरान अर्द्धसूत्री विभाजन से
- (3) जीवित जीवों में उत्परिवर्तन से
- (4) उपरोक्त में से कोई नहीं

141. Find odd one w.r.t. differentiation

- (1) Loss of nucleus in sieve tube
- (2) Death of protoplasm in tracheary elements
- (3) Callus formation
- (4) Lignification in vessels

142. Given below are two statements :

Statement-I : At present about 27 recombinant therapeutics have been approved for human use the world over.

Statement-II : 30 documented varieties of Basmati rice are grow in India.

Choose the correct answer from the option given below.

- (1) Both statement I and statement II are incorrect
- (2) Statement I is correct but statement II is incorrect
- (3) Statement I is correct but Statement II is correct
- (4) Both Statement I and Statement II are correct

143. Algae have cell wall made up of

- (1) Cellulose, hemicellulose and pectins
- (2) Cellulose, galactans, mannans
- (3) Hemicellulose, pectins and proteins
- (4) Pectins, cellulose and lipid

144. Assertion : The primary function of sweat is to facilitate a cooling effect on the body surface.

Reason : Sweat produced by the sweat gland is a watery fluid containing NaCl, small amounts of urea and lactic acid.

- (1) Both (A) and (R) are true and (R) is the correct explanation of (A)
- (2) Both (A) and (R) are true but (R) is not the correct explanation of (A)
- (3) (A) is true statement but (R) is false.
- (4) Both (A) and (R) are false.

141. विभेदीकरण के संदर्भ में विषम ज्ञात कीजिए-

- (1) चालनी नलिकाओं में केंद्रक का नष्ट होना
- (2) वाहिनिका तत्वों में प्रोटोप्लाज्म का नष्ट होना
- (3) कैलस का निर्माण
- (4) वाहिकाओं में लिग्नीकरण

142. नीचे दो कथन दिए गए हैं :

कथन -1: वर्तमान समय में लगभग 27 पुनर्योगज चिकित्सीय औषधियाँ विश्व में मनुष्यों के प्रयोग हेतु स्वीकृत हो चुकी है।

कथन -II : बासमती धान की 30 पहचानी गई किस्में भारत में उगायी जाती है।

नीचे दिए विकल्पों में से सही उत्तर चुनें

- (1) दोनों कथन I और कथन II गलत है।
- (2) कथन I सही परन्तु कथन II गलत है।
- (3) कथन I गलत है परन्तु कथन II सही है।
- (4) दोनों कथन I और कथन II सही है।

143. शैवालों में कोशिका भित्ति निम्न की बनी होती है

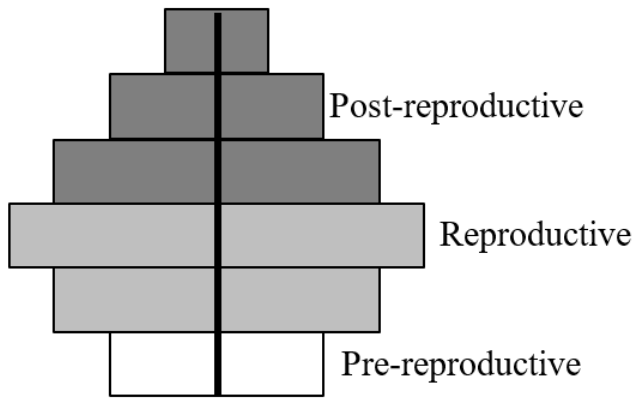
- (1) सेल्यूलोज, हेमीसेल्यूलोज तथा पेक्टिन
- (2) सेल्यूलोज, गैलेक्टोस, मेनेन्स
- (3) हेमीसेल्यूलोज, पेक्टिन तथा प्रोटीन्स
- (4) पेक्टिन, सेल्यूलोज तथा लिपिड

144. कथन : पसीने का मुख्य कार्य वाष्पीकरण द्वारा शरीर सतह को ठंडा रखना है

कारण : स्वेद ग्रंथि द्वारा निकलने वाला पसीना एक जलीय द्रव है, जिसमें NaCl, कुछ मात्रा में यूरिया व लैक्टिक अम्ल होते हैं।

- (1) (A) और (R) दोनों सत्य हैं और (R) (A) की सही व्याख्या है।
- (2) (A) और (R) दोनों सत्य हैं लेकिन (R) (A) की सही व्याख्या नहीं है।
- (3) (A) सत्य कथन है लेकिन (R) असत्य है।
- (4) (A) और (R) दोनों असत्य हैं।

145. What type of human population is represented by the following age pyramid



- (1) Vanishing population
- (2) Stable population
- (3) Declining population
- (4) Expanding population

146. The concept of genetic map was given by -

- (1) de Vries
- (2) Morgan
- (3) Sturtevant
- (4) Mendel

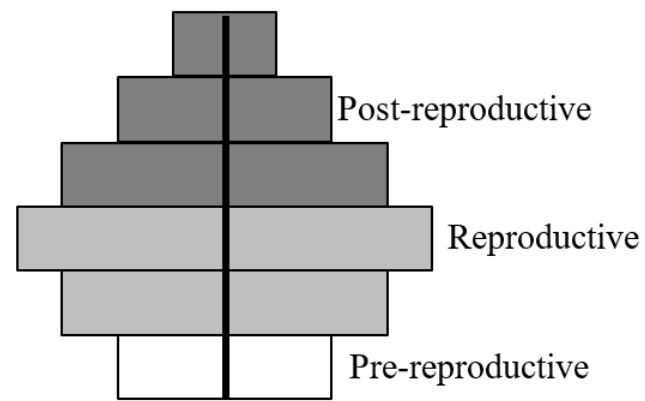
147. Given below are two statements; one is labelled as Assertion (A) and the other is labelled Reason (R).

Assertion (A) : In arithmetic growth, mitotic cell division occurs in which, only one daughter cell continues to divide, while other differentiate and matures.

Reason (R) : The simplest expression of arithmetic growth is exemplified by zygote elongating at a constant rate.

- (1) If both assertion and reason are true and reason is the correct explanation of assertion.
- (2) If both assertion and reason are true but reason is not the correct explanation of assertion.
- (3) If assertion is true but reason is false.
- (4) If both assertion and reason are false.

145. नीचे दिये जा रहे आयु पिरामिड में किस प्रकार की मानव समष्टि प्रदर्शित की गयी है-



- (1) गायब होती समष्टि
- (2) स्थिर समष्टि
- (3) घटती समष्टि
- (4) बढ़ती समष्टि

146. आनुवंशिक मानचित्र का सिद्धांत किसने दिया था?

- (1) डि ग्रीस
- (2) मॉर्गन
- (3) स्टुर्टेवेंट
- (4) मेंडल

147. नीचे दो कथन दिये गये हैं, एक अभिकथन (A) तथा दूसरा कारण (R) को चिह्नित करता है।

कथन (A) : अंकगणितीय वृद्धि में समसुत्री कोशिका विभाजन होता है। जिसमें, केवल एक पुत्री कोशिका विभाजित होती रहती है, जबकि अन्य विभेदित होती है एवं परिपक्व हो जाती है।

कारण (R) : अंकगणितीय वृद्धि की सबसे सरल अभिव्यक्ति एक नियत दर में वृद्धिरत युग्मनज से उदाहरणात् होती है।

- (1) यदि कथन एवं कारण दोनों सत्य हैं तथा कारण कथन का सही स्पष्टीकरण है।
- (2) यदि कथन एवं कारण दोनों सत्य हैं, लेकिन कारण, कथन का सही स्पष्टीकरण नहीं है।
- (3) यदि कथन सत्य है, लेकिन कारण असत्य है।
- (4) यदि कथन व कारण दोनों असत्य हैं।

148. Given below are two statements : one is labelled as Assertion (A) and the other is labelled as Reason (R)

Assertion (A) : Micro injection is direct method of gene transfer.

Reason (R) : Ti plasmid use to deliver genes of our interest in animal cells.

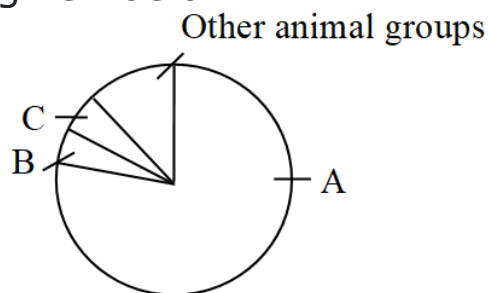
In the light of the above statements, choose the correct answer from the options given below :

- (1) Both (A) and (R) are correct but (R) is not the correct explanation of (A)
- (2) (A) is correct but (R) is not correct
- (3) (A) is not correct but (R) is correct
- (4) Both (A) and (R) are correct and (R) is the correct explanation of (A)

149. Naked seeds of gymnosperms mean

- (1) Fruits without parent tissues
- (2) Phanerogams without seed
- (3) Seeds not enclosed in ovary wall
- (4) All of these

150. A pie chart with proportionate number of species of major taxa of invertebrates is given below.



Select the option which correctly identifies the labels A, B and C.

- (1) A –Molluscs, B-Insects, C- Crustaceans
- (2) A –Insects, B-Molluscs, C- Crustaceans
- (3) A –Insects, B-Crustaceans, C- Molluscs
- (4) A –Crustaceans, B-Molluscs, C- Insects

151. In sickle cell anaemia the disorder is caused due to the change in chemical nature of:-

- (1) α chain of haemoglobin
- (2) β chain of haemoglobin
- (3) Both the chains
- (4) Neither of them

148. निम्नलिखित दो कथन दिए गए हैं, एक अभिकथन (A) से और दूसरा कारण (R) से लेवल है

अभिकथन (A) : माइक्रोइंजेक्शन जीन स्थानांतरित करने की प्रत्यक्ष विधि है।

कारण (R) : Ti प्लाज्मिड का उपयोग अपनी अभिरूचि की जीन का जन्तु कोशिका में स्थानान्तरित करने के लिए किया जाता है।

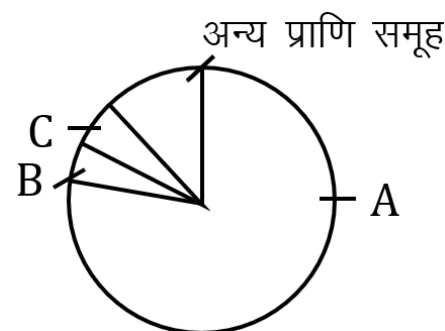
उपरोक्त कथनों के संदर्भ में सही चयन करें, नीचे दिए गए विकल्पों में सही उत्तर का चयन कीजिए-

- (1) दोनों (A) और (R) सही हैं लेकिन (R), (A) का सही व्याख्यान नहीं करता है।
- (2) (A) सही है परन्तु (R) सही है।
- (3) (A) सही नहीं है परन्तु (R) सही है।
- (4) दोनों (A) और (R) सही हैं और (R), (A) की सही व्याख्या करता है।

149. जिम्नोस्पर्म का नग्न बीज होता है:-

- (1) पैतृक ऊतकों रहित फल
- (2) बीज रहित फेनेरोगेम
- (3) बीज अंडाशय भित्ति में संलग्न नहीं होते हैं।
- (4) ये सभी

150. एक पाई चार्ट में अकशेरुकीयों के प्रमुख वर्गों की जातियों की संख्या का अनुपात नीचे दिया गया है।



निम्नलिखित में से चिह्नित A, B और C के लिए सही विकल्प ज्ञात कीजिए-

- (1) A – मोलस्कस, B – कीट, C – क्रस्टेशियंस
- (2) A – कीट, B – मोलस्कस, C – क्रस्टेशियंस
- (3) A – कीट, B – क्रस्टेशियंस, C – मोलस्कस
- (4) A – क्रस्टेशियंस, B – मोलस्कस, C – कीट

151. दात्र कोशिका अरक्तता में विकार रासायनिक प्रकृति में परिवर्तन के कारण होता है-

- (1) α श्रृंखला हीमोग्लोबिन की
- (2) β श्रृंखला हीमोग्लोबिन की
- (3) दोनों श्रृंखलाएं
- (4) इनमें से कोई नहीं

152. Assertion: Juvenile conifers are sprayed with GA

Reason: GA delays senescence and malting period

Which of the given options are correct?

- (1) Both assertion & reason are correct and reason is correct explanation of assertion
- (2) Both assertion & reason are correct but reason is not explanation of assertion
- (3) Assertion is correct but reason is wrong
- (4) Both assertion & reason are in correct

153. Assertion (A) : Aschelminthes represent pseudocoelomates.


Reason (R) : In aschelminthes, mesoderm is present as scattered pouches in between ectoderm and endoderm.

- (1) Both **(A)** and **(R)** are true and **(R)** is the correct explanation of **(A)**
- (2) Both **(A)** and **(R)** are true but **(R)** is not the correct explanation of **(A)**
- (3) **(A)** is true statement but **(R)** is false.
- (4) Both **(A)** and **(R)** are false.

154. Ladybird insects have proved very useful for the control of-

- (1) Glomus
- (2) Mosquito
- (3) Aphids
- (4) Carrot grass

155. In a pedigree analysis, the given symbol represnets :-



- (1) Affected individuals
- (2) Mating
- (3) Consanguineous mating
- (4) Unspecified sex

152. अभिकथन: तरूण शंकुधारी पर GA का छिड़काव किया जाता है।

कारण: GA जीर्णता और मॉल्टिंग अवधि को विलंबित करता है।

दिये गये विकल्पों में से कौनसा सही हैं?

- (1) दोनों अभिकथन और कारण सही हैं और कारण अभिकथन का सही स्पष्टीकरण है।
- (2) दोनों अभिकथन और कारण सही हैं लेकिन कारण अभिकथन का स्पष्टीकरण नहीं है।
- (3) अभिकथन सही है लेकिन कारण गलत है।
- (4) दोनों अभिकथन और कारण गलत हैं।

153. कथन (A) : एस्केहेल्मिन्थिज कुटगुहीका जंतुओं को दर्शाते हैं।


कारण (R) : एस्केहेल्मिन्थिज में, मीजोडर्म बिखरे हुए पाउच के रूप में एक्टोडर्म तथा एन्डोडर्म के बीच पाई जाती है।

- (1) दोनों **(A)** एवं **(R)** सही हैं तथा **(R)**, **(A)** की सही व्याख्या है।
- (2) दोनों **(A)** एवं **(R)** सही हैं लेकिन **(R)**, **(A)** की सही व्याख्या नहीं है।
- (3) **(A)** सही है लेकिन **(R)** गलत है।
- (4) **(A)** तथा **(R)** दोनों ही असत्य हैं।

154. किसके नियंत्रण के लिए लेडीबर्ड कीट बहुत उपयोगी सिद्ध हुआ-

- (1) ग्लोमस
- (2) मच्छर
- (3) एफिड
- (4) गाजर घास

155. वंशावली विश्लेषण में, दिया गया चिह्न निम्नलिखित को दर्शाता है-



- (1) प्रभावित व्यक्ति
- (2) मैथुन
- (3) निकट सम्बंधी मैथुन
- (4) अनिर्दिष्ट लिंग

- 156.** After culturing the anther of a plant, a few diploid plants were found along with haploid plants. The diploid plants could have arisen from:-
- (1) Generative cell of pollen
 - (2) Cells of anther wall
 - (3) Vegetative cells of pollen
 - (4) Exine of pollen wall
- 157. Statement-1:** Cephalochordata bears notochord all along the body throughout life.
- Statement-2 :** Urochordate bears vertebral column only in tail region throughout the life.
- Then which is correct?
- (1) Both statement-1 and statement-2 are correct
 - (2) Statement-1 is correct, statement-2 is wrong
 - (3) Statement-1 is wrong, statement-2 is correct
 - (4) Both statement-1 and statement-2 are wrong
- 158.** Thick cuticle, sunken and scotoactive stomata. CAM photosynthesis and conversion of leaves into spines are some of the important characters of:-
- (1) Desert plants
 - (2) Hydrophytes
 - (3) Xerophytes
 - (4) More than one options are correct
- 159.** The substance which causes a definite change in genes is called:-
- (1) Mutagen
 - (2) Toxin
 - (3) Cytotoxin
 - (4) Alkaloid
- 160.** Select wrong statement for cleistogamy of flower in plant:-
- (1) Cleistogamous flower lack requirement of pollinators
 - (2) It is a adaptation of autogamy
 - (3) It perform in Oxalis and Viola
 - (4) Their flowers are coloured contain aroma and nectar

- 156.** पौधे के परागकोश का संवर्धन करने के बाद, अगुणित पौधे के साथ कुछ द्विगुणित पौधे पाए गए। द्विगुणित पादप उत्पन्न हुए हैं-
- (1) पराग की जनन कोशिका से
 - (2) परागकोष भित्ति की कोशिकाओं से
 - (3) पराग की कायिक कोशिकाओं से
 - (4) पराग भित्ति की बाह्यचोल से
- 157. कथन.1:-** सिफैलोकॉर्डेटा में मेरूदण्ड सम्पूर्ण शरीर में जीवन भर पायी जाती है।
- कथन.2:-** यूरोकॉर्डेट में केवल पूँछ वाले भाग में कशेरूक दण्ड जीवन भर पाया जाता है।
- निम्न में से कौनसा कथन सही है?
- (1) कथन-1 व कथन-2 दोनों सही है
 - (2) कथन-1 सही है, कथन-2 गलत है
 - (3) कथन-1 गलत है, कथन-2 सही है
 - (4) कथन-1 व कथन-2 दोनों गलत हैं
- 158.** मोटी उपत्वचा, भीतर धंसे हुए और स्कोटोएक्टिव रंध्र, CAM प्रकाश संश्लेषण तथा पत्तियों का कांटों में रूपांतरण किसके महत्वपूर्ण लक्षण हैं-
- (1) मरुस्थलीय पौधों के
 - (2) जलोद्भिद पौधों के
 - (3) मरूद्भिद पौधों के
 - (4) एक से अधिक विकल्प सही हैं
- 159.** वह पदार्थ जो जीन में निश्चित परिवर्तन का कारण बनता है | उसे कहते हैं-
- (1) उत्परिवर्तजन
 - (2) टॉक्सिन
 - (3) साइटोटॉक्सिन
 - (4) एल्केलॉइड
- 160.** पौधे में पुष्प की अनुन्मील्यता के लिए गलत कथन का चयन करें
- (1) अनुन्मील्य-परागणी पुष्पों में परागणकर्ताओं की आवश्यकता नहीं होती है
 - (2) यह स्वपरागण का एक अनुकूलन है
 - (3) यह ऑक्जेलिस और वायोला में होता है
 - (4) उनके पुष्प रंगीन होते हैं, उनमें सुगंध और मकरंद होता है

161. Match list 'A' and list 'B' **correctly** and find your answer from the code given below :

List-A (Animal)	List-B (Common name)
(i) Physalia	(A) Brain coral
(ii) Pennatula	(B) Sea fan
(iii) Gorgonia	(C) Sea pen
(iv) Meandrina	(D) Portuguese man of war

- (1) (i)-A, (ii)-B, (iii)-C, (iv)-D
- (2) (i)-D, (ii)-C, (iii)-B, (iv)-A
- (3) (i)-C, (ii)-D, (iii)-B, (iv)-A
- (4) (i)-D, (ii)-C, (iii)-A, (iv)-B

162. The outer covering of fungi and plants is:-

- (1) Glycocalyx
- (2) Cell wall
- (3) Cell membrane
- (4) All

161. सूची 'A' एवं सूची 'B' का सही मिलान करके सही उत्तर का चयन नीचे दिये गये कूट से करें:-

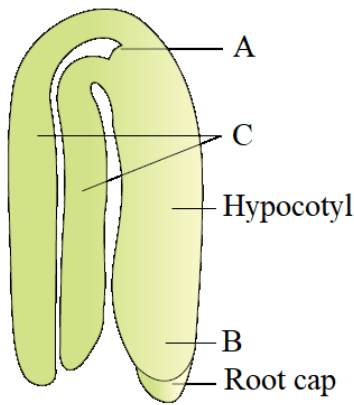
सूची -A (जन्तु)	सूची -B (सामान्य नाम)
(i) फाइसेलिया	(A) ब्रेन कोरल
(ii) पिनैटुला	(B) सी फैन
(iii) गोरगोनिया	(C) सी पेन
(iv) मिएनड्रिना	(D) पुर्तगाली युद्ध मानव

- (1) (i)-A, (ii)-B, (iii)-C, (iv)-D
- (2) (i)-D, (ii)-C, (iii)-B, (iv)-A
- (3) (i)-C, (ii)-D, (iii)-B, (iv)-A
- (4) (i)-D, (ii)-C, (iii)-A, (iv)-B

162. कवक एवं पौधों का बाहरी आवरण है-

- (1) ग्लायकोकेलेक्स
- (2) कोशिका भित्ति
- (3) कोशिका झिल्ली
- (4) सभी

163. Go through the given diagram of a typical dicot embryo. In which of the following all the 3 parts labelled as A, B and C with their characters are correctly identified –



(1)

A	B	C
Plumule, shoot system formation	Radicle, root system formation	Hypophysis, formation of radicle

(2)

A	B	C
Plumule, shoot system formation	Radicle, root system formation	Cotyledon, food storage

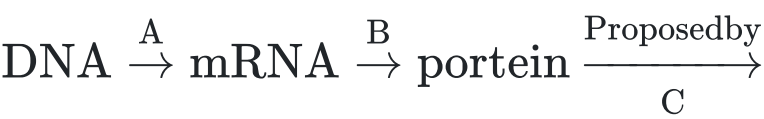
(3)

A	B	C
Radicle, root system formation	Plumule, shoot system formation	Cotyledon food storage

(4)

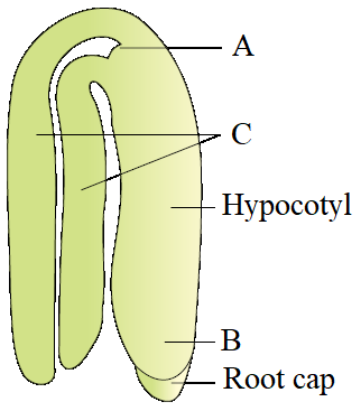
A	B	C
Radicle, root system formation	Plumule, shoot system formation	Endosperm, food storage

164. The diagram shows an important concept in the genetic implication of DNA. Fill in the blanks A to C.



- (1) A-Translation, B-Transcription, C-Ervin Chargaff
- (2) A- Transcription, B-Translation, C- Francis Crick
- (3) A-Translation, B-Extension, C- Rosalind Franklin
- (4) A-Translation, B-Replication, C-James Watson

163. एक सामान्य द्विबीजपत्री भ्रूण के दिए गए आरेख का अध्ययन करें। निम्नलिखित में से किसमें A, B और C के रूप में चिह्नित किए गए सभी 3 भागों की उनकी विशेषताओं के साथ सही पहचान की गई है -



(1)

A	B	C
प्रांकुर, प्ररोह तंत्र का निर्माण	मूलांकूर, मूल तंत्र का निर्माण	अधःस्फीतिका, मूलांकूर का निर्माण

(2)

A	B	C
प्रांकुर, प्ररोह तंत्र का निर्माण	मूलांकूर, मूल तंत्र का निर्माण	बीजपत्र, भोजन का संग्रहण

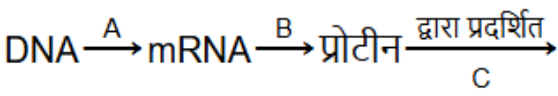
(3)

A	B	C
मूलांकूर, मूल तंत्र का निर्माण	प्रांकुर, प्ररोह तंत्र का निर्माण	बीजपत्र, भोजन का संग्रहण

(4)

A	B	C
मूलांकूर, मूल तंत्र का निर्माण	प्रांकुर, प्ररोह तंत्र का निर्माण	भ्रूणपोष, भोजन का संग्रहण

164. नीचे दिया गया चित्र में DNA के आनुवंशिक निहितार्थ में एक महत्वपूर्ण अवधारणा को दर्शाता है A से C तक रिक्त स्थानों की पूर्ति करें-



- (1) A-अनुवादन, B- अनुलेखन, C-इरविन चारगाफ
- (2) A- अनुलेखन, B-अनुवादन, C-फ्रान्सिस क्रिक
- (3) A- अनुवादन, B- विस्तारण, C-रोजेलिण्ड फ्रेंकलिन
- (4) A- अनुवादन, B-प्रतिकृतिकरण, C-जेम्स वाटसन

165. Match the column-I with Column-II

	Column-I		Column-II
(a)	Fasciola	(i)	First Eucoelomate
(b)	Nereis	(ii)	First triploblastic
(c)	Antedon	(iii)	First tissue grade animal
(d)	Adamsia	(iv)	First enterocoelomate

(1) a-(i), b-(ii), c-(iv), d-(iii)

(2) a-(ii), b-(i), c-(iv), d-(iii)

(3) a-(iii), b-(ii), c-(i), d-(iv)

(4) a-(iii), b-(i), c-(iv), d-(ii)

166. The model given by Singer and Nicolson in _____ was _____ for plasma membrane.

(1) 1982, fluid mosaic model

(2) 1992, bilayer model

(3) 1972, fluid mosaic model

(4) 1952, bilayer model

167. One gene is responsible for making:-

(1) One protein

(2) One polypeptide

(3) Many polypeptides

(4) All of these

168. How many of the following statements are incorrect:-

i) Acid insoluble fraction has only four types of organic compounds.

ii) All the compound in acid insoluble fraction have molecular weight in range of 10,000 Da and above.

iii) Molecular weight less than one thousand Dalton are usually referred to as Micromolecules.

iv) Biomacromolecules are simply known as Biomolecules.

(1) (i)

(2) (ii)

(3) (iii)

(4) (iv)

165. कॉलम-I से कॉलम-II का मिलान करें -

	कॉलम-I		कॉलम-II
(a)	फेसिओला	(i)	प्रथम सत्य गूहिक
(b)	नेरिस	(ii)	प्रथम त्रीकोरकी
(c)	एन्टीडोन	(iii)	प्रथम ऊतक श्रेणी के प्राणी
(d)	एडमासिया	(iv)	प्रथम एन्टेरोसीलोमेट

(1) a-(i), b-(ii), c-(iv), d-(iii)

(2) a-(ii), b-(i), c-(iv), d-(iii)

(3) a-(iii), b-(ii), c-(i), d-(iv)

(4) a-(iii), b-(i), c-(iv), d-(ii)

166. जीवद्रव्य कला के लिए सिंगर तथा निकोलसन द्वारा _____ में दिया गया मॉडल _____ था-

(1) 1982, तरल मोजेक मॉडल

(2) 1992, द्विपरत मॉडल

(3) 1972, तरल मोजेक मॉडल

(4) 1952, द्विपरत मॉडल

167. एक जीन निम्न के निर्माण के लिये उत्तरदायी है-

(1) एक प्रोटीन

(2) एक पोलिपेप्टाइड

(3) अनेक पोलिपेप्टाइड

(4) उपरोक्त सभी

168. निम्नलिखित में से कितने कथन गलत हैं

i) अघुलनशील अंश में केवल चार प्रकार के कार्बनिक यौगिक होते हैं।

ii) अम्ल अघुलनशील अंश के सभी यौगिकों का आणविक भार 10,000 Da और उससे अधिक होता है।

iii) एक हजार डाल्टन से कम आणविक भार वाले यौगिकों को सामान्यतया सूक्ष्मअणु कहा जाता है।

iv) जैववृहद्विअणु को सामान्यतः जैवअणु के रूप में जाना जाता है।

(1) (i)

(2) (ii)

(3) (iii)

(4) (iv)

169. Secondary cell wall is formed.

- (1) Outside the primary cell wall.
- (2) Inside the cell membrane
- (3) Inside the plasmodesmata.
- (4) Inside the primary cell wall.

170. Dystrophin was found to be-

- (1) Largest known human gene with 2.4 million bases
- (2) Smallest known human gene with 2.4 million bases
- (3) Largest known human gene with 4.8 million bases
- (4) Smallest known human gene with 4.8 million bases

171. Match the following column A and B-

	A		B
I	Tight junction	(a)	Connecting cytoplasm of cell
II	Adhering junction	(b)	Help to stop substance from leaking across a tissue
III	Gap junction	(c)	Provide mechanical support

- (1) I(c) II(b) III(a)
- (2) I(b) II(c) III(a)
- (3) I(a) II(c) III(b)
- (4) I(a) II(b) III(c)

172. Middle lamella is made up of :

- (1) Silica
- (2) Calcium carbonate
- (3) Pectate Ca & Mg
- (4) Calcium oxalate

173. The DNA coiled in prokaryotes are maintained by:-

- (1) Histone
- (2) Non-histone protein
- (3) Polyamines
- (4) Both (2) and (3)

169. द्वितीयक कोशिका भित्ति का निर्माण होता है।

- (1) प्राथमिक कोशिका भित्ति के बाहर
- (2) कोशिका झिल्ली के अंदर
- (3) प्लास्मोडेस्मेटा के अंदर
- (4) प्राथमिक कोशिका भित्ति के अंदर

170. डिस्ट्रोफिन में पाया गया था -

- (1) 2.4 करोड़ क्षार के साथ मनुष्य को ज्ञात सबसे बड़ी जीन
- (2) 2.4 करोड़ क्षार के साथ मनुष्य को ज्ञात सबसे छोटी जीन
- (3) 4.8 करोड़ क्षार के साथ मनुष्य को ज्ञात सबसे बड़ी जीन
- (4) 4.8 करोड़ क्षार के साथ मनुष्य को ज्ञात सबसे छोटी जीन

171. कॉलम A का मिलान कॉलम B से कीजिए-

	A		B
I	दृढ़ संधि	(a)	कोशिका के कोशिका द्रव्य को जोड़ती है
II	आसंजी संधि	(b)	पदार्थों को ऊतकों से बाहर जाने से रोकना
III	अन्तराली संधि	(c)	यांत्रिक सहारा प्रदान करना

- (1) I(c) II(b) III(a)
- (2) I(b) II(c) III(a)
- (3) I(a) II(c) III(b)
- (4) I(a) II(b) III(c)

172. मध्य पटलिका बनी होती है

- (1) सिलिका की
- (2) कैल्शियम कार्बोनेट की
- (3) पैक्टेट Ca व Mg की
- (4) कैल्शियम ऑक्जलेट की

173. प्रोकेरियोट्स में DNA कुण्डली को किसके द्वारा बनाये रखा जाता है-

- (1) हिस्टोन
- (2) नॉन हिस्टोन प्रोटीन
- (3) पॉलीऐमीन्स
- (4) (2) व (3) दोनों

174. Match the column and select the correct option.

Column-I (Structures of Cockroach)		Column-II (Location)	
(A)	Mushroom glands	(i)	4 th 6 th abdominal segment
(B)	testes	(ii)	10 th abdominal segment
(C)	spermatheca	(iii)	6 th abdominal segment
(D)	anal cerci	(iv)	6 th 7 th abdominal segment

- (1) a(iv), b(i), c(iii), d(ii)
 (2) a(iv), b(iii), c(i), d(ii)
 (3) a(ii), b(i), c(iii), d(iv)
 (4) a(ii), b(i), c(iv), d(iii)

175. The longest phase of cell cycle is:-

- (1) Prophase of M-phase
 (2) G₁
 (3) S
 (4) G₂

176. Select the **incorrect** statement with respect to acquired immunity-

- (1) Anamnestic response is elicited on subsequent encounters with the same pathogen.
 (2) Anamnestic response is due to memory of first encounter
 (3) Acquired immunity is non-specific type of defense present at the time of birth
 (4) Primary response is produced when our body encounters a pathogen for the first time

177. Mitotic division occur in –

- (1) Diploid somatic cell
 (2) Haploid male honey bee
 (3) (1) & (2)
 (4) Gametes

174. कॉलमों का मिलान कर सही विकल्प का चयन कीजिये

कॉलम-I (कॉकरोच की संरचना)		कॉलम-II (स्थान)	
(A)	छत्रक ग्रंथि	(i)	4 th 6 th उदरीय खण्ड
(B)	वृषण	(ii)	10 th उदरीय खण्ड
(C)	शुक्रग्राहिका	(iii)	6 th उदरीय खण्ड
(D)	गुदालूम	(iv)	6 th 7 th उदरीय खण्ड

- (1) a(iv), b(i), c(iii), d(ii)
 (2) a(iv), b(iii), c(i), d(ii)
 (3) a(ii), b(i), c(iii), d(iv)
 (4) a(ii), b(i), c(iv), d(iii)

175. कोशिका चक्र की सबसे लम्बी प्रावस्था है-

- (1) M-प्रावस्था की प्रोफेज
 (2) G₁
 (3) S
 (4) G₂

176. उपार्जित प्रतिरक्षा के विषय में **गलत** कथन का चयन करो-

- (1) उसी रोगजनक से दोबारा सामना होने पर बहुत ही उच्च तीव्रता की पूर्ववृत्तीय (एनामिस्टिक) अनुक्रिया होती है
 (2) पूर्ववृत्तीय (एनामिस्टिक) अनुक्रिया प्रथम मुठभेड़ की स्मृति के कारण होती है
 (3) उपार्जित प्रतिरक्षा जन्म के समय उपस्थित अविशिष्ट प्रकार की रक्षा है
 (4) जब हमारे शरीर का पहली बार किसी रोगजनक से सामना होता है तब प्राथमिक अनुक्रिया उत्पन्न होती है।

177. समसूत्री विभाजन निम्नलिखित में से किसमें होता है-

- (1) द्विगुणित कायिक कोशिका
 (2) अगुणित नर मधुमक्खी
 (3) (1) और (2)
 (4) युग्मक

178. Match List – I with List – II.

	List-I		List-II
(a)	Filariasis	(i)	<i>Haemophilus influenzae</i>
(b)	Amoebiasis	(ii)	Trichophyton
(c)	Pneumonia	(iii)	<i>Wuchereria Bancrofti</i>
(d)	Ringworm	(iv)	<i>Entamoeba Histolytica</i>

Choose the **correct** answer from the questions given below.

- (1) (a)→(ii), (b)→(iii), (c)→(i), (d)→(iv)
 (2) (a)→(iv), (b)→(i), (c)→(iii), (d)→(ii)
 (3) (a)→(iii), (b)→(iv), (c)→(i), (d)→(ii)
 (4) (a)→(i), (b)→(ii), (c)→(iv), (d)→(iii)

179. Karyokinesis of mitosis is divided into _____ stages

- (1) 2
 (2) 3
 (3) 4
 (4) 8

180. Read the following statements carefully.

- (i) Cancer causing viruses have genes called viral oncogenes.
 (ii) Malignant tumors remain confined to their original location.
 (iii) Cancer cells do not exhibit contact inhibition.
 (iv) Cancer detection is based on biopsy and histopathological studies.
 Which of the above statements are **correct** regarding cancer?

- (1) (iii) and (iv)
 (2) (ii) and (iv)
 (3) (i), (iii) and (iv)
 (4) (ii) and (iii)

178. सूची- I का सूची - II के साथ मिलान करो :-

	सूची-I		सूची-II
(a)	फाइलेरिएसिस	(i)	हीमोफिल्स इन्फ्लुएन्जा
(b)	अमीबायसिस	(ii)	ट्राइकोफाइटॉन
(c)	न्यूमोनिया	(iii)	वुचेरेरिया बैंक्रोफ्टाई
(d)	रिंगवर्म	(iv)	एंटांमीबा हिस्टोलिटिका

निम्न विकल्पों से उचित उत्तर का चयन करो।

- (1) (a)→(ii), (b)→(iii), (c)→(i), (d)→(iv)
 (2) (a)→(iv), (b)→(i), (c)→(ii), (d)→(ii)
 (3) (a)→(iii), (b)→(iv), (c)→(i), (d)→(ii)
 (4) (a)→(i), (b)→(ii), (c)→(iv), (d)→(iii)

179. समसूत्री विभाजन में कोशिका का केन्द्रक विभाजन _____ अवस्थाओं में पूर्ण होता है।

- (1) 2
 (2) 3
 (3) 4
 (4) 8

180. निम्नलिखित कथनों को ध्यानपूर्वक पढ़िए-

- (i) कैंसर उत्पन्न करने वाले विषाणुओं में विषाणुवीय अर्बुदजीन (वायरल ओंकोजीन) नामक जीन होते हैं।
 (ii) दुर्दम अर्बुद अपने मूल स्थान तक ही सीमित रहते हैं।
 (iii) कैंसर कोशिकाएं संस्पर्श संदमन प्रदर्शित नहीं करती हैं।
 (iv) कैंसर अभिज्ञान ऊतकों की जीवतिपरीक्षा (बायोप्सी) और ऊतक विकृति (हिस्टोपैथोलॉजिकल) अध्ययनों पर आधारित हैं।

उपरोक्त में से कौन से कथन कैंसर के संबंध में **सही** हैं?

- (1) (iii) तथा (iv)
 (2) (ii) तथा (iv)
 (3) (i), (iii) तथा (iv)
 (4) (ii) तथा (iii)

Physics - Section A

1. Answer: A

Sol:

$$\Delta U = \Delta Q = \Delta W$$

$$\text{Now } \Delta W = P \Delta V = 50 [4 - 10] = -300 \text{ J}$$

$$\Delta Q = 100 \text{ J} \quad \Delta Q = 100 \text{ J}$$

$$\text{So } \Delta U = 400 \text{ J increased}$$

2. Answer: B

Sol:

There are seven fundamental quantities :

Mass, Length, Time, Temperature, Electric current, Luminous intensity, Amount of substance.

Electric charge is not include in these quantities

3. Answer: B

Sol:

$$F_e = \frac{1}{4\pi\epsilon_0} \cdot \frac{q_1 q_2}{r^2}$$

For F_e to be minimum, q_1 and q_2 should be minimum, we know that

$$(q_1)_{\min} = (q_2)_{\min} = e = 1.6 \times 10^{-19} \text{ C}$$

$$\text{Hence, } (F_e)_{\min} = \frac{(9 \times 10^9) (1.6 \times 10^{-19}) (1.6 \times 10^{-19})}{(1.0)^2}$$

$$= 2.304 \times 10^{-28} \text{ N}$$

4. Answer: B**Sol:**

Given

$$x = 2 + 4t$$

$$y = 3t + 8t^2$$

$$v_x = \frac{dx}{dt} = 4 \text{ (constant)}$$

$$v_y = \frac{dy}{dt} = 3 + 16t$$

$$a_x = 0$$

$$a_y = +16$$

 $a_{\text{net}} = +16$ i.e. uniformly accelerated
Also, from given equation $t = \frac{x-2}{4}$

$$\therefore y = 3\left(\frac{x-2}{4}\right) + 8\left(\frac{x-2}{4}\right)^2$$

$$= \frac{3}{4}x - \frac{3}{2} + \frac{1}{2}(x^2 + 4 - 4x)$$

$$y = \frac{3}{4}x - \frac{3}{2} + \frac{x^2}{2} + 2 - 2x$$

$$\Rightarrow 4y = 3x - 6 + 2x^2 + 8 - 8x$$

$$\Rightarrow \boxed{4y = 2x^2 - 5x + 2}$$

i.e. parabolic path.

5. Answer: D**Sol:**

Given :

Kinetic energy of proton, $E = 2 \text{ MeV} = 2 \times 10^6 \text{ eV} = 3.2 \times 10^{-13} \text{ J}$ Magnetic field, $B = 2.5 \text{ T}$

Kinetic energy is given by :

$$K = \frac{1}{2}mv^2$$

m is the mass of proton, $m = 1.67 \times 10^{-27} \text{ kg}$

$$v^2 = \frac{2 \times 3.2 \times 10^{-13}}{1.67 \times 10^{-27}}$$

$$v^2 = 3.83 \times 10^{14}$$

$$v = 1.95 \times 10^7 \text{ m/s}$$

Force on the proton is given by:

$$F = qvB \sin \theta$$

Here, $\theta = 90^\circ$

$$F = qvB$$

$$= 1.6 \times 10^{-19} \times 10^7 \times 2.5$$

$$F = 7.8 \times 10^{-12} \text{ N} \approx 8 \times 10^{-12} \text{ N}$$

6. Answer: C**Sol:**

By Hooke's law

$$Y = \frac{Fl}{A\Delta l}$$

$$\Delta l \propto \frac{Fl}{A}$$

$$\frac{\Delta l_2}{\Delta l_1} = \frac{F_2 l_2}{F_1 l_1} \times \frac{A_1}{A_2}$$

$$= \frac{2f \times 2L}{f \times L} \times \frac{\pi(r)^2}{\pi(2r)^2}$$

$$\Delta l_1 = \Delta l_2$$

$$\Delta l_2 = l$$

Therefore, the correct answer is (3).

7. Answer: C**Sol:**

By the Newton's law of cooling

$$\frac{dT}{dt} = k \left(\frac{T_1 + T_2}{2} - T_o \right)$$

∴ For case -I

$$\frac{3T - 2T}{10} = k \left[\frac{3T + 2T}{2} - T \right]$$

$$\frac{T}{10} = k \left[\frac{3T}{2} \right]$$

$$\text{or } k = \frac{1}{15}$$

According to question in next 10 min it cools from 2T to a unknown temperature T' then

$$\frac{2T - T'}{10} = k \left[\frac{2T + T'}{2} - T \right]$$

$$\frac{2T - T'}{10} = \frac{1}{15} \times \frac{T'}{2}$$

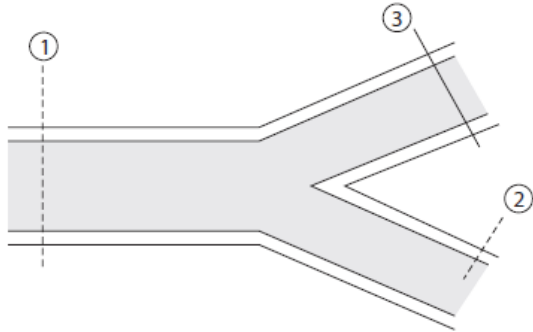
$$6T - 3T' = T'$$

$$\text{or } T' = \frac{3}{2}T$$

8. Answer: A**Sol:**

Consider any three sections (1), (2) and (3) in the three pipes of different radii, as shown the figure. If v_1 and v_2 be the velocity of water at section (1) and (2) respectively, then :-

$$A_1 = \pi (10)^2 \text{ cm}^2 ; A_2 = \pi (5)^2 \text{ cm}^2 ; A_3 = \pi (3)^2 \text{ cm}^2$$



$$v_1 = v_2 = ? \text{ and } v_3 = 5 \text{ cm/s}$$

The rate of discharge the three pipes are

$$A_1 v_1 = 100 \pi v_1 \text{ cm}^3/\text{s} ; A_2 v_2 = 25 \pi v_2 \text{ cm}^3/\text{s}$$

$$\text{and } A_3 v_3 = 9\pi \times 5 = 45 \pi \text{ cm}^3/\text{s}$$

$$\text{Now, } Q = A_1 v_1 = A_2 v_2 + A_3 v_3$$

$$\Rightarrow 600 \pi = 100 \pi v_1 = 25 \pi v_2 + 45 \pi$$

$$\text{Solving, we get, } v_1 = 6 \text{ cm/s and } v_2 = 22.2 \text{ cm/s}$$

Therefore, the correct answer is (A).

9. Answer: A**Sol:**

One farad is defined as the capacitance C of a capacitor across which, when charged with Q coulomb, when there is potential difference of 1 volt. So,

$$[C] = \left[\frac{Q}{V} \right] = \left[\frac{Q^2}{W} \right] = \left[\frac{A^2 T^2}{M^1 L^2 T^{-2}} \right]$$

$$[C] = [M^{-1} L^{-2} T^4 A^2]$$

10. Answer: C**Sol:**

$$\text{Orbital speed near the earth's surface is } v_0 = \sqrt{\frac{GM}{R}}$$

Conserving energy,

$$\frac{1}{2} m v_0^2 - \frac{GMm}{R} = -\frac{GMm}{R+h}$$

$$\text{or } \frac{1}{2} \frac{GM}{R} - \frac{GM}{R} = -\frac{GM}{R+h} = -\frac{GM}{2R}$$

$$\Rightarrow h = R$$

11. Answer: C**Sol:**

The horizontal range of the projectile is

$$R = \frac{u^2 \sin 2\theta}{g}$$

$$\{ \text{Here } u_1 = 40 \text{ m/s}, \theta_1 = 30^\circ, \\ u_2 = 60 \text{ m/s}, \theta_2 = 60^\circ \}$$

$$\frac{R_1}{R_2} = \left(\frac{u_1}{u_2} \right)^2 \frac{\sin 2\theta_1}{\sin 2\theta_2}$$

$$\frac{R_1}{R_2} = \left(\frac{40}{60} \right)^2 \frac{\sin 60^\circ}{\sin 120^\circ}$$

$$\Rightarrow \frac{R_1}{R_2} = \frac{4}{9}$$

12. Answer: A**Sol:**

Given :

Changing rate of radius = 10^{-2} unitMagnetic field = 10^{-3} unitInduced emf $e = 1\mu\text{V}$

The induced emf is given by

$$e = -\frac{d\phi}{dt} = -\frac{BdA}{dt} = -B(2\pi r) \frac{dr}{dt}$$

$$r = \frac{e}{B(2\pi) \left(\frac{dr}{dt} \right)}$$

$$\frac{1 \times 10^{-6}}{10^{-3} \times 2 \times 3.14 \times 10^{-2}}$$

$$r = 1.6 \text{ cm}$$

13. Answer: D**Sol:**

$$\frac{t}{10} = \frac{6^2 - 2^2}{2^2 - 0^2} \Rightarrow t = 80 \text{ h}$$

14. Answer: C**Sol:**

$$X = 3YZ^2$$

$$[Y] = \frac{[X]}{[Z]^2} = \frac{[M^{-1}L^{-2}T^4A^2]}{[MT^{-2}A]^2}$$

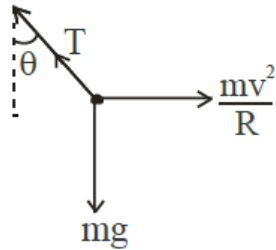
$$= [M^{-3}L^{-2}T^8A^4]$$

15. Answer: A**Sol:**

Near the earth's surface, $v_0 = \sqrt{\frac{GM}{R}} = \frac{2\pi R}{T}$

$$\therefore T^2 = \frac{4\pi^2 R^3}{GM} = \frac{4\pi^2 R^3}{G \cdot \frac{4}{3}\pi R^3 \rho} = \frac{3\pi}{G\rho}$$

or $\rho T^2 = \frac{3\pi}{G} = \text{Universal constant.}$

16. Answer: C**Sol:**

$$T \cos \theta = mg$$

$$T \sin \theta = \frac{mv^2}{R}$$

$$\tan \theta = \frac{v^2}{Rg}$$

$$\Rightarrow \tan \theta = \frac{20^2}{40 \times 10}$$

$$\Rightarrow \tan \theta = 1$$

$$\Rightarrow \theta = \frac{\pi}{4}$$

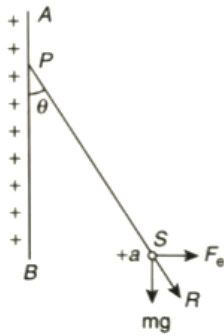
17. Answer: A**Sol:**

By theory

18. Answer: B**Sol:**

The electric field due to infinite plane sheet of charge

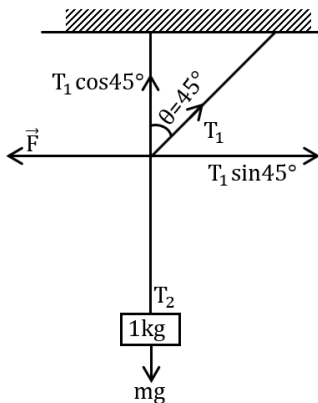
$$E = \frac{\sigma}{2\epsilon_0}$$



The force on sphere S due to electrostatic repulsion is

$$\text{Hence, from figure } F_e = QE = \frac{\sigma Q}{2\epsilon_0}$$

$$\tan\theta = \frac{QE}{mg} = \frac{\sigma E}{2\epsilon_0 mg} \text{ or } \theta = \tan^{-1}\left(\frac{\sigma Q}{2\epsilon_0 mg}\right)$$

19. Answer: A**Sol:**

From figure

AS system is in equilibrium, therefore

$$T_1 \cos 45^\circ = mg$$

$$T_1 \sin 45^\circ = F$$

$$\therefore \tan 45^\circ = \frac{F}{mg}$$

$$\Rightarrow F = mg$$

$$F = 10 \text{ N}$$

20. Answer: A**Sol:**

$$\omega = \frac{P_1 V_1 - P_2 V_2}{\gamma - 1} = \frac{nRT_1 - nRT_2}{\gamma - 1}$$

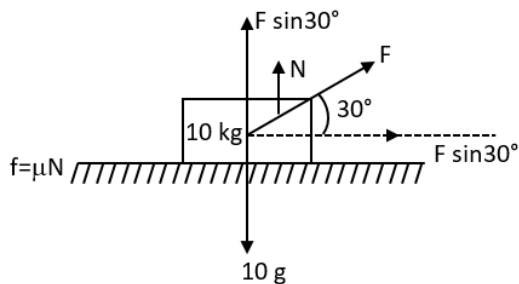
$$= \frac{nRT_1}{\gamma - 1} \left[1 - \left(\frac{V_1}{V_2} \right)^{\gamma - 1} \right]$$

21. Answer: C**Sol:**

In a given scientific notation of a number, all non zero numbers are significant.
Hence in 11.118×10^{-6} significant digits are 5.

22. Answer: C**Sol:**

$$\begin{aligned} \text{KE} &= \text{work done} = q\Delta V \\ &= e[1V] = 1eV \end{aligned}$$

23. Answer: C**Sol:**

$$\text{Given, } m = 10 \text{ kg} \quad \mu_s = 0.25$$

$$\theta = 30^\circ, \quad g = 10 \text{ m/s}^2$$

$$F \cos 30^\circ = f \dots\dots\dots (1)$$

$$F \sin 30^\circ + N = mg$$

$$N = mg - F \sin 30^\circ \dots\dots\dots (2)$$

By equation (1)

$$F \cos 30^\circ = \mu_s (mg - F \sin 30^\circ)$$

$$F (\cos 30^\circ + \mu_s \sin 30^\circ) = \mu_s mg$$

$$F = \frac{0.25 \times 10 \times 10}{\frac{\sqrt{3}}{2} \times 0.25 \times \frac{1}{2}}$$

$$F = \frac{50}{1.98} \Rightarrow 25.2 \text{ N}$$

24. Answer: B**Sol:**

Given-

$$L = 2 \text{ m}, \quad r = 1 \text{ cm} = 10^{-2} \text{ m}$$

$$\text{twist} = \theta = 0.8 \text{ rad.}$$

$$\begin{aligned} \text{angle of shear } \phi &= \frac{r\theta}{L} = \frac{10^{-2} \times 0.8}{2} \\ &= 0.4 \times 10^{-2} \end{aligned}$$

$$\text{shear strains} = 0.004 \text{ rad.}$$

25. Answer: C**Sol:**

$$\text{Mean time: } t_m = \frac{30+32+35+31}{4} = 32$$

By rounding off : $\Delta t = \pm 2 \text{ s}$

$$\therefore t + \Delta t = 32 \pm 2 \text{ s}$$

26. Answer: A**Sol:**The resistance of wire of length ℓ cross-sectional area A and resistivity ρ is given by

$$R = \rho \frac{\ell}{A}$$

If d is the density and m is the mass of wire, then area of wire

$$A = \frac{m}{\ell d}$$

$$\text{therefore, } R = \frac{\rho \ell}{\frac{m}{\ell d}} = \frac{\rho d}{m} \ell^2$$

Since $\frac{\rho d}{m} = \text{constant}$

$$\frac{\Delta R}{R} \times 100 = 2 \left(\frac{\Delta \ell}{\ell} \times 100 \right)$$

$$\text{Now } \frac{\Delta \ell}{\ell} \times 100 = 0.1\%$$

$$\begin{aligned} \frac{\Delta R}{R} \times 100 &= 2(0.1)\% \\ &= 0.2\% \end{aligned}$$

27. Answer: D**Sol:**

$$R \propto A^{1/3}$$

$$\frac{R_2}{R_1} = \left(\frac{A_2}{A_1} \right)^{1/3} = \left(\frac{162}{6} \right)^{1/3} = \left(27 \right)^{1/3} = 3$$

$$R_2 = 3R_1 = 3 \times 3 \times 10^{-15} \text{ m} = 9 \times 10^{-15} \text{ m}$$

28. Answer: C**Sol:**The correct option is $C \frac{8}{7} \text{ kg}$ Specific heat of copper $S_{\text{cu}} = 400 \text{ J kg}^{-1} \text{ }^{\circ}\text{C}^{-1}$ Latent heat of fusion $L_f = 3.5 \times 10^5 \text{ J kg}^{-1}$ Mass of copper block $M_{\text{cu}} = 2 \text{ kg}$

Heat released by cu block = Heat gained by ice to melt.

$$M_{\text{cu}} S_{\text{cu}} \Delta \theta = M L_f$$

$$\Rightarrow 2 \times 400 \times 500 = M \times 3.5 \times 10^5$$

$$\Rightarrow M = \frac{2 \times 400 \times 500}{3.5 \times 10^5}$$

$$= \frac{8}{7} \text{ kg}$$

29. Answer: D**Sol:**

Least count of vernier calipers

$$LC = 1 \text{ MSD} - 1 \text{ VSD}$$

$$= \frac{\text{Smallest division on main scale}}{\text{Number of divisions on vernier scale}}$$

20 divisions of vernier scale = 16 divisions of main scale

$$\therefore 1 \text{ VSD} = \frac{16}{20} \text{ mm} = 0.8 \text{ mm}$$

$$\therefore LC = 1 \text{ MSD} - 1 \text{ VSD}$$

$$= 1 \text{ mm} - 0.8 \text{ mm} = 0.2 \text{ mm}$$

30. Answer: D**Sol:**The maximum current allowed in bulb, $i = \frac{P}{V} = \frac{100}{220} = \frac{5}{11} \text{ A}$

$$\text{Resistance of the bulb } R = \frac{V}{i} = \frac{220}{5} = 484 \Omega$$

When the bulb is connected across voltage V' (=110 V) then power consumed,

$$P' = \frac{(V')^2}{R}$$

$$= \frac{(110)^2}{484} = 25 \text{ W}$$

31. Answer: A**Sol:**

$$\therefore \lambda \propto \frac{1}{\sqrt{m}} \Rightarrow \lambda_e \propto \frac{1}{\sqrt{m_e}}, \lambda_p \propto \frac{1}{\sqrt{m_p}}$$

$$\therefore \frac{\lambda_e}{\lambda_p} = \sqrt{\frac{m_p}{m_e}}$$

32. Answer: A**Sol:**

→Convex mirror form virtual and diminished image

→Concave mirror may form real and virtual image and may be diminished and inlarge.

33. Answer: B**Sol:**

From work energy theorem

$$W = \Delta KE$$

$$\text{and we know that } P = \frac{dW}{dt}$$

therefore

$$W = \int_{t_1}^{t_2} P dt = \int_2^4 (3t^2 - 2t + 1) dt = 46 \text{ J}$$

34. Answer: B**Sol:**

By theory

35. Answer: C**Sol:**

$$B_p(x_1 y) = 0$$

$$\frac{\mu_0 I}{2\pi y} = \frac{\mu_0 (3I)}{2\pi x}$$

$$x = 3y$$

36. Answer: B**Sol:**

$$v_p = -v \times \text{slope}$$

$$a = -\omega^2 y$$

37. Answer: C**Sol:**

$$F = \sqrt{x_1 x_2} = \sqrt{9 \times 25} = \sqrt{225}$$

$$F = 15 \text{ cm}$$

38. Answer: A**Sol:**

$$\lambda = \frac{hc}{E} = \frac{12400}{1.14} \text{ \AA} = 10877 \text{ \AA}$$

39. Answer: B**Sol:**Consider the two coherent sources are I_1 and I_2

$$I_{\max} = (\sqrt{I_1} + \sqrt{I_2})^2$$

$$100 = (\sqrt{I} + \sqrt{I})^2 = (2\sqrt{I})^2 = 4I$$

Therefore;

$$I = 25 \text{ units} \quad \dots(1)$$

$$I_1 = I \text{ and } I_2 \propto (A_2)^2$$

$$\text{And } A_2 = A - \frac{20}{100}A = \left(\frac{4A}{5}\right)$$

Therefore;

$$I_2 \propto (A_2)^2 \propto \left(\frac{4A}{5}\right)^2$$

$$I_2 \propto \frac{16}{25}A^2$$

$$I_2 = \frac{16}{25}I$$

$$I'_{\max} = \left(\sqrt{I} + \sqrt{\frac{16}{25}I}\right)^2 = \left(\sqrt{I} + \frac{4}{5}\sqrt{I}\right)^2 = I\left(\frac{9}{5}\right)^2$$

$$= \frac{81}{25}I = \frac{81}{25} \times 25 = 81$$

So, option (B) is correct.

40. Answer: D**Sol:**

$$\frac{(F_0)_1}{(F_0)_2} = \frac{1}{2} = \frac{\frac{V_1}{2L_1}}{\frac{V_2}{2L_2}} = \frac{V_1}{V_2} \frac{L_2}{L_1} = \frac{V_1}{V_2} \frac{4}{1}$$

$$\frac{V_1}{V_2} = \frac{1}{8} = \frac{\sqrt{\frac{T}{\mu_1}}}{\sqrt{T/\mu_2}}$$

$$\frac{\mu_2}{\mu_1} = \frac{1}{64} = \frac{\rho A_2}{\rho A_1} = \frac{1}{64}$$

$$\frac{A_1}{A_2} = \frac{\pi r_1^2}{\pi r_2^2} = 64$$

$$\frac{r_1}{r_2} = 8$$

41. Answer: A**Sol:**

Using formula of Electric field

$$\begin{aligned}
 E &= \frac{V}{d} \\
 &= \frac{0.5}{5 \times 10^{-7}} \\
 &= 1 \times 10^6 \text{ V/m}
 \end{aligned}$$

42. Answer: C**Sol:**

We have,

$$\begin{aligned}
 S_2 D &= \sqrt{S_1 D^2 + S_1 S_2^2} \\
 &= \sqrt{4^2 + 3^2} \\
 &= 5 \text{ m} \\
 \Delta x &= S_2 D - S_1 D = 5 - 4 = 1 \text{ m} \\
 \Delta \Phi &= \frac{2\pi}{\lambda} \Delta x \\
 &= \frac{2\pi}{4} \left(1 \right) = \frac{\pi}{2}
 \end{aligned}$$

$$\begin{aligned}
 \text{Now, } I &= I_1 + I_2 + 2\sqrt{I_1 I_2} \cos \phi \\
 I &= I_0 + I_0 + 2\sqrt{I_0 I_0} \cos \frac{\pi}{2} = 2I_0
 \end{aligned}$$

43. Answer: B**Sol:**

$$\begin{aligned}
 \text{For } 3^{\text{rd}} \text{ minima } \sin \theta \approx \theta \approx \tan \theta &= \frac{y_3}{D} = \frac{3\lambda}{a} \\
 &= \frac{y_3}{D} = \frac{3\lambda}{a}
 \end{aligned}$$

$$\text{Similarly, } y_1 = \frac{\lambda D}{a}$$

$$\text{Now, according to qn. } y_3 - y_1 = 3 \text{ mm}$$

$$\Rightarrow \frac{2\lambda D}{a} = 3 \text{ mm}$$

$$\Rightarrow a = \frac{2 \times 6000 \times 10^{-10} \times 50 \times 10^{-2}}{3 \times 10^{-3}}$$

$$= 20 \times 10^{-5} \text{ m} = 2 \times 10^{-4} \text{ m}$$

44. Answer: C**Sol:**

Capacitance of capacitor

$$C_0 = \frac{\epsilon_0 A}{d} \dots (i)$$

If a slab of thickness t is introduced between the plates with new separation d then its new capacitance

$$C' = \frac{\epsilon_0}{d' - t + \frac{t}{k}} \dots (ii)$$

As $q = CV$, charge on the capacitor is same in both cases, therefore to mention same p.d., the capacitance C and C' must be same, i.e., from (i) and (ii)

$$\frac{\epsilon_0 A}{d} = \frac{\epsilon_0 A}{d' - t + \frac{t}{k}}$$

$$\Rightarrow d = d' - t + \frac{t}{k}$$

$$\text{Here, } d' = d + 2.4 \text{ mm} = d + 2.4 \times 10^{-3} \text{ m}$$

$$t = 3 \text{ mm} = 3 \times 10^{-3} \text{ m}$$

$$\therefore d = d + 2.4 \times 10^{-3} - 3 \times 10^{-3} + \frac{3 \times 10^{-3}}{k}$$

$$\Rightarrow -3 + \frac{3}{k} = -2.4$$

$$\Rightarrow k = 5$$

45. Answer: B**Sol:**

$$R = 0.25 \text{ m} = \frac{1}{4}$$

$$m = 2 \text{ kg}$$

$$KE = \frac{1}{2} I^2$$

$$4 \times 2 \times 10 \times \frac{1}{16} = v^2$$

$$v^2 = 8$$

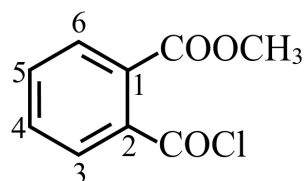
$$v = 2\sqrt{2} \text{ m/s}$$

$$I = \frac{mR^2}{2} = \frac{2}{2} \times \frac{1}{16} = \frac{1}{16}$$

Chemistry - Section A

46. Answer: C

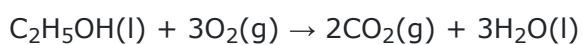
Sol:



(C) Methyl 2-chlorocarbonylbenzoate

47. Answer: A

Sol:



$$\Delta U = -1500 \text{ kJ mol}^{-1}$$

$$\Delta H = ?$$

$$T = 298 \text{ K}$$

$$\Delta n_g = -1$$

$$R = 8.314 \text{ J mol}^{-1}$$

$$\Delta H = \Delta U + \Delta n_g RT$$

$$= -1500 + (-1) \times 8.314 \times 10^{-3} \times 298$$

$$= -1500 - 2.47 = -1502.47 \text{ kJ mol}^{-1}$$

48. Answer: C

Sol:

we know that ; $N_1V_1 = N_2V_2$

$N = M \times n$. ;for H_2SO_4 $n=2$

$$N_1 = 0.10 \times 2 ; N_2 = 0.05 \times 2$$

$$V_1 = 50\text{ml} ; V_2 = x$$

$$N_1V_1 = N_2V_2$$

$$0.1 \times 2 \times 50 = 0.05 \times 2 \times x$$

$$x = \frac{0.2 \times 50}{0.1}$$

$$x = 100\text{ml}$$

49. Answer: D**Sol:**

Noble gases –

(i) colourless

(ii) odourless

(iii) tasteless and non inflammable

Noble gases are colorless, odorless, tasteless, and nonflammable gases under standard conditions. In the periodic table, the noble gases are arranged according to their boiling point. Noble gases are widely used in different fields, from incandescent lighting to excimer lasers.

50. Answer: A**Sol:**(A) 16 g of $\text{CH}_4(\text{g})$ Molarmass of $\text{CH}_4 = 12 + 4 \times 1 = 16 \text{ g mol}^{-1}$ Moles of $\text{CH}_4 = \frac{16}{16} = 1 \text{ mole}$ 1 mole of CH_4 contains 6.022×10^{23} atoms 6.022×10^{23} atoms have 6.022×10^{24} electrons or 60.22×10^{23} electrons(B) 1 g of $\text{H}_2(\text{g})$ At STP 1 g H_2 i. e., $\frac{1}{2}$ mole H_2

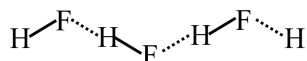
at STP 1 mole = 22.4 L

 $\frac{1}{2}$ mole = 11.2 L(C) 1 mole of $\text{N}_2(\text{g})$ 1 mole of $\text{N}_2 = 1 \times 28 = 28 \text{ g}$ (D) 0.5 mole of $\text{SO}_2(\text{g})$ 0.5 mole $\text{SO}_2 = \frac{1}{2} \times 64 = 32 \text{ g}$

Hence, the correct order is A-II, B-IV, C-I, D-III.

51. Answer: C**Sol:**

For symmetry



The arrangement of bp and lp around F is tetrahedral. Therefore, angle should appear around F and not around H atom.

52. Answer: A**Sol:**

As per de-Broglie

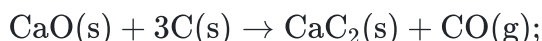
$$\lambda = \frac{h}{p}$$

hence $\lambda \propto \frac{1}{p}$ (hyperbola curve)

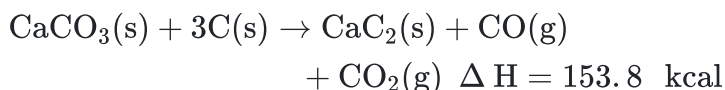
$$\lambda \uparrow, P \downarrow$$

53. Answer: C**Sol:**

$$\Delta H^\circ = 42.8 \text{ kcal}$$



$$\Delta H^\circ = 111 \text{ kcal}$$

Thus heat required to prepare 1 mole of CaC_2 from $\text{CaCO}_3 = 153.8 \text{ kcal}$ Molecular weight of $\text{CaC}_2 = 40 + 24 = 64$ 64 g of CaC_2 requires 153.8 kcal of heat.128 g of CaC_2 requires 307.6 kcal of heat.**54. Answer: D****Sol:**

The solution which obey Raoult's law over the entire range of concentration are known as ideal solutions.

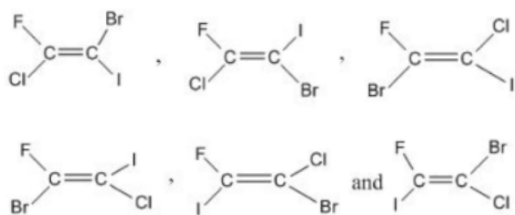
$$\text{Thus, } \Delta P = P_{\text{observed}} - P_{\text{Raoult}} = 0.$$

Since for an ideal solution since the solute-solute and solvent-solvent intermolecular attraction forces are equal to the solute-solvent intermolecular attractive forces, the enthalpy of mixing ($\Delta_{\text{mix}}H$) of the pure components to form the solution is zero and the volume of mixing ($\Delta_{\text{mix}}V$) is also zero.

However, for an ideal solution, entropy mixing ($\Delta_{\text{mix}}S$) is not zero. it positive because a solvent (or solute) in a solution has more molecular disorder.

55. Answer: C**Sol:**

There are six geome

trical isomers possible for $\text{C}_2(\text{Cl})(\text{Br})(\text{I})(\text{F})$

56. Answer: C**Sol:**

$$\text{Bond energy} \propto \frac{1}{\text{stability of radical}}$$

a = resonance + 1°

b = resonance + 2°

c = 1° – carbon

d = 2° – carbon

57. Answer: A**Sol:**

(Reaction)	(Type of redox reaction)
(A) $\text{N}_{2(g)} + \text{O}_{2(g)} \rightarrow 2\text{NO}_{(g)}$	(IV) Combination
(B) $2\text{Pb}(\text{NO}_3)_{2(s)} \rightarrow 2\text{PbO}_{(s)} + 4\text{NO}_{2(g)} + \text{O}_{2(g)}$	(I) Decomposition
(C) $2\text{Na}_{(s)} + 2\text{H}_2\text{O}_{(l)} \rightarrow 2\text{NaOH}_{(aq.)} + \text{H}_{2(g)}$	(II) Displacement
(D) $2\text{NO}_{2(g)} + 2^-\text{OH}(\text{aq.}) \rightarrow \text{NO}_{2(aq.)}^- + \text{NO}_{3(aq.)}^- + \text{H}_2\text{O}_{(l)}$	(III) Disproportionation

(A) In this reaction N_2 combine with O_2 gives 2mole of NO gas(B) when we heated $\text{Pb}(\text{NO}_3)_2$ decompose and give oxygen gas and NO_2 and PbO(C) In this reaction Na displaced H^+ ion

(D) Disproportionation reaction is a reaction in which, the same element is simultaneously oxidized and reduced

here NO_2 oxidized as well as reduced**58. Answer: A****Sol:**

$$\text{sec}^{-1}, \text{M sec}^{-1}$$

59. Answer: A**Sol:** $\text{Al}_2(\text{SO}_4)_3$ gives maximum osmotic pressure because it gives 5 ion.**60. Answer: A****Sol:**(1) $\text{MCl} > \text{MCl}_2 > \text{MCl}_3$ along the period ionic nature of metals decrease(2) Polarisability of halide ions increases in the order $\text{F}^- -$. Polarisability is directly proportional to the size of the anion.(3) $\text{Na}^+ 2+ 3+$. Higher is the charge density, higher is the polarizing power. Charge density is the ratio of charge to size.

(4) Covalent character = LiF

Covalent character increases with anion size increase.

61. Answer: D**Sol:** $nA \rightarrow \text{product}$

$$\text{rate} = K[A]^n = k[A]^0 = K$$

When $n = 0$, then the rate is equal to K and it is only possible when n is zero.

So, the units of rate and rate constant are identical in zero order reactions.

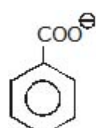
62. Answer: C**Sol:**

$$\text{pH} = \frac{1}{2}\text{pK}_a - \frac{1}{2}\log C$$

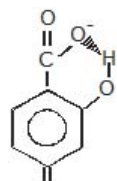
$$\Rightarrow 5 = \frac{1}{2}\text{pK}_a + \frac{1}{2} \times 2$$

$$\text{pK}_a = 8 \Rightarrow \text{pK}_b = 8;$$

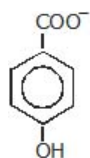
$$\text{pOH} = \frac{1}{2}\text{pK}_b - \frac{1}{2}\log C = 4 + 2 = 6$$

63. Answer: B**Sol:**

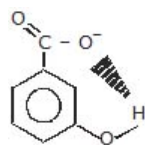
No -H bonding



Intermolecular H- bonding stabilized conjugate base (or Anion)

Less stable conjugate base \Rightarrow No-intramolecular H-bonding \Rightarrow least

stable



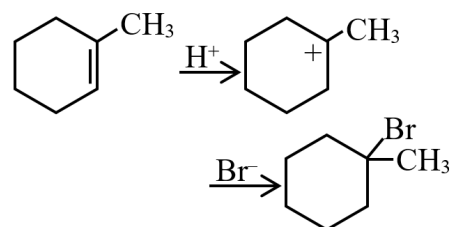
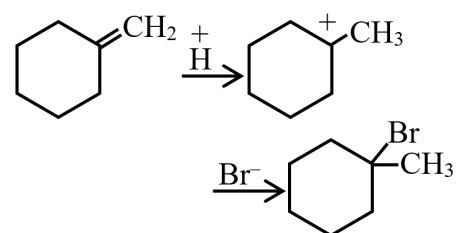
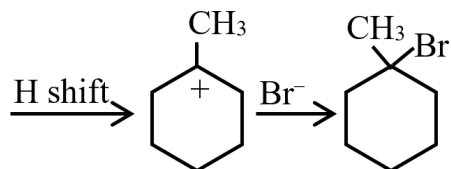
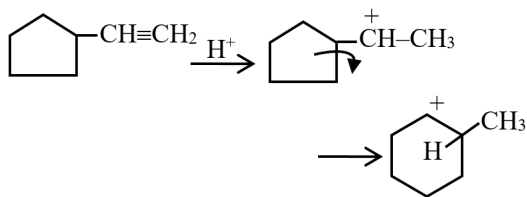
At meta position slight intramolecular H-bonding stabilized

conjugate base.

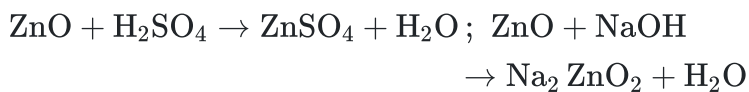
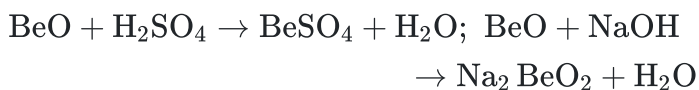
\therefore Acidic strength order : $b > d > a > c$

64. Answer: A**Sol:**

Electronegativity, Metallic character do not have any unit

65. Answer: D**Sol:****66. Answer: D****Sol:**

Metal oxide which reacts with both acid as well as bases to produce salts and water is known as amphoteric oxide.



Chromium (III) oxide (Cr_2O_3) is amphoteric. Although is soluble in water, it dissolves in acid to produce hydrated chromium ions, $[\text{Cr}(\text{H}_2\text{O})_6]^{3+}$ which react with a base to give salt of $[\text{Cr}(\text{OH})_6]^{3-}$.

67. Answer: B**Sol:**

$$[\text{OH}^-] = \frac{0.04 \times 3 - 0.02 \times 2}{5} = 0.016$$

$$\text{pOH} = -\log (16 \times 10^{-3}) = 1.8$$

$$\text{pH} = 12 - 1.8 = 10.2$$

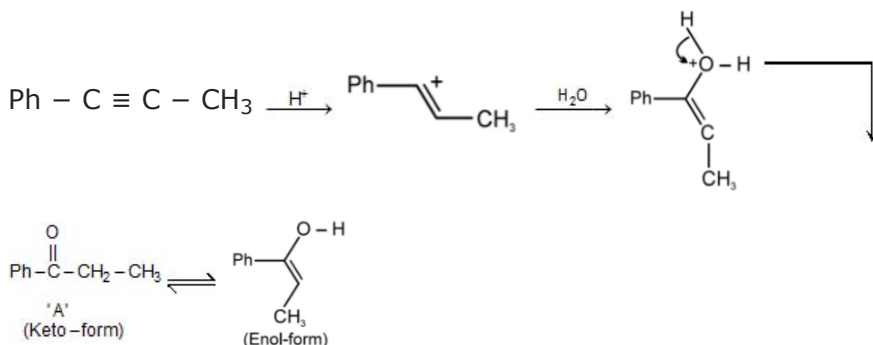
68. Answer: D

Sol:

Phenolphthalein is a weak acid.

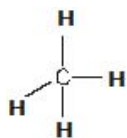
69. Answer: A

Sol:



70. Answer: A

Sol:



71. Answer: A

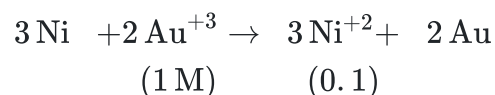
Sol:

Water molecule has hydrogen bonding so molecules get dissociated so it is liquid.

72. Answer: B

Sol:

$$E_{\text{cell}}^{\circ} = 0.25 + 0.25 = 0.50$$



$$E_{\text{cell}} = 0.50 - \frac{0.0591}{6} \log \frac{(0.1)^3}{(1)^2}$$

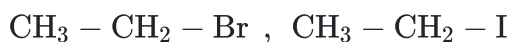
$$E_{\text{cell}} = 0.50 + \frac{0.0591 \times 3}{6} = 0.529 \text{V}$$

73. Answer: C

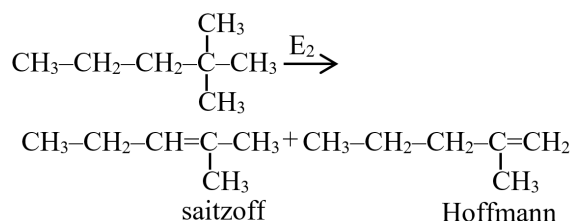
Sol:

In the given question, the nature of leaving group is the factor responsible for the reactivity of compounds towards S_N2 reaction.

Out of all the alkyl halides,



—The CH₃ - CH₂ - I will be the more reactive as the electronegativity of iodine is less among all the halogen elements as it is considered as the good leaving group
 —which facilitates the occurrence of S_N2 reaction at a good rate.

74. Answer: C**Sol:****75. Answer: A****Sol:**

$$\lambda_{\text{AgCl}}^{\infty} = \lambda_{\text{AgNO}_3}^{\infty} + \lambda_{\text{NaCl}}^{\infty} - \lambda_{\text{NaNO}_3}^{\infty}$$

$$= (116.5 + 110.3 + 105.2)$$

$$\text{mho cm}^2 \text{ mol}^{-1}$$

$$= 121.6 \text{ cm}^2 \text{ mol}^{-1}$$

76. Answer: B**Sol:**

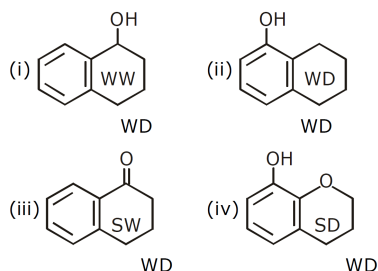
The Force of attraction between the molecular affects the melting point of a compound.

Stronger intermolecular interaction results in higher melting points.

Ionic compounds usually have high melting points because electrostatic forces holding the ion are much stronger.

CsCl has ionic bond thus it has highest M.P.

He gas held together by weak vander Waal bond and NH_3 and CHCl_3 have covalent bond.

77. Answer: A**Sol:**

SD = strong donating

WW = weak withdrawing

WD = weak donating

 $\therefore \text{iv} > \text{ii} > \text{i} > \text{iii}$

Br_2 reacts with AlCl_3 to form an electrophile Br^\oplus .

\therefore Aluminum have vacant d-orbitals are present so, it can easily accommodate the lone pairs of Bromine atom and form $\text{AlCl}_3\text{Br}^\ominus$ complex

Now, Br^\oplus will attack more fastly. at that carbon atom and at that compound where electron density is more

78. Answer: C**Sol:**

$$K_C = \frac{10^{29}}{(5 \times 10^{52})^2}$$

$$K_C = \frac{10^{29}}{25 \times 10^{104}}$$

$$= 0.04 \times 10^{-75}$$

$$= 4 \times 10^{-77}$$

79. Answer: A**Sol:**

$$O_2^+ (15e^-) = K : K^* (\sigma 2s)^2 (\sigma^* 2s)^2 (\sigma 2p_x)^2$$

$$(\pi 2p_y)^2 (\pi 2p_z)^2 (\pi^* 2p_y)^1 (\pi^* 2p_z)^0$$

$$\text{Hence, bond order} = \frac{1}{2}(10 - 5) = 2.5$$

$$N_2^+ (13e^-)$$

$$= K K^* (\sigma 2s)^2 (\sigma^* 2s)^2 (\sigma 2p_x)^2 (\pi 2p_y)^2 (\pi 2p_z)^1$$

$$\text{Hence, bond order} = \frac{1}{2}(9 - 4) = 2.5.$$

80. Answer: B**Sol:**

In the pair are should react of the other should not react.

(a) Only aldehyde react with fehlings

(b) $\text{Ph}-\overset{\text{O}}{\underset{\parallel}{\text{C}}}-\text{CH}_3$ does not react with NaHSO_3

(c) $\text{CH}_3-\underset{\text{OH}}{\underset{|}{\text{CH}}}-\text{CH}_3$ shows iodoform, but other will not

(d) Acid reacts with NaHCO_3 but phenol does not

81. Answer: D**Sol:**

Complex: $[\text{Fe}(\text{CN})_6]^{4-}$

Let the oxidation state of Fe = x

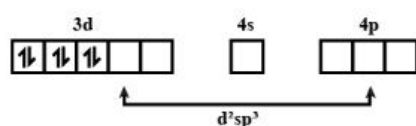
$$x + 6(-1) = -4$$

$$x = +2$$

The electronic configuration of Fe = $[\text{Ar}] 3d^6 4s^2$

The electronic configuration of $\text{Fe}^{2+} = [\text{Ar}] 3d^6 4s^0$

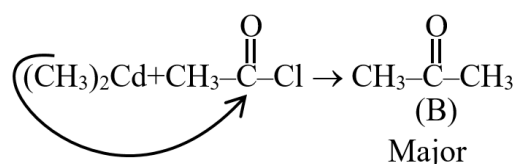
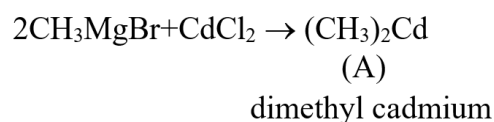
CN^- is a strong field ligand. So, due to the presence of strong-field ligands, the pairing of 3d-electrons takes place.



Hyridization : d^2sp^3

Magnetic character : Diamagnetic

Spin : Low spin complex

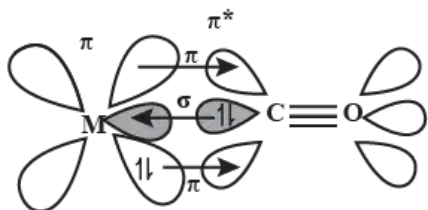
82. Answer: C**Sol:**

NCERT :- R_2Cd reacts only with $\text{R}-\overset{\text{O}}{\underset{\parallel}{\text{C}}}-\text{Cl}$ to give respective ketones

83. Answer: D

Sol:

Metal carbonyl shows synergic bonding interactions in a carbonyl complex



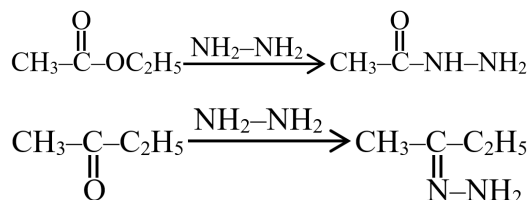
Synergic bonding in metal carbonyls

The (M – C) π bond is formed by the donation of a pair of electrons from a filled d orbital of metal into the vacant antibonding π^* orbital of carbon monoxide.

CO is a good π acceptor (Lewis acid) due to empty π orbitals and a good σ donor (Lewis acid).

84. Answer: C

Sol:



85. Answer: D

Sol:

All statement in given question are correct.

86. Answer: D

Sol:

Simple distillation is a procedure by which two liquids with different boiling points can be separated. Simple distillation (the procedure outlined below) can be used effectively to separate liquids that have at least 20°C difference in their boiling points.

Thus, a mixture of propan-1-ol and propanone can be separated by simple distillation.

Hence, both Assertion and Reason are correct and Reason is the correct explanation for Assertion.

87. Answer: A

Sol:

Ion is formed by gaining or losing electrons. To form cation electron are lost from the valency shell, so Zn atoms to Zn^{++} ions there is a decrease in the no. of valency electron.

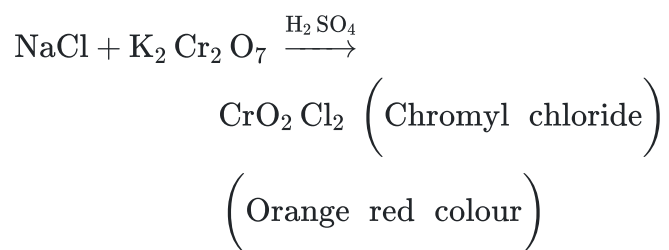
88. Answer: B

Sol:

— Sulphides of NH_4^+ IA & IIA are soluble

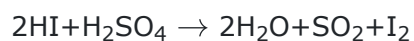
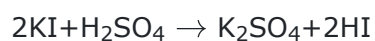
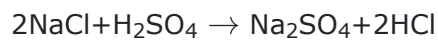
89. Answer: B

Sol:



90. Answer: C

Sol:



Biology - Section A

91. Answer: B

Sol:

Watermelon, cucumber, and pumpkin have modified auxiliary buds that form thin, wiry, leafless and spirally coiled branches and it helps the weak plant to climb the support known as stem tendrils.

92. Answer: A

Sol:

- scapula (shoulder blade) is a triangular flat bone of the pectoral girdle located on the dorsal part of the thorax.
- Cranium is made up of flat bones that fuse end-to-end with the help of dense fibrous connective tissues. These joints in the cranium do not allow any movement and are called fibrous joints.
- Sternum, also called as breast bone is a flat bone on the ventral midline of the thorax.
- The joints between the adjacent vertebrae in the vertebral column are an example of cartilaginous joints as these are joined with the help of cartilage.

93. Answer: D

Sol:

Photophosphorylation is the synthesis of ATP from ADP and inorganic phosphate in the presence of light. Like in respiration, in photosynthesis too, ATP synthesis is linked to development of a proton gradient across a membrane. Chemiosmosis involves the pumping of protons through special channels in the membranes of mitochondria from the inner to the outer compartment. The pumping establishes a proton (H^+) gradient. After the gradient is established, protons diffuse down the gradient through a transport protein called ATP synthase.

This time these are the membranes of thylakoid. The proton accumulation is towards the inside of the membrane, i.e., in the lumen. The causes that develop proton gradient across the membrane are as follows-

(a) Since splitting of the water molecule takes place on the inner side of the membrane, the protons or hydrogen ions that are produced by the splitting of water accumulate within the lumen of the thylakoids.

(b) As electrons move through the photosystems, protons are transported across the membrane.

(c) The NADP reductase enzyme is located on the stroma side of the membrane. Along with electrons that come from the acceptor of electrons of PS I, protons are necessary for the reduction of $NADP^+$ to $NADPH + H^+$. These protons are also removed from the stroma.

94. Answer: D

Sol:

Each **restriction endonuclease** recognises a specific **palindromic nucleotide sequences** in the DNA. It will **bind to the DNA** and cut each of the **two strands of double helix** at **specific points**. **Restriction enzymes** cut the strand of **DNA** a little away from the centre of the **palindrome site**; but between the **same two bases on the opposite strands**.

95. Answer: A**Sol:**

12th NCERT, Page No.- 33

96. Answer: A**Sol:**

Adaptation is a quality of the organism (morphological, physiological, behavioral) that enables it to survive and reproduce in its habitat. Adaptations allow organisms to live in different types of habits. They develop due to natural selection of suitable variations appearing in living beings through mutations and recombination.

97. Answer: D**Sol:**

A taxon is a group of any one rank of organisms. It is a collection of more than one population of the organisms or organisms seen by the taxonomists for forming a unit.

Hence, the correct answer is **a group of any one rank of organisms.**

98. Answer: C**Sol:**NCERT 11th Page No.270, 270**99. Answer: A****Sol:**

A is deoxygenated blood leaving the tissues

11th OLD NCERT, PAGE NO.- 286

100. Answer: B**Sol:**

Class 11th NCERT Page No. 65 The fruit

101. Answer: D**Sol:**

Oligodendrocytes are neuroglial cells that produce myelin sheath around axons in CNS.

Schwann cells are neuroglial cells that produce myelin sheath around axons in PNS.

Astrocytes forms blood brain barrier along with blood capillaries present in the brain. This barrier prevents the entry of neurotoxins from blood into tissues of brain.

Osteoclast is a large multinucleated cell responsible for the dissolution and absorption of bone.

102. Answer: A**Sol:**

Joseph Priestley (1733-1804) in 1770 performed a series of experiments that revealed the essential role of air in the growth of green plants. Joseph Priestley (1770) observed that a candle burning in a closed space - a bell jar, soon gets extinguished. Similarly, a mouse kept in a closed space would soon get suffocated and die. However, when he placed a mint plant in the same bell jar, he found that the mouse stayed alive and the candle continued to burn. Priestly hypothesized that foul air or phlogiston produced during burning of candles or animal (mice) respiration could be converted into pure air by plants (mint).

103. Answer: C**Sol:**

Genetic engineering, also called recombinant DNA technology, involves the group of techniques used to cut up and join together genetic material, especially DNA from different biological species.

A plasmid or vector is a small, extrachromosomal DNA molecule within a cell that is physical. Artificial plasmids are widely used as vectors in molecular cloning.

Gel electrophoresis is used to separate macromolecules like DNA, RNA and proteins. DNA fragments are separated according to their size. Proteins can be separated according to their size and their charge (different proteins have different charges).

DNA ligases are enzymes that catalyze the joining together of two DNA ends, in a manner that requires either adenosine triphosphate (ATP) or NAD^+ .

104. Answer: D**Sol:**

12th NCERT, Page No.- 31,35,38

105. Answer: A**Sol:**

Organisms, populations, communities and biomes

12th NCERT PAGE NO.- 191

106. Answer: B**Sol:**

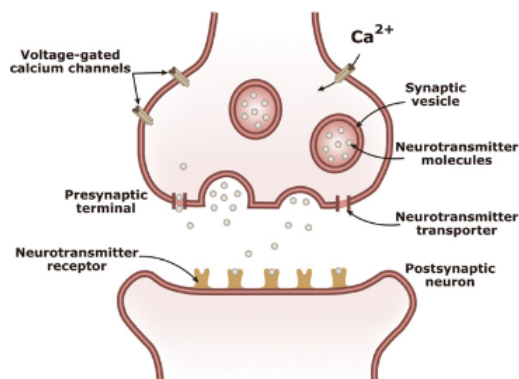
Metabolism

11th NCERT, PAGE NO.- 5

107. Answer: D**Sol:**

Cruciferae

Class 11th NCERT Page No. 67

108. Answer: C**Sol:**

Pre-synaptic membrane- it involves the release of neurotransmitters in chemical synapse.

Post synaptic membrane- Contain receptor sites for neurotransmitters.

109. Answer: A**Sol:**

The oxygen-evolving complex (OEC), also known as the water-splitting complex, is a water-oxidizing enzyme involved in the photo-oxidation of water during the light reactions of photosynthesis. The splitting of water is associated with the PS II: water is split into H^+ , $[\text{O}]$ and electrons. This creates oxygen, one of the net products of photosynthesis. The electrons needed to replace those removed from photosystem I are provided by photosystem II. $\text{H}_2\text{O} \longrightarrow 4\text{H}^+ + \text{O}_2 + 4\text{e}^-$

The NADP reductase enzyme is located on the stroma side of the membrane (Outer surface of thylakoid membrane). Along with electrons that come from the acceptor of electrons of PS I, protons are necessary for the reduction of NADP^+ to $\text{NADPH} + \text{H}^+$.

For biosynthesis of chlorophyll, raw materials required are succinyl Co-A and glycine.

The primary electron acceptor of PSII is pheophytin, an organic molecule that resembles chlorophyll

110. Answer: D**Sol:**

Class 12th NCERT Page No. 165

111. Answer: A**Sol:**

12th NCERT, Page No.- 27

112. Answer: B**Sol:**

Most important factor is temperature which directly affects the organisms by affecting their enzymes hence also affects the geographical distribution.

113. Answer: B**Sol:**

Archaeobacteria is called Living Fossils because they are the simplest and oldest living species available on the earth.

114. Answer: C**Sol:**

Statement I is incorrect but statement II is correct

11th OLD NCERT, PAGE NO.- 283

115. Answer: B**Sol:**

11th Old NCERT PAGE NO. 84

Incorrect Statement: Tissues in plants are classified into meristematic tissues (responsible for growth) and permanent tissues (which do not divide). Permanent tissues are further classified into simple (made of one type of cell) and complex (made of more than one type of cell).

Correct statements:

A plant is indeed made up of different kinds of tissues, such as meristematic and permanent tissues.

Different organs in a plant (e.g., roots, stems, leaves) show differences in their internal structure.

Monocots and dicots within angiosperms are anatomically different (e.g., vascular bundle arrangement, root structure).

116. Answer: A**Sol:**

Class 11th New NCERT Page No. 236

117. Answer: C**Sol:**

During aerobic respiration, O_2 is consumed and CO_2 is released. The ratio of the volume of CO_2 evolved to the volume of O_2 consumed in respiration is called the respiratory quotient (RQ). The respiratory quotient depends upon the type of respiratory substrate used during respiration. When carbohydrates are used as substrate and are completely oxidised, the RQ will be 1, because equal amounts of CO_2 and O_2 are evolved and consumed, respectively.

Though pure fats or proteins cannot be directly used as substrates, they can enter as intermediary substrates of glycolysis and the Krebs' Cycle. Proteins and fats have to undergo a series of chemical reactions to form simple compound and then only they can enter Krebs Cycle. After forming simple compounds only then they can enter the cycle and help to produce energy which takes a lot of time. Due to these reasons pure proteins and fats are not used as respiratory substrates.

118. Answer: D**Sol:**

Class 12th NCERT Page No. 169

119. Answer: B

Sol:

12th NCERT, Page No.- 44

120. Answer: B

Sol:

Control of *Opuntia* by a predator (moth), a type of insect

121. Answer: C

Sol:

Among the following:

1) *Paramecium* resembles the shape of shoe and its habitat is freshwater. It is a unicellular organism. It belongs to the Protista kingdom and the genus is ciliated protozoa.

2) *Plasmodium* is the causative organism for malaria. It belongs to the sporozoan subclass of the genus of parasitic protozoans.

3) *Amoeba* belongs to the Amoebozoa.

4) *Trypanosoma* is the causative organism responsible for sleeping sickness. It is a flagellated protozoan.

Hence, the correct option is "3" - A - iii, B - iv, C - i, D - ii.

122. Answer: D

Sol:

For safe transfusion, recipient's RBC **should not contain antibodies** against donor's antigens.

Reptiles and amphibia have **incomplete double circulation**.

Eosinophils (2-3 per cent) resist infections and are also associated with **allergic reactions**.

The **hepatic portal system** is the venous system that returns blood from the digestive tract and spleen to the liver.

123. Answer: C

Sol:

11th Old NCERT PAGE NO. 85

124. Answer: B**Sol:**

The antidiuretic hormone released by the pituitary gland stimulates reabsorption of water by the kidneys. The deficiency of this hormone causes increased urine production, a condition called diabetes insipidus.

Graves disease is an immune system disorder that results in the overproduction of thyroid hormones.

Addison's disease is caused by a deficiency of the hormones secreted by the adrenal cortex.

Pancreas is a composite gland which acts as both exocrine and endocrine gland. The deficiency of insulin, a hormone secreted by the pancreas, causes a complex disorder called diabetes mellitus which is associated with loss of glucose through urine and formation of harmful compounds known as ketone bodies.

125. Answer: D**Sol:**

Human mitochondrial ATP synthase has two functional domains:

- 1) One domain situated in a mitochondrial matrix known as F_1
- 2) F_0 is located in the inner mitochondrial membrane.

Hence, the correct answer is option "4" - Peripheral membrane protein with ATP synthetase activity.

126. Answer: A**Sol:**

Adenosine deaminase enzymes are crucial for the **immune system to function**, and their absence is caused by the **deletion of a gene**. It is cured by **gene therapy**.

Insulin consists of **chains A and B** that are **linked** together by **disulfide bridges**.

Transgenic mice are being used to test the safety of the **polio vaccine**.

RNAi involves the **silencing of a specific mRNA** due to a **complementary dsRNA** molecule that binds to and prevents **translation** of the mRNA.

127. Answer: C**Sol:**

12th NCERT, Page No.- 119

128. Answer: C**Sol:**

Flow of energy declines as it passes from lower to higher trophic level. The energy decreases from one trophic level to the next trophic level because energy is lost as metabolic heat during transfer of energy. Hence, the pyramid of energy is always upright in any ecosystem and it cannot be inverted in a stable ecosystem. When food energy passes from producers to herbivores to carnivores, only 10% of energy is transferred from one trophic level to another trophic level.

129. Answer: A**Sol:**

Cell of diatoms are surrounded by cell wall, frustules, which has silica deposits. Shells of diatoms are highly resistant to decomposition due to presence of silica and are deposited in ocean beds leading to formation of diatomaceous earth. Extraction, grinding, sieving and sinteration of diatomaceous earth obtain keiselguhr which is used in filtration techniques.

Diatoms are placed in class Bacillariophyceae which makes Myxophyceae includes slime molds which are characterized by presence of different morphology at different life stages and absence of cell wall. Pheophyceae includes brown algae which are characterized by presence of alginic acid with cellulose in cell wall and obtains algin, it is used as emulsifying agent and a stabilizer. Rhodophyceae includes red algae which have calcium carbonate in cell wall, it makes the cell permeable to small molecules but impermeable to macromolecules. Red algae secrete calcium carbonate shells which are accumulated in sea bottom and forms red corals. "Diatomite" (Kieselguhr) is obtained from.

130. Answer: A**Sol:**

In mechanism of concentration of the filtrate, the proximity between the Henle's loop and vasa recta, as well as the counter current in them help in maintaining an increasing osmolarity towards the inner medullary interstitium, i.e., from 300 mOsmL⁻¹ in the cortex to about 1200 mOsmL⁻¹ in the inner medulla.

131. Answer: B**Sol:**

Endodermis is the innermost layer of dicot stem of cortex and consists of barrel shaped parenchyma cells containing abundant starch grains-known as starch sheath.

132. Answer: B**Sol:**

Diabetes mellitus leads to a complex disorder called prolonged hyperglycemia, which is associated with the loss of glucose through urine known as **glycosuria**.

When the cell are unable to utilize carbohydrates for energy instead they use fats & proteins. This fat degradation produces ketone bodies. The presence of these ketone bodies in urine is known as **ketonuria**.

Thus, presence of **Ketonuria and Glycosuria** in urine are indicative of Diabetes Mellitus.

133. Answer: B**Sol:**

264 g of CO₂ and 108 g of water are formed from **180 g sugar and 192 g oxygen** during **respiration**. In this process, **686 kcal of energy** are released.

Hence, the correct answer is **option (B): 264 g of CO₂, 108 g of water, and 686 cal of energy**.

134. Answer: A**Sol:**

Bacillus thuringiensis is biopesticide, commonly known as Bt, is a naturally occurring, gram-positive, spore-forming soil bacterium. Bt has been known to be reservoir of several insecticidal proteins, such as endotoxins, cytolytic proteins, vegetative insecticidal proteins, etc.

During sporulation, it synthesizes a cytoplasmic inclusion containing one or more proteins that are toxic to insect larvae. Upon completion of sporulation the parent bacterium lyses to release the spore and the inclusion. In these inclusions, the toxins exist as inactive protoxins. When the inclusions are ingested by insect larvae, the alkaline pH solubilizes the crystal. The protoxin is then converted in to an active toxin after processing by the host proteases present in the midgut.

135. Answer: A**Sol:**

12th NCERT, Page No.- 111

136. Answer: A**Sol:**

Up right

12th NCERT PAGE NO.- 212

137. Answer: B**Sol:**

Pteridophytes are developed plants which can survive on land as they have well developed vascular tissues. The main plant body of these plants is diploid, called sporophyte which produces spores after meiosis. These spores on germination give rise to gametophytic plants which produce gametes. The spores do not develop a hard coating around them and thus are unable to form seeds.

138. Answer: A**Sol:**

It is initiated by stretch receptors in the ureters

139. Answer: C**Sol:**

Type of pyramid	Ecosystem
Pyramid of energy	Grassland ecosystem

140. Answer: A**Sol:**

Mendelism is related to heredity. The three prominent law given by Mendel proved its relationship with inheritance. The law of segregation states that each character is regulated by a gene which exists in two forms for a particular character known as allele which segregates into different gametes. The law of independent assortment states that alleles for separate traits are passed independently of one another from parents to offspring. Law of dominance states that the dominant characters mask the effect of the recessive allele.

141. Answer: C

Sol:

11th NCERT, PAGE NO.- 172

142. Answer: A

Sol:

Class 12th NCERT Page No. 181, 185

143. Answer: B

Sol:

Algae are surrounded by mucilagenous sheath and below the sheath, cell wall is present which is made up of cellulose and pectin, but galactans, mannans and mineral like calcium carbonate are present in cell wall also.

144. Answer: B

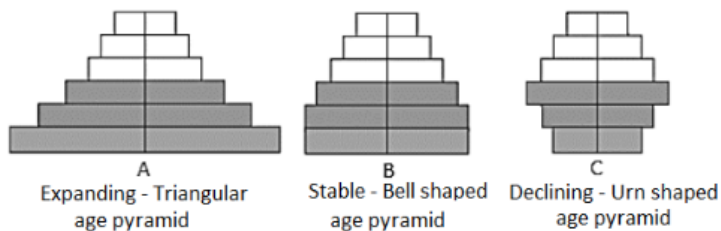
Sol:

Class XIth NCERT Page No. 213

145. Answer: C

Sol:

The age pyramids for human population generally shows age distribution of males and females in a combined diagram. The shape reflects the growth status of the population as shown below.



The given age pyramid represents the declining population. A population can shrink due to declining birth rate.

146. Answer: C

Sol:

Class 12th NCERT Page No. 67

147. Answer: C

Sol:

If assertion is true but reason is false.

11th NCERT, PAGE NO.- 169

148. Answer: B

Sol:

Class 12th NCERT Page No. 170, 171

149. Answer: C**Sol:**

Naked seeds of gymnosperms mean the seeds are not covered inside in an ovary but are present on megasporophyll, the leaf like structures.

150. Answer: B**Sol:**

Class 12th NCERT Page No. 260

151. Answer: B**Sol:**

Sickle cell disease (SCD) is a group of blood disorders typically inherited from a person's parents. The most common type is known as sickle cell anaemia (SCA). It results in an abnormality in the oxygen-carrying protein haemoglobin found in red blood cells. Sickle cell disease occurs when a person inherits two abnormal copies of the β -globin gene (HBB) that makes haemoglobin, one from each parent. This gene occurs in chromosome 11. Several subtypes exist, depending on the exact mutation in each haemoglobin gene. An attack can be set off by temperature changes, stress, dehydration, and high altitude. A person with a single abnormal copy does not usually have symptoms and is said to have sickle cell trait.

Hence, the correct answer is **β chain of haemoglobin.**

152. Answer: C**Sol:**

Gibberellins (Gibberellic Acids) are plant hormones that control, among other things, **stem elongation, germination, dormancy, flowering, floral development, and leaf and fruit senescence.** Gibberellin spraying on juvenile conifers **accelerates maturity, resulting in early seed production.**

153. Answer: A**Sol:**

In Aschelminthes, the body cavity is not lined by mesoderm, instead, the mesoderm is present as scattered pouches in between the ectoderm and endoderm. Hence, they are called pseudocoelomates.

154. Answer: C**Sol:**

Class 12th NCERT (New) Page No.157

155. Answer: C**Sol:**

Class 12th NCERT Page No. 74

156. Answer: B**Sol:**

Haploid plant cultures can be obtained by pollen grains by the technique of pollen culture. Pollen culture is a technique of production of haploid plants by culture of pollen grains obtained from anther of a plant under aseptic condition on artificial media of known composition. When the anther is used as the explant material for the cultivation of new plants by the tissue culture technique, then there are some plants which are developed as haploid and the other plants are developed as the diploid plants. There are different types of tissues which are present in the anther. The pollen grains and the respective cells like the vegetative cell and generative cell will give rise to the plants which are haploid because they are formed through microsporogenesis. The other cells like the cells of anther wall, endothecium, middle layers are diploid in nature and give rise to diploid plants.

157. Answer: B**Sol:**

Cephalochordates and vertebrates have a hollow, dorsal nerve cord, pharyngeal gill slits, and a notochord. In most vertebrates, the embryonic notochord is eventually replaced by bony vertebrae or cartilaginous tissue; among cephalochordates, the notochord is retained into adulthood and is never replaced by vertebrae. But urochordates have notochord in the tail region in their larval stage only.

158. Answer: D**Sol:**

Xerophytes desert plants grow in physical or physiological dryness. The water is not easily available and they need to conserve water. These plants have well developed roots to absorb water. They have other adaptations to reduce transpiration loss of water, like multilayered epidermis, sunken stomata, thick waxy cuticle, stomata are present in lower epidermis sunken in substomatal chambers, which has hairs.

159. Answer: A**Sol:**

Mutagen is a physical or chemical agent that changes the genetic material, usually DNA, of an organism and thus increases the frequency of mutations above the natural background level. As many mutations can cause cancer, mutagens are therefore also likely to be carcinogens, although not always necessarily so. Due to mutation phenotype and genotype of offspring affect.

Toxin - A toxin is a harmful substance produced within living cells or organism

Cytotoxin - Cytotoxic agents are known as all the elements that are toxic to the cells, which include the factors that prevent their growth and sometimes cause death, and are also used to treat certain disorders.

Alkaloid - Alkaloids are a class of basic, naturally occurring organic compounds that contain at least one nitrogen atom. Alkaloids stimulate human organisms, for example, central nervous system, or directly work on the human brain.

160. Answer: D**Sol:**

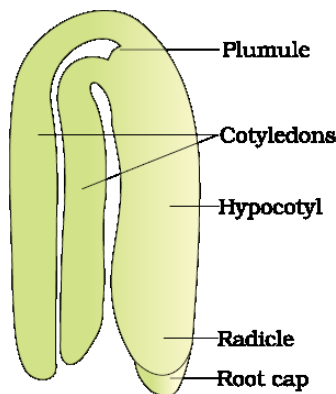
In cleistogamous flowers, the anthers and stigma lie close to each other. When anthers dehisce in the flower buds, pollen grains come in contact with the stigma to effect pollination. Thus, cleistogamous flowers are **invariably autogamous** as there is **no chance of cross-pollen** landing on the stigma. **Cleistogamous flowers produce assured seed-set even in the absence of pollinators. eg- viola, oxalis etc.** While in chasmogamous flowers are similar to flowers of other species with exposed anthers and stigma. Their flower are coloured contain aroma and nectar.

161. Answer: B**Sol:**

Physalia - Portuguese man of war, Pennatula - Sea pen, Gorgonia - Sea fan, and Menandrina - Brain coral.

162. Answer: B**Sol:**

In kingdom Animalia, the outer covering of the cell is known as a cell membrane, while the cell wall is the outer covering of the plant cell, fungal cell, and some bacterial cells.

163. Answer: B**Sol:**

A is plumule which helps in shoot system formation.

B is Radicle which helps in root system formation.

C is Cotyledon which helps in food storage.

164. Answer: B**Sol:**

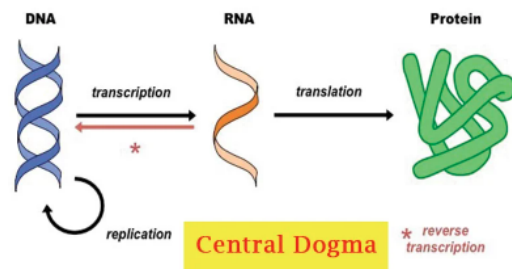
The **central dogma** is the process by which the instruction in the DNA is converted into proteins.

Central dogma was proposed by **Francis Crick**.

The formation of DNA from DNA is called **replication**.

The formation of RNA from DNA is known as **transcription**.

The conversion of RNA into proteins is called **translation**.

**165. Answer: B****Sol:**

Fasciola hepatica, also known as the sheep liver fluke, is a triploblastic organism (first in platyhelminthes to chordates).

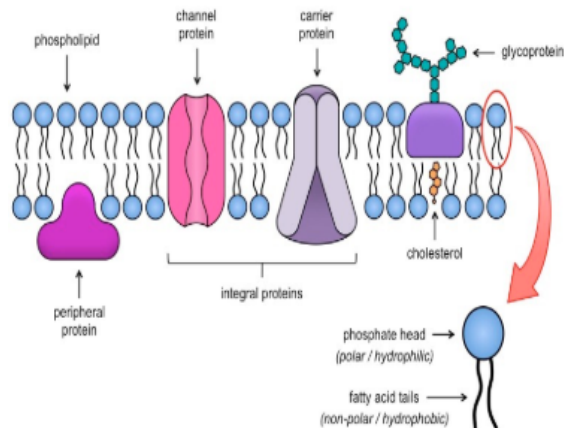
Nereis (Annelida) is the first true coelomate, which is a fluid-filled body cavity lined by mesoderm.

Antedon, also known as the sea lily is a member of the phylum Echinodermata is First enterocoelomate.

Adamsia (Cnidarians) are the first organisms to have tissue-level organization, and are considered to be at the tissue grade of organization.

166. Answer: C**Sol:**

The fluid mosaic model was first proposed by S.J. Singer and Garth L. Nicolson in 1972 to explain the structure of the plasma membrane. The model has evolved somewhat over time, but it still best accounts for the structure and functions of the plasma membrane as we now understand them.



167. Answer: B**Sol:**

The theory that each gene is responsible for the synthesis of a single polypeptide. It was originally stated as the "one gene, one enzyme hypothesis" by George Beadle, but was later modified when it was realized that genes also encoded non-enzyme proteins and individual polypeptide chains. It is now known that some genes code for various types of RNA involved in protein synthesis.

168. Answer: B**Sol:**

Biomolecules with molecular weights more than one thousand Dalton are called biomacromolecules. These are found in the acid-insoluble fraction. Lipids are not strictly macromolecules as their molecular weights do not exceed 800 Da but form a part of the acid insoluble pool. The molecules in the insoluble fraction with the exception of lipids are polymeric substances. Lipids are indeed small molecular weight compounds and are present not only as such but also arranged into structures like cell membrane and other membranes. So the acid insoluble fraction has only four types of organic compounds, proteins, polysaccharides nucleic acids and lipids but except for lipids none of them are micromolecules.

169. Answer: D**Sol:**

Inside the primary cell wall.

170. Answer: A**Sol:**

Class 12th NCERT Page No. 102

171. Answer: B**Sol:**

Different types of epithelial cell junctions are:-

- 1) Desmosomes (Semi or full).
- 2) Gap junctions
- 3) Tight junctions
- 4) Adheren points.

GAP JUNCTION:- These junctions connect cells with one another for transporting molecules directly into the other cell without moving from the extracellular fluid. These gap junctions are useful at the time of embryonic development, this is the time when every cell should communicate with each other in order to develop fully at the right time. If these are blocked, embryos will not develop normally.

TIGHT JUNCTION - These junctions are narrow junctions that prevent solute leakage and seal the epithelial cells in between.

ADHERING JUNCTION - These are cell adhesion complexes that help in maintaining the structural support against harsh and changing environments against the biogeochemical changes.

172. Answer: C**Sol:**

Pectate Ca & Mg

11th NCERT PAGE NO.- 94

173. Answer: C**Sol:**

- **Polyamines** maintained DNA coiled in prokaryotes, they did this by binding to the minor groove of DNA.
- Eukaryotes wrap their DNA around the protein called **histone**. It helps in packaging the DNA into smaller pieces.
- **Prokaryotes** do not have histone proteins, they have non-histone protein and they compress their DNA by **supercoiling**.

Hence, the correct option is "3" - Polyamines.**174. Answer: A****Sol:**

Mushroom glands- 6th 7th abdominal segment.

Testes- 4th 6th abdominal segment.

Spermathecal- 6th abdominal segment.

Anal cerci- 10th abdominal segment.

Mushroomshaped gland is present in the 6th-7th abdominal segments which functions as an accessory reproductive gland. The external genitalia are represented. Male reproductive system consists of a pair of testes lying one on each lateral side in the 4th -6th abdominal segments. From each testis arises a thin vas deferens, which opens into ejaculatory duct through seminal vesicle. A pair of spermatheca is present in the 6th segment which opens into the genital chamber. Anal cerci are a pair of appendages at the end of the abdomen arising from the 10th segment of the body of the cockroaches in both sexes males and females. Cerci are pincer-shaped.

175. Answer: B**Sol:**

G₁ phase is also known as the first gap. It is usually the longest period of the cell cycle. However in some embryonic cells that are rapidly dividing G₁, might only last a few minutes. It synthesizes mRNA and proteins.

176. Answer: C**Sol:**

1. **Acquired immunity** is a specific type of defence which is not present at the **time of birth**.
2. **Anamnestic** response or **secondary** immune response is a **highly intensified response due to memory of first encounter**.
3. When our body **encounters a pathogen** for the first time then the body **elicits the primary immune response**.
4. When there is **a subsequent encounter** with the same pathogen, secondary or **anamnestic immune** response is elicited.

177. Answer: C**Sol:**

Mitosis is the process of cell division where a haploid cell has the ability to divide and form two daughter cells. In mitosis, the cell phases are interphase, prophase, metaphase, anaphase, and telophase. Mitosis occurs in all types of cells that are somatic cells but doesn't occur in gamete cells.

It also occur in haploid male honey bee not in female.

178. Answer: C**Sol:**

- (a) Filariasis - (iii) Wuchereria bancrofti
- (b) Amoebiasis - (iv) Entamoeba histolytica
- (c) Pneumonia - (i) Haemophilus influenzae
- (d) Ringworm - (ii) Trichophyton

179. Answer: C**Sol:**

Karyokinesis has 4 stages

- (i) Prophase
- (ii) Metaphase
- (iii) Anaphase
- (iv) Telophase

180. Answer: C**Sol:**

12th NCERT, PAGE NO.- 157

YOUR SUCCESS STARTS HERE



ADMISSION OPEN (JEE/NEET)

MOTION

PRE-ENGINEERING
JEE (Main+Advanced)

PRE-MEDICAL
NEET

Olympiads (Class 6th to 10th)
Boards

CORPORATE OFFICE

"Motion Education" 394, Rajeev Gandhi Nagar, Kota 324005 (Raj.)

Toll Free : 18002121799 | www.motion.ac.in | Mail : info@motion.ac.in

**MOTION
LEARNING APP**



Scan Code for Demo Class